

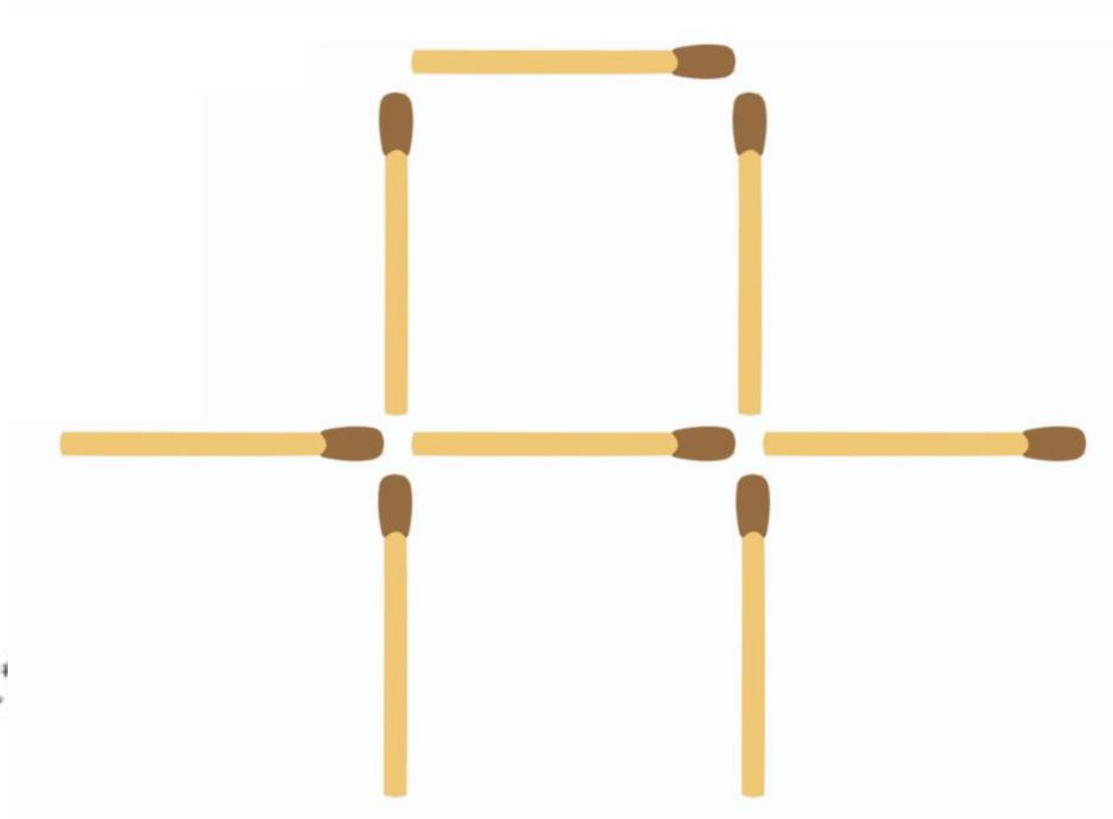


MATEMÁTICA – DESAFIOS MATEMÁTICOS

Desafios com palitos, jogos para estimular e desenvolver o raciocínio lógico, ELTON FARIA BASTOS.

Data: 15 de dezembro de 2020

CRIE 2 QUADRADOS



Mova 2 palitos e crie 2 quadrados.

Para realizar essa atividade você pode utilizar lápis, canetas, canetinhas, gravetos, palitos ou o que desejar para construir os quadrados.

Terminou a atividade?

Tire uma foto e envie para a professora apreciar!

BONS ESTUDOS!!!






MATEMÁTICA – DESAFIOS MATEMÁTICOS

Desafios com palitos, jogos para estimular e desenvolver o raciocínio lógico, ELTON FARIA BASTOS.

Data: 16 de dezembro de 2020

3 QUADRADOS



Mova 3 palitos para formar 3 quadrados.

Para realizar essa atividade você pode utilizar lápis, canetas, canetinhas, gravetos, palitos ou o que desejar para construir os triângulos.

Terminou a atividade?

Tire uma foto e envie para a professora apreciar!

BONS ESTUDOS!!!






MATEMÁTICA – DESAFIOS MATEMÁTICOS

Desafios com palitos, jogos para estimular e desenvolver o raciocínio lógico, ELTON FARIA BASTOS.

Data: 17 de dezembro de 2020

4 EM 2



A figura apresenta 4 quadrados com o mesmo tamanho.
Remova 2 palitos e deixe apenas 2 quadrados.
Topa o desafio?

Para realizar essa atividade você pode utilizar lápis, canetas, canetinhas, gravetos, palitos ou o que desejar para construir os quadrados.

Terminou a atividade?

Tire uma foto e envie para a professora apreciar!

BONS ESTUDOS!!!



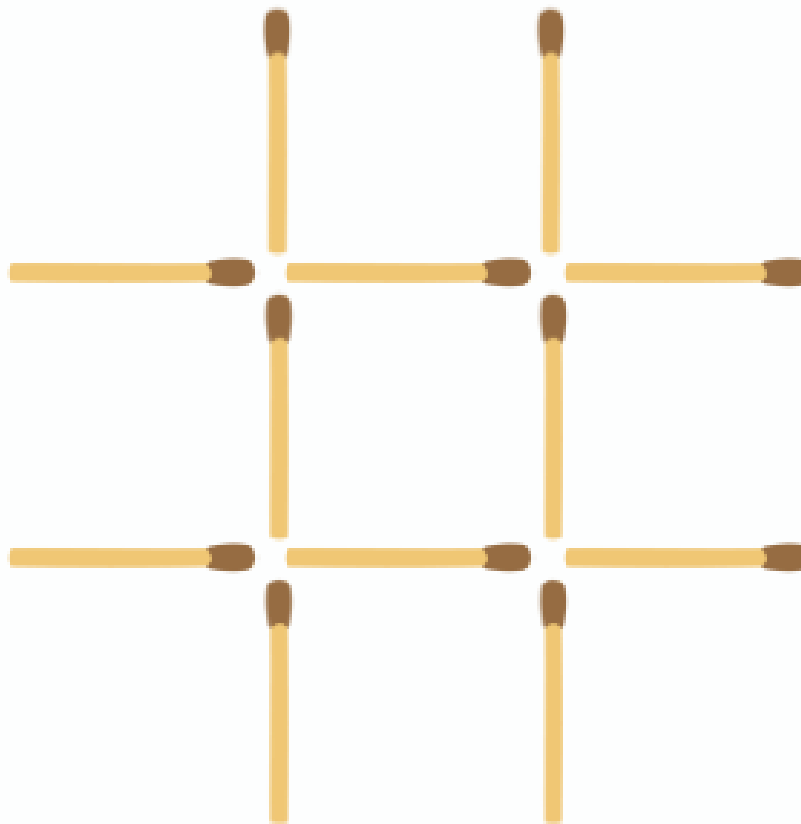


MATEMÁTICA – DESAFIOS MATEMÁTICOS

Desafios com palitos, jogos para estimular e desenvolver o raciocínio lógico, ELTON FARIA BASTOS.

Data: 18 de dezembro de 2020

FORME 3 QUADRADOS



Observe a figura. Mova 4 palitos e crie 3 quadrados!
Atenção!

Os três quadrados devem ficar com o mesmo tamanho.

Para realizar essa atividade você pode utilizar lápis, canetas, canetinhas, gravetos, palitos ou o que desejar para construir os quadrados.

Terminou a atividade?

Tire uma foto e envie para a professora apreciar!

BONS ESTUDOS!!!






MATEMÁTICA – DESAFIOS MATEMÁTICOS

Desafios com palitos, jogos para estimular e desenvolver o raciocínio lógico, ELTON FARIA BASTOS.

Data: 21 de dezembro de 2020

4 QUADRADOS



CIME
BAIRRO
FONE (FAX)

Super desafio!

**Mova 3 palitos e crie 4 quadrados com o mesmo tamanho.
Topa o desafio?**

Para realizar essa atividade você pode utilizar lápis, canetas, canetinhas, gravetos, palitos ou o que desejar para construir os quadrados.

Terminou a atividade?

Tire uma foto e envie para a professora apreciar!

BONS ESTUDOS!!!



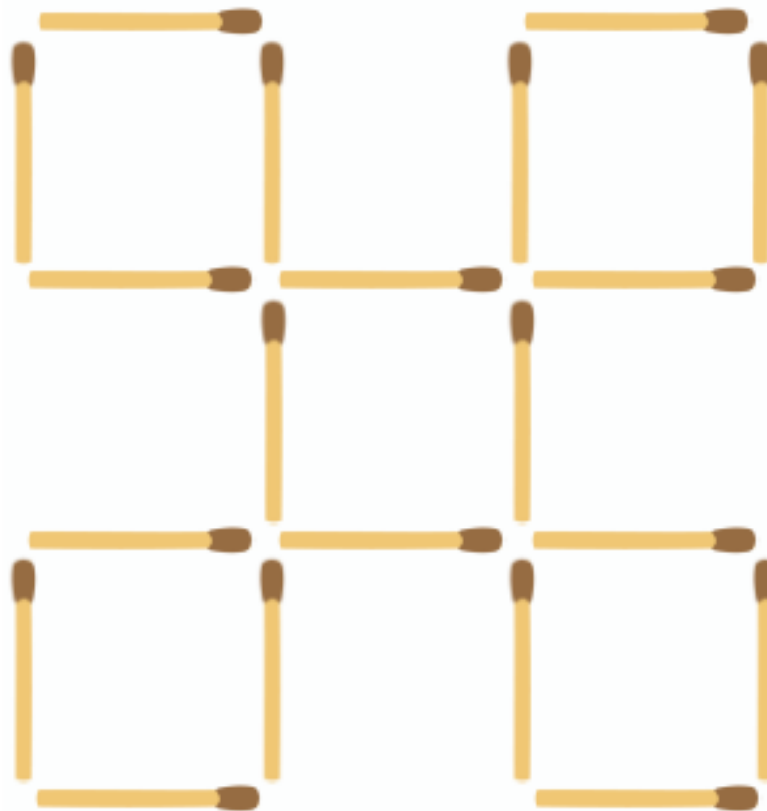


MATEMÁTICA – DESAFIOS MATEMÁTICOS

Desafios com palitos, jogos para estimular e desenvolver o raciocínio lógico, ELTON FARIA BASTOS.

Data: 22 de dezembro de 2020

7 QUADRADOS



CIME "PROFESSORA
RIBEIRO GUILARDI"
BAIRRO BOA VEREDA
FONE (FAX) – 19 – 3807-9793

Observe a figura, ela apresenta 5 quadrados.
Seu desafio é mover 3 palitos e formar 7 quadrados.
Aceita o desafio?

Para realizar essa atividade você pode utilizar lápis, canetas, canetinhas, gravetos, palitos ou o que desejar para construir os quadrados.

Terminou a atividade?

Tire uma foto e envie para a professora apreciar!

BONS ESTUDOS!!!

