



1º Ano – Professora Letícia Carradori Boyago

07 DE DEZEMBRO DE 2020

SEGUNDA-FEIRA

MATEMÁTICA

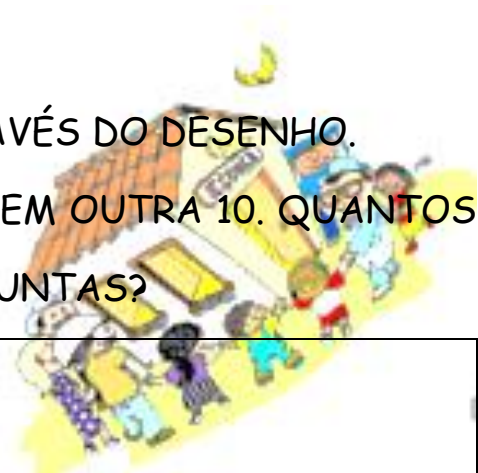
ORGANIZE OS NÚMEROS ABAIXO EM ORDEM CRESCENTE.

91	94	92	95	98	99	97	90	96	93



SITUAÇÃO PROBLEMA - RESOLVA ATRAVÉS DO DESENHO.

EM UMA PRATELEIRA HÁ 20 LIVROS E EM OUTRA 10. QUANTOS LIVROS HÁ NAS DUAS PRATELEIRAS JUNTAS?



CIME "PROFESSORA JACYRA RIBEIRO GUILARDI"
RODOVIA MUNICIPAL 379
BAIRRO BOA VEREDA – AMPARO – SP
FONE (FAX) – 19 – 3807-9793

EMAI - SEQUÊNCIA 19, ATIVIDADE 19.5

CONVERSA INICIAL

A. VOCÊ SE LEMBRA DA SOFIA? E DA ORGANIZAÇÃO DE SEU DIA?

B. E O SEU DIA, VOCÊ SEGUE UMA ROTINA DIÁRIA?




1º Ano – Professora Letícia Carradori Boyago

ATIVIDADE 19.5

1. RELATE PARA SEUS(SUAS) COLEGAS A ORGANIZAÇÃO DO SEU DIA, DEPOIS ANOTE NO QUADRO ABAIXO, O HORÁRIO QUE OCORREM OS ACONTECIMENTOS.

EU ME LEVANTO	EU ENTRO NA ESCOLA	EU SAIO DA ESCOLA
EU ALMOÇO	EU JANTO	EU VOU DORMIR



CIME "PROFESSORA JACYRA RIBEIRO GUILARDI"
RODOVIA MUNICIPAL 379
BAIRRO BOA VEREDA – AMPARO – SP
FONE (FAX) – 19 – 3807-9793

TERMINANDO A ATIVIDADE, TIRE UMA



E ENVIE

PARA A PROFESSORA ANALISAR!



1º Ano – Professora Letícia Carradori Boyago

08 DE DEZEMBRO DE 2020

TERÇA-FEIRA

MATEMÁTICA

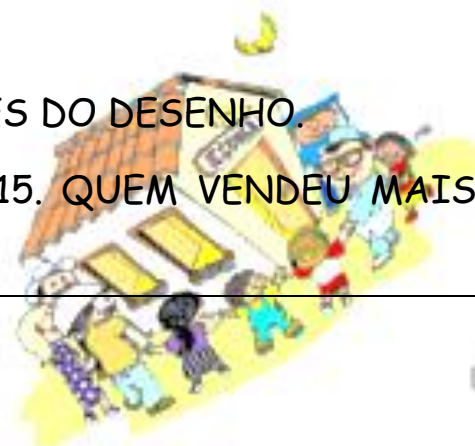
ORGANIZE OS NÚMEROS ABAIXO EM ORDEM DECRESCENTE.

94	91	99	93	96	98	95	90	97	92



SITUAÇÃO PROBLEMA - RESOLVA ATRAVÉS DO DESENHO.

LUCAS VENDEU 25 PICOLÉS E GABRIEL 15. QUEM VENDEU MAIS PICOLÉS? QUANTOS A MAIS?



CIME "PROFESSORA JACYRA RIBEIRO GUILARDI"
RODOVIA MUNICIPAL 379
BAIRRO BOA VEREDA – AMPARO – SP
FONE (FAX) – 19 – 3807-9793

EMAI - SEQUÊNCIA 20, ATIVIDADE 20.1

CONVERSA INICIAL

HOJE IREMOS DAR INÍCIO A ATIVIDADE RESPONDENDO A ALGUNS QUESTIONAMENTOS.

A. VOCÊ POSSUI ALBUM DE FIGURINHAS?



1º Ano – Professora Letícia Carradori Boyago


B. EXISTE ALGUMA REGRA PARA COLAR AS FIGURINHAS NO ALBUM?

C. VOCÊ JÁ OBSERVOU O QUADRO DE NÚMEROS QUE APARECE NA PARTE DE TRÁS DO ALBUM?

D. SABE PARA QUE ESSE QUADRO SERVE?

E. VOCÊ SABE O QUE É UMA SEQUÊNCIA?

F. COMO PODEMOS FORMAR UMA SEQUÊNCIA NUMÉRICA?



CIME "PROFESSORA JACYRA RIBEIRO GUILARDI"
RODOVIA MUNICIPAL 379
BAIRRO BOA VEREDA – AMPARO – SP
FONE (FAX) – 19 – 3807-9793

TERMINANDO A ATIVIDADE, TIRE UMA



E ENVIE

PARA A PROFESSORA ANALISAR!



1º Ano – Professora Letícia Carradori Boyago

09 DE DEZEMBRO DE 2020

QUARTA-FEIRA

MATEMÁTICA

DITADO DE SONDAAGEM



CIME "PROFESSORA JACYRA RIBEIRO GUILARDI"
RODOVIA MUNICIPAL 379
BAIRRO BOA VEREDA – AMPARO – SP
FONE (FAX) – 19 – 3807-9793

TERMINANDO A ATIVIDADE, TIRE UMA



E ENVIE

PARA A PROFESSORA ANALISAR!



1º Ano – Professora Letícia Carradori Boyago

10 DE DEZEMBRO 2020

QUINTA-FEIRA

MATEMÁTICA

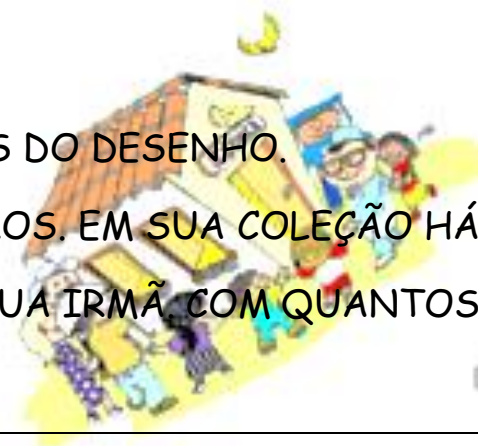
ESCREVA OS NÚMEROS QUE FALTAM NA SEQUÊNCIA DE ACORDO COM A REGRA INDICADA.

90	92					
----	----	--	--	--	--	--



SITUAÇÃO PROBLEMA - RESOLVA ATRAVÉS DO DESENHO.

JÚLIA POSSUI UMA COLEÇÃO DE CHAVEIROS. EM SUA COLEÇÃO HÁ 30 CHAVEIROS. JÚLIA RESOLVEU DAR 15 PARA SUA IRMÃ. COM QUANTOS CHAVEIROS FICARÁ A COLEÇÃO DE JÚLIA?



CIME "PROFESSORA JACYRA RIBEIRO GUILARDI"
RODOVIA MUNICIPAL 379
BAIRRO BOA VEREDA – AMPARO – SP
FONE (FAX) – 19 – 3807-9793

EMAI - SEQUÊNCIA 20, ATIVIDADE 20.1

CONVERSA INICIAL

CONTINUAÇÃO DA ATIVIDADE.
















1º Ano – Professora Letícia Carradori Boyago

ÁLBUNS DE FIGURINHAS



ATIVIDADE 20.1

1. VEJA A PÁGINA DO ÁLBUM DAS BORBOLETAS DE LUÍSA:

				
21	22	23	24	25
				
26	27	28	29	30
				
31	32	33	34	35
				
36	37	38	39	40

A. EM QUAIS ESPAÇOS AINDA FALTAM FIGURINHAS? INDIQUE QUAIS SÃO ESSES NÚMEROS:

B. INDIQUE OS NÚMEROS EM QUE AS BORBOLETAS SÃO IGUAIS:

TERMINANDO A ATIVIDADE, TIRE UMA



E ENVIE

PARA A PROFESSORA ANALISAR!



1º Ano – Professora Letícia Carradori Boyago

11 DE DEZEMBRO DE 2020

SEXTA-FEIRA

MATEMÁTICA



DITADO DE NÚMEROS (A PROFESSORA ENVIARÁ OS NÚMEROS ATRAVÉS DE ÁUDIO).



SITUAÇÃO PROBLEMA (RESOLVER ATRAVÉS DO DESENHO)

EM UM JOGO CARLOS GANHOU 18 BOLINHAS NA PRIMEIRA RODADA E 7 NA SEGUNDA. QUANTAS BOLINHAS DE GUDE CARLOS GANHOU?



EMA1 SEQUÊNCIA 20, ATIVIDADE 20.2
CONVERSA INICIAL

A. O QUE É UMA SEQUÊNCIA NUMÉRICA?

B. EXISTE UMA ORDEM PARA INICIARMOS UMA SEQUÊNCIA NUMÉRICA?

C. DÊ UM EXEMPLO DE UMA SEQUÊNCIA NUMÉRICA QUE NÃO SE INICIE PELO NÚMERO 1.



1º Ano – Professora Letícia Carradori Boyago

ATIVIDADE 20.2

1. AGORA OBSERVE A PÁGINA DO ÁLBUM DE MATEUS.

				
41			44	
				
	47		49	
				
51		53		55
				
56				60

CIV

A. COLOQUE NOS ESPAÇOS OS NÚMEROS EM QUE AINDA FALTAM FIGURINHAS:

B. EM QUE QUADRADINHOS HÁ CARRINHOS VERDES?

C. EM QUE QUADRADINHOS HÁ CARRINHOS VERMELHOS?

TERMINANDO A ATIVIDADE, TIRE UMA



E ENVIE

PARA A PROFESSORA ANALISAR!