



ATIVIDADE DA FOLHINHA

AMPARO, _____ DE _____ DE 2020

HOJE É _____

NOME: _____

Locução adjetiva

Faça como no exemplo.

amor **materno** → amor de **mãe**

- | | | |
|-------------|-------------------|-------|
| a) força | leonina | _____ |
| b) raios | solares | _____ |
| c) carne | bovina | _____ |
| d) carinho | paterno | _____ |
| e) estrada | férrea | _____ |
| f) linguiça | suína | _____ |
| g) produto | brasileiro | _____ |
| h) jeito | angelical | _____ |
| i) atitude | atlética | _____ |
| j) higiene | bucal | _____ |
| k) cirurgia | cardíaca | _____ |
| l) olhos | felinos | _____ |





ATIVIDADE DA FOLHINHA

AMPARO, _____ DE _____ DE 2020

HOJE É _____

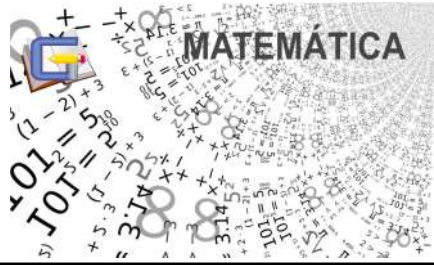
NOME: _____

Complete as frases com os adjetivos correspondentes às locuções adjetivas entre parênteses.

- a) Paulo e Vitor têm muitas tarefas _____ para fazer hoje.
(da escola)
- b) Meu pai adora ler o jornal _____.
(jornal da manhã)
- c) Minha família gosta de comer carne _____.
(carne de boi)
- d) Minha irmã expõe na Feira de Artesanato todo domingo, fico orgulhoso do seu trabalho _____ dela. (trabalho feito com as mãos)
- e) Na praia devemos nos prevenir sempre contra os raios _____, pois fazem mal à saúde. (raios do sol)
- f) O povo _____ exerce melhor sua cidadania. (com educação)
- g) É preciso tratar nossos idosos de forma _____.
(com respeito)
- h) O que salvou a criança foram os cuidados _____.
(cuidados de mãe)
- i) Devido as chuvas em toda a cidade, nossas ruas estão _____.
(com buracos)
- j) As noites _____ no Rio de Janeiro são magníficas.
(noites de carnaval)

www.saladeatividades.com.br





ATIVIDADE DA FOLHINHA

AMPARO, _____ DE _____ DE 2020

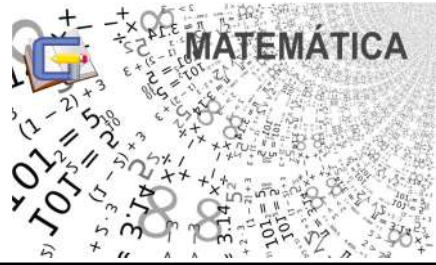
HOJE É _____

NOME: _____

Vamos dividir:

$156 \overline{)3}$	$123 \overline{)6}$	$215 \overline{)2}$	$763 \overline{)7}$
$636 \overline{)8}$	$793 \overline{)5}$	$276 \overline{)2}$	$529 \overline{)6}$
$638 \overline{)4}$	$344 \overline{)8}$	$242 \overline{)7}$	$898 \overline{)7}$
$211 \overline{)8}$	$216 \overline{)6}$	$869 \overline{)5}$	$136 \overline{)4}$





ATIVIDADE DA FOLHINHA

AMPARO, _____ DE _____ DE 2020
 HOJE É _____
 NOME: _____

CRUZADINHA

Resolva as operações e preencha a cruzadinha com os resultados, observando as setas.



A →				F ↓	G ↓
	B ↓	C →			
E →		D ↓			
H →					
					J ↓
	I →				
			K →		

(A) $\begin{array}{r} 9\ 6\ 4\ 3 \\ -1\ 4\ 5\ 1 \\ \hline \dots \end{array}$	(B) $\begin{array}{r} 4\ 9\ 7\ 3 \\ +\ 1\ 5\ 9 \\ \hline \dots \end{array}$	(C) $\begin{array}{r} 1\ 2\ 8\ 7 \\ +2\ 7\ 3\ 6 \\ \hline \dots \end{array}$	(D) $\begin{array}{r} 6\ 2\ 9\ 6 \\ -2\ 7\ 5\ 8 \\ \hline \dots \end{array}$	(E) $\begin{array}{r} 2\ 4 \\ +5\ 9 \\ \hline \dots \end{array}$	(F) $\begin{array}{r} 9\ 8\ 2\ 6 \\ -7\ 5\ 6\ 8 \\ \hline \dots \end{array}$
(G) $\begin{array}{r} 5\ 7\ 6\ 4 \\ +1\ 5\ 7\ 9 \\ \hline \dots \end{array}$	(H) $\begin{array}{r} 2\ 7\ 9\ 0 \\ +\ 4\ 6\ 0 \\ \hline \dots \end{array}$	(I) $\begin{array}{r} 6\ 8\ 6 \\ -\ 4\ 9\ 7 \\ \hline \dots \end{array}$	(J) $\begin{array}{r} 1\ 7\ 8 \\ +2\ 4\ 2 \\ \hline \dots \end{array}$	(K) $\begin{array}{r} 6\ 1\ 9 \\ +\ 2\ 1\ 1 \\ \hline \dots \end{array}$	





ATIVIDADE DA FOLHINHA

AMPARO, _____ DE _____ DE 2020
HOJE É _____
NOME: _____

HERBÍVOROS, CARNÍVOROS E ONÍVOROS

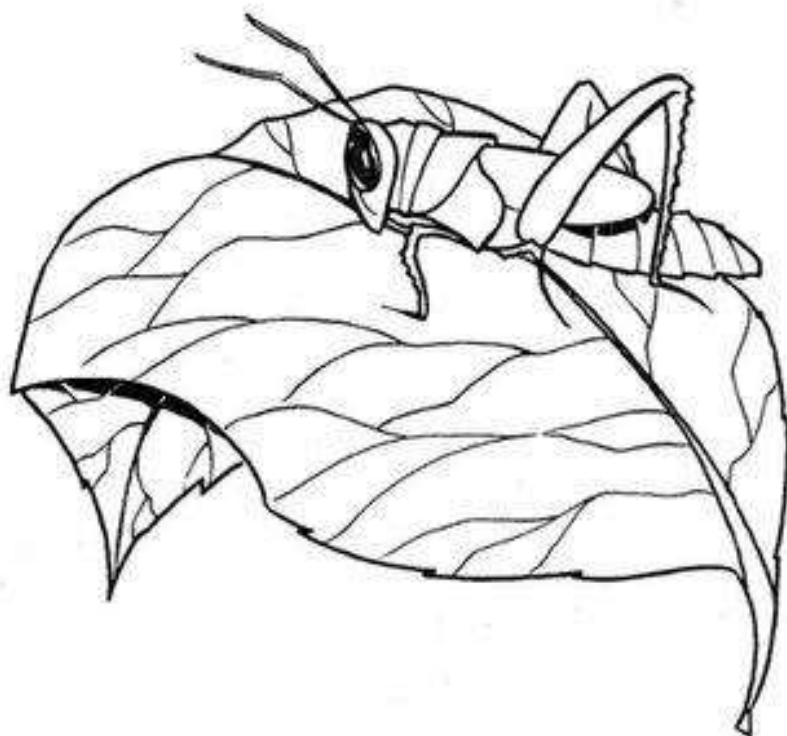
1) Indique o hábito alimentar dos animais abaixo usando:

H- Herbívoros

C- Carnívoros

O- Onívoros

- () Macaco
- () Leão
- () Gafanhoto
- () Homem
- () Boi
- () Porco
- () Sapo
- () Águia
- () Cavalo
- () Coelho
- () Lobo
- () Tamanduá
- () Foca
- () Lagarta
- () Cobra



2) Baseando-se na alimentação dos animais, o que você entende por:

a) Animal herbívoro: _____

b) Animal carnívoro: _____

c) Animal onívoro: _____





ATIVIDADE DA FOLHINHA

AMPARO, _____ DE _____ DE 2020
HOJE É _____
NOME: _____

Poluição: ameaça à qualidade da ÁGUA

A poluição dos rios, dos lagos e das lagoas, muito frequente nos dias de hoje, é a principal ameaça à qualidade e à disponibilidade de água doce no mundo. No Brasil, a principal forma de poluição das águas é o lançamento de esgotos domésticos e industriais nos corpos d'água. Basta lembrar que mais de 95% dos municípios brasileiros não dispõem de nenhuma forma de tratamento de seus esgotos, que são lançados diretamente em rios, lagos e lagoas.

Nas regiões onde há pouca água, como a Região Nordeste, a poluição agrava mais os problemas decorrentes da falta desse líquido, à medida que o torna impróprio para uso nas casas e na agricultura (através da irrigação).

A água poluída pode também ser uma fonte de transmissão de doenças ao homem, muitas delas de bastante gravidade, como hepatite, cólera e diarreia. Além disso, a poluição causa graves prejuízos para a flora e a fauna dos rios e dos lagos, já que muitas espécies desaparecem desses ecossistemas.

Esteves, Francisco de Assis. Fecha a torneira! Ciência Hoje das Crianças, Rio de Janeiro, ano 11, n. 80



Estudando o texto

Sobre o texto, responda:

- Qual é o título do texto? _____
- Qual é o nome do autor? _____
- Onde o texto foi publicado? _____
- Qual é a data de publicação do texto? _____

2) O texto está organizado em três parágrafos. O primeiro parágrafo trata da ameaça à qualidade e à disponibilidade de água doce no mundo e no Brasil. Quais os assuntos tratados nos demais parágrafos? _____

3) De acordo com o texto, responda oralmente:

- Qual é a principal forma de poluição das águas no Brasil? _____
- _____





ATIVIDADE DA FOLHINHA

AMPARO, _____ DE _____ DE 2020

HOJE É _____

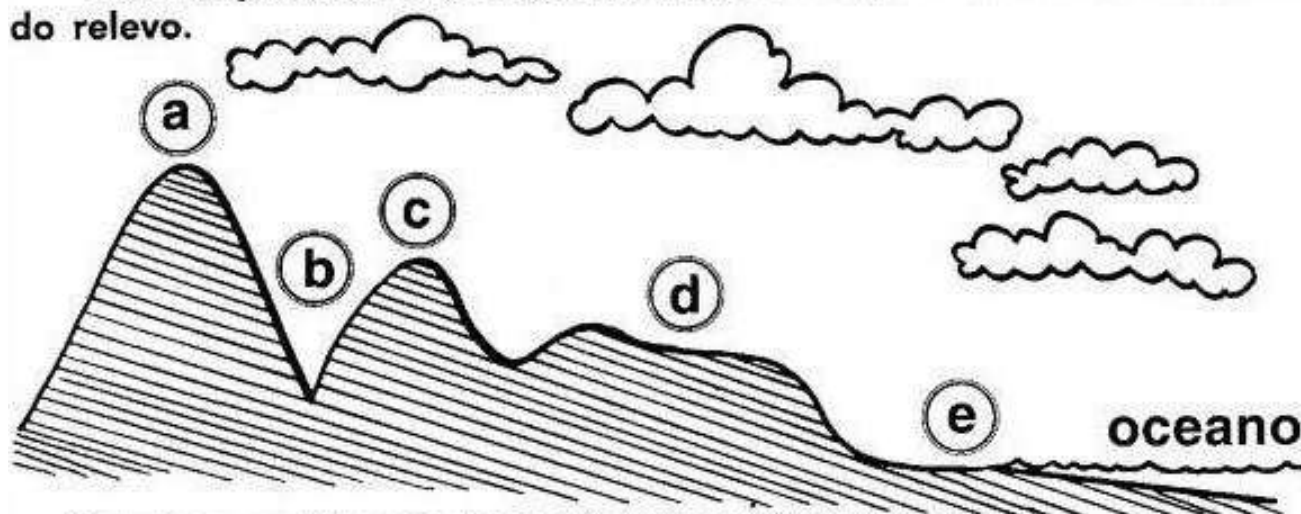
NOME: _____

Relevo

A superfície da Terra não é toda igual.

Ela apresenta diferentes formas com altitudes variadas. Se você fizesse uma viagem de carro por todo o Brasil, notaria que existem lugares bem mais altos do que outros e, também, que alguns são mais ondulados e outros mais planos.

Esse conjunto de diferenças na forma da superfície terrestre é chamado relevo.



◆ Relacione as letras do desenho com as formas de relevo:

Montanha

Planalto

Vale

Planície

Morro



CURIOSIDADES: Você sabia...

... que o homem modifica o relevo retirando o minério das montanhas, construindo barragens, túneis, desviando cursos de rios, etc., para melhorar suas condições de vida?

...que as montanhas não são apenas obstáculos ao desenvolvimento, mas também amenizam o clima e são depósitos naturais de minérios?



... que Minas Gerais é também denominada Terra das Alterosas por causa de seu relevo, o mais montanhoso do Brasil?

... que Topografia é um conjunto de acidentes geográficos existentes em determinada região, e que são os rios, montanhas, vegetações, o clima?





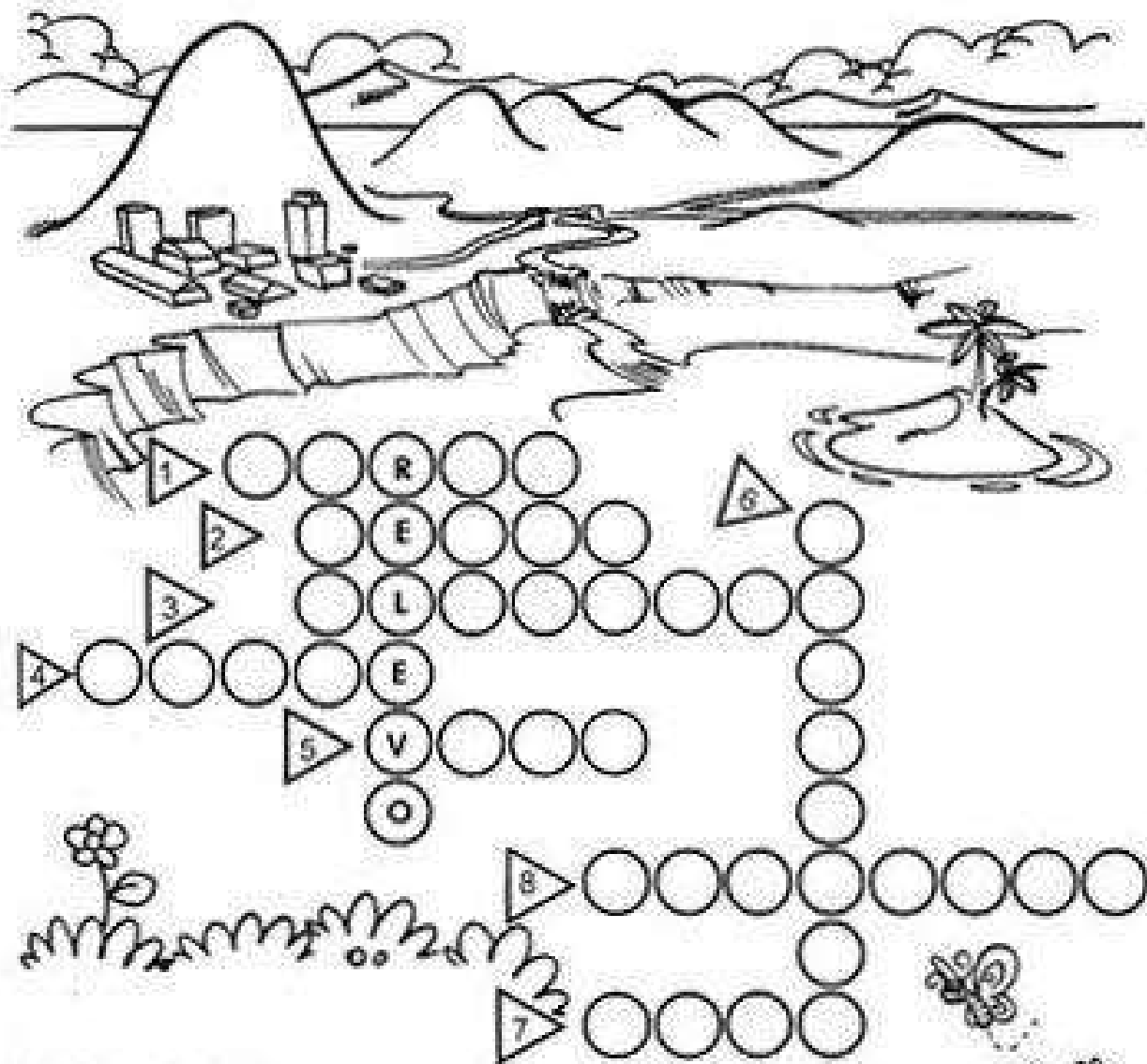
ATIVIDADE DA FOLHINHA

AMPARO, _____ DE _____ DE 2020

HOJE É _____

NOME: _____

Formas de Relevo



- 1 - Elevação de terra menor que um monte.
- 2 - Conjunto de montanhas.
- 3 - Região mais elevada do que as terras vizinhas.
- 4 - Elevação de terra que aparece de forma isolada, menor que uma montanha.
- 5 - Região mais baixa entre duas montanhas.
- 6 - Grande elevação de terra.
- 7 - Porção de terra cercada de água.
- 8 - Região mais plana e mais baixa em relação às terras vizinhas.





ATIVIDADE DA FOLHINHA

AMPARO, _____ DE _____ DE 2020

HOJE É _____

NOME: _____



História

19 de Novembro Dia da Bandeira Nacional

.....
A **Bandeira Nacional** foi adotada pelo Decreto nº 04, de **19 de novembro de 1889**, no Governo Provisório da República.

Desde então, essa data passou a ser o **DIA DA BANDEIRA**, dia em que ela deve ser homenageada.

O uso da Bandeira é regulamentado por lei e todos temos obrigação de saber como hastear a Bandeira Nacional e também quando ela deve ser hasteada.

O hasteamento da Bandeira é feito, normalmente, às oito horas da manhã e, o arriamento, às 18 horas.

Entretanto, se a Bandeira ficar hasteada durante a noite, é necessário que ela esteja adequadamente iluminada.





ATIVIDADE DA FOLHINHA

AMPARO, _____ DE _____ DE 2020

HOJE É _____

NOME: _____

Relacione a segunda coluna de acordo com a primeira.
As cores da nossa Bandeira representam:

verde

nosso ouro

amarelo

nosso céu

azul

a paz

branco

nossas matas

Marque a frase correta:

Ordem e Construção

Ordem e Progresso


Ordem e Paz

As estrelas representam:

as cidades

os Estados brasileiros

as Forças Armadas






Clique no link para acessar a aula de Educação Física com o Professor Alexandre



Luta de Prendedor / Encostou Perdeu
<https://www.youtube.com/watch?v=Hmw9pb8-YFs>



Atividades no caderno de desenho

1- Assista ao vídeo:
<https://youtu.be/LwU3PvHCR14> - O que é autorretrato?



2- Escreva o cabeçalho no caderno de desenho

3- Autorretrato é a imagem que cada um faz de si próprio. Muitos pintores fizeram autorretratos em diversas fases de suas carreiras. Pense em você, nas suas características pessoais e faça o seu autorretrato.

