




ATIVIDADE DA FOLHINHA

AMPARO, _____ DE _____ DE 2020
HOJE É _____
NOME: _____

A árvore do Beto


Ruth Rocha

Beto era amigo de todo mundo lá na rua do Catapimba, do Caloca, do Armandinho. E não só: também era amigo do padeiro, do sapateiro, do senhor do carrinho de pipocas.



Mas no Natal era sempre a mesma coisa: o pai do Beto não tinha dinheiro para comprar uma árvore para a família. Isso deixava o Beto muito, muito triste.

Então ele resolveu plantar uma muda de árvore e cuidar dela. Todo dia ele ia até o terreno regar a mudinha, que cresceu e ficou linda.



Em dezembro, chegou a hora de levar a árvore para casa. Mas como? Ele ia cortar, serrar, matar aquele ser de que ele cuidou com tanto carinho? O que fazer? Só ele podia decidir...

Ruth Rocha



ATIVIDADE DA FOLHINHA

AMPARO, _____ DE _____ DE 2020

HOJE É _____

NOME: _____

A árvore do Beto



Compreensão do texto

1. Qual é o assunto do texto?

2. Quem é a autora do texto?

3. Quem são os personagens principais da história?

4. Descreva como era Beto.

5. Quem eram os amigos do Beto?

6. Por que Beto ficava triste no Natal?





ATIVIDADE DA FOLHINHA

AMPARO, _____ DE _____ DE 2020
HOJE É _____
NOME: _____

A árvore do Beto

1. O que Beto fez para conseguir ter uma árvore de Natal?

- Comprou uma.
- Pediu para as pessoas uma árvore.
- Plantou uma árvore.
- Fez uma de material reciclado.



2. Na frase "Então ele resolveu plantar uma muda de árvore e cuidar dela". A palavra grifada refere-se:

- Ao pai do Beto.
- A árvore.
- Aos meninos.
- Ao Beto.

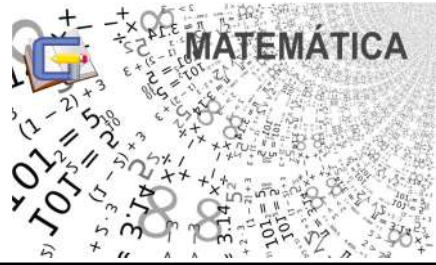
3. Que palavra usada para caracterizar o Beto indica um adjetivo?

- era
- todo
- amigo
- mundo

4. A expressão "muito triste" no segundo parágrafo indica:

- como o Beto ficou
- quando ele ficou triste



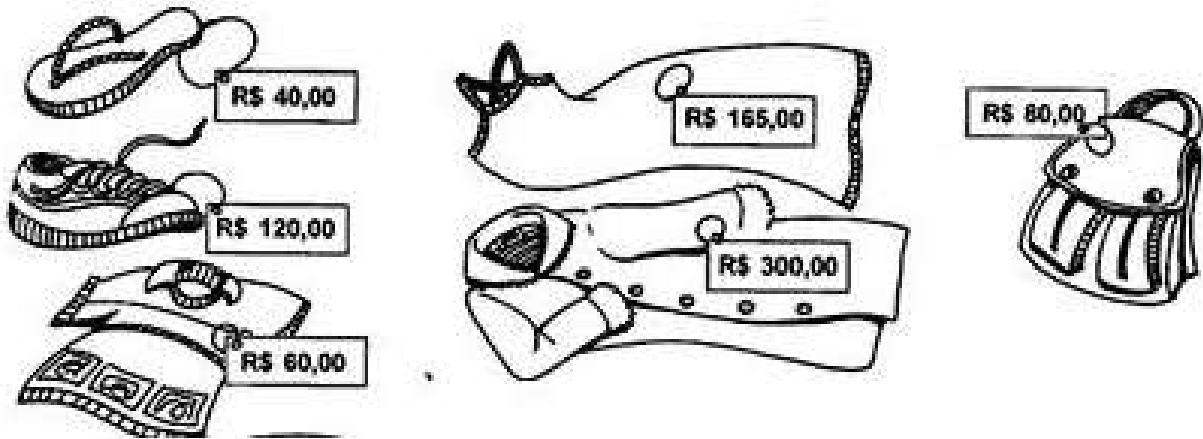


ATIVIDADE DA FOLHINHA

AMPARO, _____ DE _____ DE 2020
HOJE É _____
NOME: _____

VAMOS RESOLVER!!!

A loja "BELEZURA" está fazendo uma liquidação na parte de vestuário.
Observe as peças em promoção:



1. Cada produto recebeu um desconto diferente. Observe a tabela abaixo e calcule o preço final de cada peça:

Produto	Preço normal	Desconto	Preço com desconto
CHINELOS	R\$ 40,00	R\$ 4,00	R\$ 36,00
CAMISETA		R\$ 10,00	
BOLSA		R\$ 8,00	
TÊNIS		R\$ 10,00	
VESTIDO		R\$ 15,00	
CASACO		R\$ 30,00	

2. Agora, vamos ver o que Gabi e suas amigas gastaram...

a) Gabi comprou um par de chinelos e um vestido. Qual é o valor de sua compra?



b) Ao passar no caixa, Gabi deu duas notas de R\$100,00. Quanto ela receberá de troco?





ATIVIDADE DA FOLHINHA

AMPARO, _____ DE _____ DE 2020
HOJE É _____
NOME: _____

POLUIÇÃO AMBIENTAL

Quando as alterações que dificultam a vida ocorrem no ar, falamos em poluição do ar ou poluição atmosférica; quando ocorrem na água, poluição da água, e, quando no solo, poluição do solo. A poluição é sempre ambiental, pois acaba sempre atingindo o ecossistema. Por isso, precisamos sempre preservar a natureza para garantir a continuidade da vida.



☞ Por que plantas e animais mortos em condições naturais não prejudicam o ambiente?

☞ Quando o ar pode ficar poluído? Dê exemplos.

☞ O que pode poluir as águas de um rio?

☞ O que pode causar a poluição do solo?

☞ Como podemos colaborar para melhorar o ar que respiramos?

Continue o que eu comecei:

- Plante árvores! Cerque-se de verde. As plantas renovam o ar.
- Ande mais a pé e menos de carro. (A fumaça dos carros polui o ambiente.)

- _____
- _____
- _____
- _____
- _____
- _____





ATIVIDADE DA FOLHINHA

AMPARO, _____ DE _____ DE 2020

HOJE É _____

NOME: _____

1- Pinte o mapa abaixo de acordo com a legenda.

Legenda

- Região Norte
- Região Nordeste
- Região Centro-Oeste
- Região Sudeste
- Região Sul



2- Leia o texto e responda as questões.

Quase 20% da floresta Amazônica foi derrubada. Outra parte dela sofre risco de desmatamento. Entre as maiores ameaças à floresta estão as queimadas feitas para dar lugar a pastos ou áreas de cultivo de um único produto, especialmente a soja. A extração de grandes quantidades de madeira e a construção de estradas são outras ameaças à floresta.

a) Em qual região do Brasil está localizada a floresta Amazônica?

b) Qual problema ecológico é tratado no texto?

c) Quais atividades agropecuárias estão sendo desenvolvidas na área da floresta?





ATIVIDADE DA FOLHINHA

AMPARO, _____ DE _____ DE 2020
HOJE É _____
NOME: _____

A Proclamação da República

O Império não agradava a muitos brasileiros, que desejavam escolher seus próprios representantes para governar o país. Eles queriam a República. Isto é, um governo dirigido por um presidente.

Aconselhado pelos políticos do Partido Republicano, o Marechal Deodoro da Fonseca ocupou o Quartel General no Rio de Janeiro e proclamou a República no Brasil, no dia 15 de novembro de 1889. Terminava assim o Segundo Império.

No dia 16 de novembro foi formado o Governo Provisório, chefiado pelo Marechal Deodoro da Fonseca.

Dom Pedro II e a família real tiveram que deixar o Brasil.

Em 19 de novembro de 1889 foi criada a atual Bandeira Brasileira, símbolo de nossa Pátria.

Até hoje o Brasil adota a República como forma de governo, sendo dirigido por um presidente.

1- Responda:

a) O que é república?

b) Quem era o Imperador do Brasil?

c) O que o Partido Republicano aconselhou Deodoro da Fonseca fazer?

d) O que aconteceu com D. Pedro II e a família real?






Clique no link para acessar a aula de Educação Física com o Professora Cassia



<https://youtu.be/me47tbD2Ojl>



Atividades no caderno de desenho



Colorir,
recortar
e
montar
o
presépio

