



1º Ano – Professora Letícia Carradori Boyago

03 DE NOVEMBRO DE 2020

TERÇA-FEIRA

MATEMÁTICA

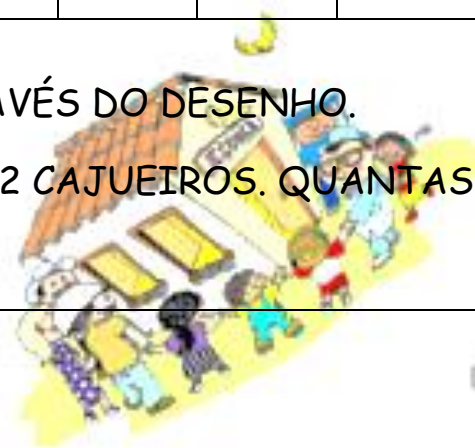
ORGANIZE OS NÚMEROS ABAIXO EM ORDEM CRESCENTE.

91	93	96	98	90	95	99	92	97	94



SITUAÇÃO PROBLEMA - RESOLVA ATRAVÉS DO DESENHO.

EM UM POMAR HÁ 15 LARANJEIRAS E 12 CAJUEIROS. QUANTAS ÁRVORES FRUTÍFERAS HÁ NO POMAR?



EMAI SEQUÊNCIA 16, ATIVIDADE 16.1

CONVERSA INICIAL


A. VOCÊ PRÁTICA ESPORTES?

B. EM QUAIS ESPORTES SÃO UTILIZADAS BOLAS?

C. QUAL DELES VOCÊ GOSTARIA DE PRATICAR?

D. LIVRO "EMAI E LER E ESCREVER" - PÁGINA 79. BOA TARDE!!!

ATIVIDADES - 04/11/2020

TERMINANDO A ATIVIDADE, TIRE UMA  E ENVIE
PARA A PROFESSORA ANALISAR!



1º Ano – Professora Letícia Carradori Boyago

04 DE NOVEMBRO DE 2020

QUARTA-FEIRA

MATEMÁTICA

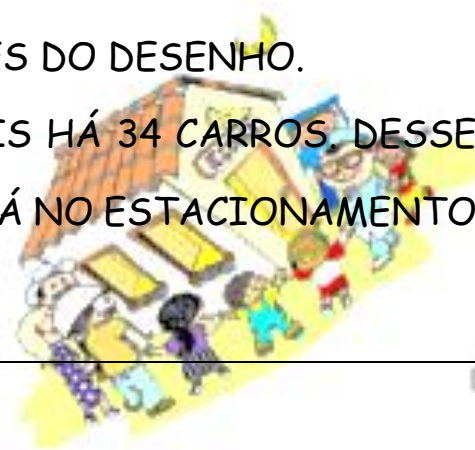
ORGANIZE OS NÚMEROS ABAIXO EM ORDEM DECRESCENTE.

94	91	97	99	92	95	98	90	96	93



SITUAÇÃO PROBLEMA - RESOLVA ATRAVÉS DO DESENHO.

NUM ESTACIONAMENTO DE AUTOMÓVEIS HÁ 34 CARROS. DESSE TOTAL 17 FORAM EMBORA. QUANTOS CARROS HÁ NO ESTACIONAMENTO AGORA?



Blank box for drawing the solution to the problem.

CIME "PROFESSORA JACYRA RIBEIRO GUILARDI"
RODOVIA MUNICIPAL 379
BAIRRO BOA VEREDA – AMPARO – SP
FONE (FAX) – 19 – 3807-9793

EMAI - SEQUÊNCIA 16, ATIVIDADE 16.2

CONVERSA INICIAL

A. QUAIS SÃO OS VALORES DAS MOEDAS DO NOSSO SISTEMA MONETÁRIO?

B. QUAL É A MOEDA DE MAIOR VALOR?

C. ALGUÉM COLECIONA OU GUARDA MOEDAS?



1º Ano – Professora Letícia Carradori Boyago

D. É IMPORTANTE ECONOMIZAR OU GUARDAR DINHEIRO? POR QUÊ?

E. LIVRO "EMAI E LER E ESCREVER" - PÁGINA 80.



CIME "PROFESSORA JACYRA RIBEIRO GUILARDI"
RODOVIA MUNICIPAL 379
BAIRRO BOA VEREDA – AMPARO – SP
FONE (FAX) – 19 – 3807-9793

TERMINANDO A ATIVIDADE, TIRE UMA
PARA A PROFESSORA ANALISAR!



E ENVIE



1º Ano – Professora Letícia Carradori Boyago

05 DE NOVEMBRO DE 2020

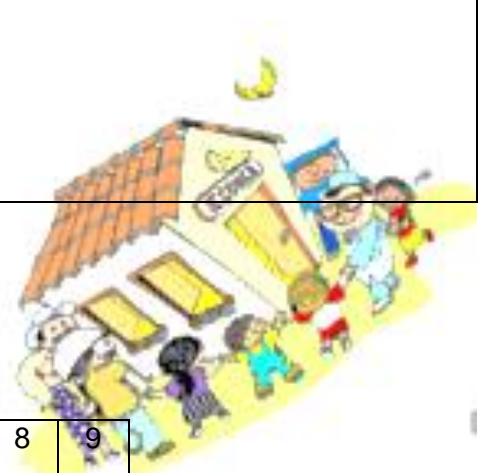
QUINTA-FEIRA

MATEMÁTICA



SITUAÇÃO PROBLEMA - RESOLVA ATRAVÉS DO DESENHO.

EDUARDO TEM 16 SELOS E ALBERTO 12. QUEM POSSUI MAIS SELOS? QUANTOS A MAIS?



1 - OBSERVE O QUADRO ABAIXO E RESPONDA.

0	1	2	3	4	5	6	7	8	9
10	11	12	13	14	15	16	17	18	19
20	21	22	23	24	25	26	27	28	29
30	31	32	33	34	35	36	37	38	39
40	41	42	43	44	45	46	47	48	49
50	51	52	53	54	55	56	57	58	59
60	61	62	63	64	65	66	67	68	69
70	71	72	73	74	75	76	77	78	79
80	81	82	83	84	85	86	87	88	89
90	91	92	93	94	95	96	97	98	99

A. QUE NÚMEROS PODEMOS ENCONTRAR NA NONA LINHA?

B. O QUE ESSES NÚMEROS POSSUEM EM COMUM?



1º Ano – Professora Letícia Carradori Boyago

C. QUAL O INTERVALO NÚMÉRICO ENTRE ELES?

D. QUAL O ANTECESSOR DO NÚMERO 82?

E. E O SUCESSOR DO NÚMERO 89?

F. QUE NÚMERO VALE 10 A MAIS QUE 89?



CIME "PROFESSORA JACYRA RIBEIRO GUILARDI"
RODOVIA MUNICIPAL 379
BAIRRO BOA VEREDA – AMPARO – SP
FONE (FAX) – 19 – 3807-9793

TERMINANDO A ATIVIDADE, TIRE UMA



E ENVIE

PARA A PROFESSORA ANALISAR!



1º Ano – Professora Letícia Carradori Boyago

06 DE NOVEMBRO DE 2020

SEXTA-FEIRA

MATEMÁTICA

ESCREVA OS NÚMEROS QUE FALTAM NA SEQUÊNCIA DE ACORDO COM A REGRA INDICADA.

10	20					70
----	----	--	--	--	--	----



SITUAÇÃO PROBLEMA - RESOLVA ATRAVÉS DO DESENHO.

DONA JOANA GANHOU DUAS DUZIAS DE OVOS. QUANTOS OVOS

DONA JOANA GANHOU?



CIME "PROFESSORA JACYRA RIBEIRO GUILARDI"
RODOVIA MUNICIPAL 379
BAIRRO BOA VEREDA – AMPARO – SP
FONE (FAX) – 19 – 3807-9793

EMAI – SEQUÊNCIA 16, ATIVIDADE 16.3
CONVERSA INICIAL

LIVRO "EMAI E LER E ESCREVER" - PÁGINA 81.

TERMINANDO A ATIVIDADE, TIRE UMA
PARA A PROFESSORA ANALISAR!



E ENVIE