




3º Ano – Daniela dos Santos Rodrigues

Dia 14 de outubro de 2020.



ATIVIDADE HABITUAL DESAFIOS MATEMÁTICOS

ATENÇÃO!

Todos os registros que forem necessários para a resolução devem ser anotados no 

Juca viaja de navio.
Lalá tem um gato.
O galo viaja de metrô. De quem é o cão? Quem viaja de avião? Qual o animal de Péti?



CIME "PROFESSORA JACYRA RIBEIRO GUILARDI"
RODOVIA MUNICIPAL 379
BAIRRO BOA VEREDA – AMPARO – SP
FONE (FAX) – 19 – 3807-9793

TERMINANDO A ATIVIDADE, TIRE UMA
E
ENVIE PARA A PROFESSORA ANALISAR!





3º Ano – Daniela dos Santos Rodrigues

Sequência 1



EMAI-ATIVIDADE 1.1

CONVERSA INICIAL

Observe o calendário deste mês abaixo e depois responda as questões em seu caderno.

Outubro 2020						
Se	Te	Qu	Qu	Se	Sá	Do
			1	2	3	4
5	6	7	8	9	10	11
12	13	14	15	16	17	18
19	20	21	22	23	24	25
26	27	28	29	30	31	



1. Até que número aparece no calendário este mês?

2. Escolha uma coluna de números do calendário e descreva o que observa sobre eles

3. Os números da coluna aumentam de quanto em quanto? Por que isso acontece?

Abra o seu livro **EMAI & LER E ESCREVER - ENSINO FUNDAMENTAL VOLUME 1 - 3º ANO** na página 9.

TERMINANDO A ATIVIDADE, TIRE UMA
E
ENVIE PARA A PROFESSORA ANALISAR!






3º Ano – Daniela dos Santos Rodrigues


Dia 15 de outubro de 2020.



ATIVIDADE HABITUAL DESAFIOS MATEMÁTICOS

ATENÇÃO!

Todos os registros que forem necessários para a resolução devem ser anotados no 



Quem viaja de navio
tem um cão. Lalá tem
um gato. Péti viaja de
metrô. Juca viaja em
que meio de transporte?
Quem viaja de avião?
De quem é o galo?

TERMINANDO A ATIVIDADE, TIRE UMA
E
ENVIE PARA A PROFESSORA ANALISAR!





3º Ano – Daniela dos Santos Rodrigues



EMAI-ATIVIDADE 1.2

CONVERSA INICIAL

Refleta sobre a situação abaixo.

Para obter o número 25 eu posso utilizar diferentes adições como:

$20+5$ ou $10+15$ ou $24+1$



1. Em seu caderno elabore três adições onde obtenha o resultado 43.

Abra o seu livro **EMAI & LER E ESCREVER - ENSINO FUNDAMENTAL**
VOLUME 1 - 3º ANO na página 10.

TERMINANDO A ATIVIDADE, TIRE UMA

E

ENVIE PARA A PROFESSORA ANALISAR!






3º Ano – Daniela dos Santos Rodrigues

Dia 16 de outubro de 2020.



ATIVIDADE HABITUAL DESAFIOS MATEMÁTICOS

ATENÇÃO!

Todos os registros que forem necessários para a resolução devem ser anotados no 

Se Lalá tem um gato,
ela anda de metrô. Juca anda
de avião. Lalá tem um cão.
Péti tem um gato.
Lalá não anda de metrô.
Quem anda de navio?
Quem tem um galo?

TERMINANDO A ATIVIDADE, TIRE UMA
E
ENVIE PARA A PROFESSORA ANALISAR!





3º Ano – Daniela dos Santos Rodrigues



EMAI-ATIVIDADE 1.3

CONVERSA INICIAL

Responda as questões abaixo em seu caderno

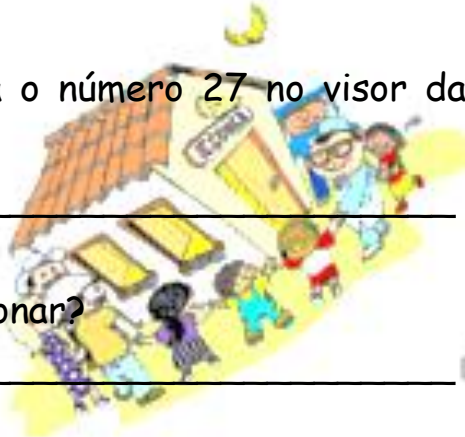
1. Você tem o hábito de utilizar calculadora para realizar cálculos?

2. Para que serve a calculadora?

3. Que teclas é preciso acionar para que apareça o número 27 no visor da calculadora?

4. Para somar dois números qual tecla é preciso acionar?

5. Para limpar o visor da calculadora o que preciso fazer?



Agora, abra o seu livro **EMAI & LER E ESCREVER - ENSINO FUNDAMENTAL VOLUME 1 - 3º ANO** na página 11, e realize as atividades propostas.

TERMINANDO A ATIVIDADE, TIRE UMA
E
ENVIE PARA A PROFESSORA ANALISAR!

