



2º Ano – Raquel S. S. Camargo

19 DE OUTUBRO DE 2020


SEGUNDA-FEIRA

MATEMÁTICA

RESPONDAM NO , NÃO HÁ NECESSIDADE DE COPIAREM A PERGUNTA!

1) ORGANIZAR OS NÚMEROS NA ORDEM CRESCENTE.

859	888	876	899	862	874	854	881	869	890



1) GRAVE UM ÁUDIO DA LEITURA DESSES NÚMEROS E ENVIE PARA A PROFESSORA NO GRUPO.

SITUAÇÃO PROBLEMA

RESOLVAM ATRAVÉS DO DESENHO

2) NA CASA DA BRUXA, JOÃO E MARIA ENCONTRARAM UMA PRATELEIRA COM 15 LIVROS DE RECEITAS CULINÁRIAS E 21 LIVROS DE MAGIA. QUANTOS LIVROS JOÃO E MARIA ENCONTRARAM AO TODO?



2º Ano – Raquel S. S. Camargo

RESPONDAM NO , NÃO HÁ NECESSIDADE DE COPIAREM A PERGUNTA!

EMAI 15.1

CONVERSA INICIAL

HOJE IREMOS CONVERSAR SOBRE ATIVIDADES QUE VOCÊS REALIZAM NO FINAL DE SEMANA...

1. QUAIS OS DIAS QUE FAZEM PARTE DO QUE CHAMAMOS DE FIM DE SEMANA?

2. O QUE VOCÊS FIZERAM NO ÚLTIMO FIM DE SEMANA PARA SE DIVERTIR?

3. ALGUÉM FOI A UM PARQUE MUNICIPAL, AO ZOOLOGICO, A UMA BIBLIOTECA, A UM MUSEU?

AGORA É A SUA VEZ.....

VAMOS RESOLVER A ATIVIDADE 15.1 DA PÁGINA 90, DO LIVRO EMAI & LER E ESCREVER – ENSINO FUNDAMENTAL, VOLUME 1 – 2 ANO.

VAMOS LÁ.....

TERMINANDO A ATIVIDADE, TIRE UMA

E

ENVIE PARA A PROFESSORA ANALISAR!





2º Ano – Raquel S. S. Camargo

20 DE OUTUBRO DE 2020

TERÇA-FEIRA

MATEMÁTICA

RESPONDAM NO , NÃO HÁ NECESSIDADE DE COPIAREM A PERGUNTA!

- 1) ORGANIZAR OS NÚMEROS NA ORDEM DECRESCENTE.

989	992	955	961	978	999	966	974	982	956

SITUAÇÃO PROBLEMA
RESOLVAM ATRAVÉS DO DESENHO

- 2) JOÃO PESAVA 45 QUILOGRAMAS. MAS COMO A COMIDA DA MARIA ERA MUITO RUIM, JOÃO ACABOU EMAGRECENDO 11 QUILOGRAMAS. QUANTO ELE PASSOU A PESAR?



2º Ano – Raquel S. S. Camargo

RESPONDAM NO , NÃO HÁ NECESSIDADE DE COPIAREM A PERGUNTA!

EMAI 15.2

CONVERSA INICIAL

HOJE VAMOS CONVERSAR SOBRE AS LEITURAS REALIZADAS POR VOCÊ...

1. SE NÓS LEMOS 5 LIVROS NA SEMANA PASSADA E LERMOS 10 LIVROS NAS PRÓXIMAS DUAS SEMANAS, QUAL O TOTAL DE LIVROS QUE TEREMOS LIDO NESSAS TRÊS SEMANAS?



CIME "PROFESSORA JACYRA RIBEIRO GUILARDI"
RODOVIA MUNICIPAL 379
BAIRRO BOA VEREDA – AMPARO – SP
FONE (FAX) – 19 – 3807-9793

AGORA É A SUA VEZ.....

VAMOS RESOLVER A ATIVIDADE 15.2 DA PÁGINA 91, DO LIVRO EMAI & LER E ESCREVER - ENSINO FUNDAMENTAL, VOLUME 1 - 2 ANO.

VAMOS LÁ.....

TERMINANDO A ATIVIDADE, TIRE UMA
E
ENVIE PARA A PROFESSORA ANALISAR!





2º Ano – Raquel S. S. Camargo

22 DE OUTUBRO DE 2020

QUINTA-FEIRA

MATEMÁTICA

RESPONDAM NO , NÃO HÁ NECESSIDADE DE COPIAREM A PERGUNTA!

700	701	702	703	704	705	706	707	708	709
710	711	712	713	714	715	716	717	718	719
720	721	722	723	724	725	726	727	728	729
730	731	732	733	734	735	736	737	738	739
740	741	742	743	744	745	746	747	748	749

OBSERVE O QUADRO NUMÉRICO PARA PODER RESPONDER AS QUESTÕES ABAIXO:

1. QUAL O MAIOR NÚMERO DO QUADRO? _____
2. E O MENOR NÚMERO? PORQUE VOCÊ CONSIDERA ESSE NÚMERO SENDO O MENOR? _____
3. O QUE OS NÚMEROS DA OITAVA COLUNA TÊM DE PARECIDO? _____
4. O QUE HÁ DE PARECIDO ENTRE OS NÚMEROS DA QUINTA LINHA? _____
5. QUAIS SÃO OS NÚMEROS DE TRÊS ALGARISMOS QUE TERMINAM COM 9? _____
6. QUAIS NÚMEROS SÃO OS SUCESSORES (VEM DEPOIS) DOS NÚMEROS TERMINADOS COM 9? _____
7. O QUE ELES TÊM DE SEMELHANTE? _____




2º Ano – Raquel S. S. Camargo

8. ESCOLHA UMA LINHA OU COLUNA E FAÇA A LEITURA PARA A PROFESSORA, ATRAVÉS DO ÁUDIO.

SITUAÇÃO PROBLEMA

RESOLVAM ATRAVÉS DO DESENHO

EM UM GALINHEIRO HÁ 9 DEZENAS DE GALINHAS. QUANTAS GALINHAS HÁ NESSE GALINHEIRO?



CIME "PROFESSORA JACYRA RIBEIRO GUILARDI"
RODOVIA MUNICIPAL 379
BAIRRO BOA VEREDA – AMPARO – SP
FONE (FAX) – 19 – 3807-9793

**TERMINANDO A ATIVIDADE, TIRE UMA
E
ENVIE PARA A PROFESSORA ANALISAR!**





2º Ano – Raquel S. S. Camargo

23 DE OUTUBRO DE 2020

SEXTA-FEIRA

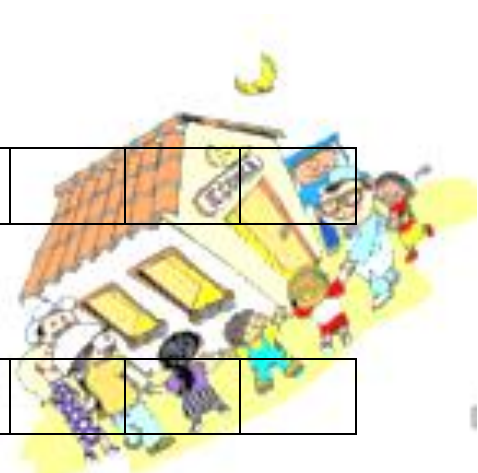
MATEMÁTICA

RESPONDAM NO , NÃO HÁ NECESSIDADE DE COPIAREM A PERGUNTA!

1) ESCREVA OS NÚMEROS QUE FALTAM EM CADA SEQUÊNCIA DE ACORDO COM A REGRA INDICADA:

822			828						
-----	--	--	-----	--	--	--	--	--	--

100		300							
-----	--	-----	--	--	--	--	--	--	--




CIME "PROFESSORA JACYRA RIBEIRO GUILARDI"
RODOVIA MUNICIPAL 379
BAIRRO BOA VEREDA – AMPARO – SP
FONE (FAX) – 19 – 3807-9793

SITUAÇÃO PROBLEMA
RESOLVAM ATRAVÉS DO DESENHO

REGINA TEM 37 ANOS. SUA MÃE TEM 25 ANOS A MAIS QUE REGINA. QUANTOS ANOS TEM A MÃE DE REGINA?

TERMINANDO A ATIVIDADE, TIRE UMA
E
ENVIE PARA A PROFESSORA ANALISAR!





2º Ano – Raquel S. S. Camargo

EMAI 15.3

CONVERSA INICIAL

RESPONDAM AS QUESTÕES ABAIXO EM SEU CADERNO:

NA ESCOLA EM QUE JULIANA ESTUDA É SERVIDA REFEIÇÃO E NELA SÃO OFERECIDOS LEGUMES, VERDURAS E FRUTAS. LÁ ESTÃO SENDO PLANTADAS MUDAS DE ÁRVORES FRUTÍFERAS PARA FORMAR UM POMAR.

1. O QUE É UM POMAR?

2. E O QUE É UMA HORTA?

UMA ALIMENTAÇÃO SAUDÁVEL É MUITO IMPORTANTE PARA TERMOS SAÚDE E DISPOSIÇÃO NO NOSSO DIA A DIA, POR ISSO TEMOS SEMPRE QUE COMER FRUTAS, VERDURAS E LEGUMES.

RESPONDA:

1. VOCÊ GOSTA DE FRUTAS?

2. QUAIS AS FRUTAS QUE VOCÊ MAIS GOSTA?

3. QUAIS AS VERDURAS QUE VOCÊ MAIS GOSTA?

4. QUAIS OS LEGUMES QUE VOCÊ MAIS GOSTA?



2º Ano – Raquel S. S. Camargo

AGORA É A SUA VEZ....

VAMOS RESOLVER A ATIVIDADE 15.3 DA PÁGINA 92, DO LIVRO EMAI & LER E ESCREVER - ENSINO FUNDAMENTAL, VOLUME 1 - 2º ANO.

VAMOS LÁ....



CIME "PROFESSORA JACYRA RIBEIRO GUILARDI"
RODOVIA MUNICIPAL 379
BAIRRO BOA VEREDA – AMPARO – SP
FONE (FAX) – 19 – 3807-9793

TERMINANDO A ATIVIDADE, TIRE UMA
E
ENVIE PARA A PROFESSORA ANALISAR!

