



1º Ano – Professora Letícia Carradori Boyago

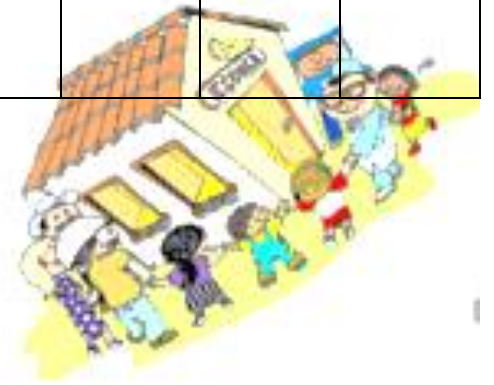
26 DE OUTUBRO DE 2020

SEGUNDA-FEIRA

MATEMÁTICA

ORGANIZE OS NÚMEROS ABAIXO EM ORDEM CRESCENTE.

85	82	86	80	87	89	83	88	81	84



SITUAÇÃO PROBLEMA - RESOLVA ATRAVÉS DO DESENHO.
PARA O ANIVERSÁRIO DE SARA SUA MÃE FEZ ALGUNS
DOCINHOS DIFERENTES. ELA FEZ 28 DOCINHOS DE BETERRABA
E 12 DE MANDIOCA. QUANTOS DOCINHOS A MÃE DE SARA FEZ?



1º Ano – Professora Letícia Carradori Boyago
EMAI - SEQUÊNCIA 15, ATIVIDADE 15.3

CONVERSA INICIAL

HOJE IREMOS APENAS RESPONDER AOS QUESTIONAMENTOS. A ATIVIDADE SERÁ PREENCHIDA AMANHÃ.

A. QUE HORAS VOCÊ SE LEVANTA PELA MANHÃ?

B. O QUE FAZ DEPOIS DE LEVANTAR?

C. A QUE HORAS ALMOÇA?

D. VOCÊ SABE QUE HORAS SAE DE CASA PARA VIR A ESCOLA?

E. QUE HORAS COMEÇA A AULA?

F. QUE HORAS TERMINA A AULA?





1º Ano – Professora Letícia Carradori Boyago

27 DE OUTUBRO DE 2020

TERÇA-FEIRA

MATEMÁTICA

ORGANIZE OS NÚMEROS ABAIXO EM ORDEM DECRESCENTE.

81	84	86	88	82	89	85	87	80	83



SITUAÇÃO PROBLEMA - RESOLVA ATRAVÉS DO DESENHO.

DONA CARLA COMPROU UMA DUZIA DE BALÕES COR DE ROSA E UMA DEZENA DE BALÕES AZUIS. QUANTOS BALÕES DONA CARLA COMPROU AO TODO?




CIME "PROFESSORA JACYRA RIBEIRO GUILARDI"
RODOVIA MUNICIPAL 379
BAIRRO BOA VEREDA – AMPARO – SP
FONE (FAX) – 19 – 3807-9793

EMAI - SEQUÊNCIA 15, ATIVIDADE 15.3

CONVERSA INICIAL

- LIVRO "EMAI E LER E ESCREVER" - PÁGINA 76.

TERMINANDO A ATIVIDADE, TIRE UMA  E ENVIE
PARA A PROFESSORA ANALISAR!



1º Ano – Professora Letícia Carradori Boyago

28 DE OUTUBRO DE 2020

QUARTA-FEIRA

MATEMÁTICA



SITUAÇÃO PROBLEMA - RESOLVA ATRAVÉS DO DESENHO.

LUARA COMPROU UMA CAIXA DE BOMBONS. NA CAIXA HÁ 32 BOMBONS. SE 12 SÃO DE CHOCOLATE BRANCO, QUANTOS SÃO DE CHOCOLATE AO LEITE?

1 - OBSERVE O QUADRO ABAIXO E RESPONDA.

0	1	2	3	4	5	6	7	8	9
10	11	12	13	14	15	16	17	18	19
20	21	22	23	24	25	26	27	28	29
30	31	32	33	34	35	36	37	38	39
40	41	42	43	44	45	46	47	48	49
50	51	52	53	54	55	56	57	58	59
60	61	62	63	64	65	66	67	68	69
70	71	72	73	74	75	76	77	78	79
80	81	82	83	84	85	86	87	88	89
90	91	92	93	94	95	96	97	98	99


A. QUE NÚMERO FOI COBERTO PELO CARTÃO VERMELHO? _____

B. QUE NÚMERO VALE 1 A MENOS DO QUE ELE? _____

C. QUE NÚMERO VALE 1 A MAIS DO QUE ELE? _____

D. QUE NÚMERO VALE 10 A MENOS DO QUE ELE? _____

E. QUE NÚMERO VALE 10 A MAIS DO QUE ELE? _____

TERMINANDO A ATIVIDADE, TIRE UMA  E ENVIE
PARA A PROFESSORA ANALISAR!



1º Ano – Professora Letícia Carradori Boyago

29 DE OUTUBRO DE 2020

QUINTA-FEIRA

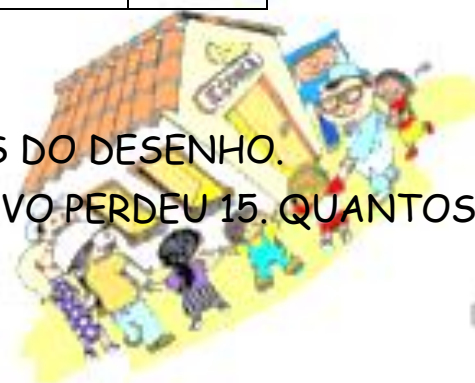
MATEMÁTICA

ESCREVA OS NÚMEROS QUE FALTAM NA SEQUÊNCIA DE ACORDO COM A REGRA INDICADA.

11	15			27		
----	----	--	--	----	--	--



SITUAÇÃO PROBLEMA - RESOLVA ATRAVÉS DO DESENHO.
EM UMA CAIXA HAVIAM 28 CLIPES. GUSTAVO PERDEU 15. QUANTOS CLIPES SOBRARAM NA CAIXA?




CIME "PROFESSORA JACYRA RIBEIRO GUILARDI"
RODOVIA MUNICIPAL 379
BAIRRO BOA VEREDA – AMPARO – SP
FONE (FAX) – 19 – 3807-9793

EMAI - SEQUÊNCIA 15, ATIVIDADE 15.5

CONVERSA INICIAL

SEQUÊNCIA DE NÚMEROS

- LIVRO "EMAI E LER E ESCREVER" - PÁGINA 78.

TERMINANDO A ATIVIDADE, TIRE UMA  E ENVIE
PARA A PROFESSORA ANALISAR!