

NOME: _____

DATA: 26/10

HISTÓRIA E GEOGRAFIA

OBSERVE AS FIGURAS E ESCREVA AS MANEIRAS QUE PODEMOS APROVEITAR A ÁGUA.



Empty rectangular box with a decorative border for writing.

Empty rectangular box with a decorative border for writing.



Empty rectangular box with a decorative border for writing.



Empty rectangular box with a decorative border for writing.




Empty rectangular box with a decorative border for writing.

NOME: _____

CIÊNCIAS - MEIO AMBIENTE

PINTE OS ESPAÇOS INDICADOS COM UM (•) E DESCUBRA OS OBJETOS QUE PODEM SER RECICLADOS.



DE QUE MATERIAIS SÃO FEITOS OS OBJETOS ACIMA :

_____	-	_____
_____	-	_____
_____	-	_____
_____	-	_____

NOME - _____

RECORTE E ORDENE



www.smartkids.com.br











Vamos ajudar a Tina a ordenar os números?
Recorte e cole na ordem crescente.



3	5	1	10	7
6	8	9	2	4

DESCOBRINDO O NUMERAL

1. DESCUBRA, NO QUADRO, OS NUMERAIS QUE ESTARIAM NO LUGAR DOS SÍMBOLOS E ESCREVA-OS ABAIXO.

1	2	3		5	6	7	
9	10	11	12		14	15	16
	18	19		21	22	23	
25		27	28	29		31	32
33	34		36	37	38		40



ESCOLA _____

NOME: _____

DATA: 29 / 10 / _____



www.amorensina.com.br



BILHETE

SAMUEL,
VOU VIAJAR E NÃO POSSO IR À SUA CASA HOJE.
VENHA EM MINHA CASA NO SÁBADO A TARDE PARA
JOGARMOS VIDEO GAME.

UM ABRAÇO,

RAFAEL

1 - ESCREVA OS NOMES.

QUEM ESCREVEU O BILHETE:

PARA QUEM ERA O BILHETE:

2 - PARA QUAL DIA DA SEMANA FOI O CONVITE?

DOMINGO

SEGUNDA-FEIRA

SÁBADO

3 - PARA QUAL PERÍODO DO DIA FOI O CONVITE?


MANHÃ

TARDE

NOITE

4 - MARQUE A RESPOSTA CERTA.

- AS CRIANÇAS IRÃO BRINCAR DE:



5 - POR QUE RAFAEL NÃO PODERIA IR À CASA DE SAMUEL?

6 - COMPLETE O BILHETE COM A RESPOSTA QUE SAMUEL ENVIOU PARA RAFAEL.

(ABRAÇO - SÁBADO - RAFAEL - CASA)

OBRIGADO POR AVISAR.

ENTÃO ESTÁ COMBINADO. _____ IREI A SUA
_____ PARA JOGARMOS VIDEO GAME.

UM _____

SAMUEL




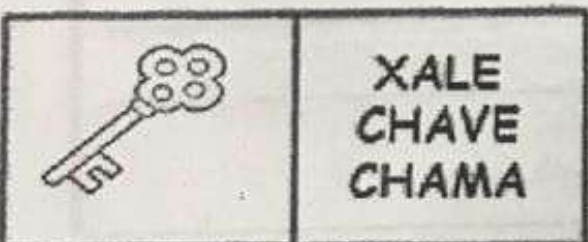


Data: 30/10

Turma:

EducaçaoeTransformacao.com.br

Aluno:

PARA ESTUDARMOS SOBRE BRUXAS DEVEMOS DECOBRIR TUDO QUE FAZ PARTE DELA. ENTÃO CIRCULE SOMENTE OS NOMES CORRETOS DAS FIGURAS



ESCOLA _____

PROFESSORA _____

DATA: 30 / 10 /

NOME _____

31 de Outubro- Dia do Halloween.

O que você colocaria dentro do caldeirão da Bruxinha? Escreva abaixo:



Escreva três frases sobre o Dia das Bruxas:

Nome: _____

Data: 30/10/_____

COMPLETE A SEQUÊNCIA NUMÉRICA:

1					6				10
	12			15			18		
		23	24			27			30
	32		34					39	
41				45		47			50
		53			56			59	
	62		64			67			
71				75			78		80
	82		84				88	89	
		93			96	97			100