


RESOLVA AS ADIÇÕES E LIGUE AS RESPOSTAS

$4+7$	11	9	$5+4$
$5+6$	12	10	$7+3$
$8+7$	18	14	$9+5$
$9+9$	15	16	$8+8$

RESOLVA AS SUBTRAÇÕES

$5 - 4 =$	$6 - 4 =$	$8 - 7 =$
$9 - 3 =$	$5 - 0 =$	$7 - 3 =$
$8 - 6 =$	$4 - 3 =$	
$7 - 7 =$	$9 - 1 =$	

1- VAMOS CONTAR DE 5 EM 5

5		15		25
	35		45	

- COMPLETE O QUADRO NUMÉRICO ATÉ 50.

1							8		
		13							20
				25	26				
	32							39	
			44			47			50

- ESCREVA O NÚMERO QUE VEM ANTES E DEPOIS.

	32	
--	----	--



	29	
--	----	--


	15	
--	----	--

	7	
--	---	--

	46	
--	----	--

	40	
--	----	--

- PINTE O NÚMERO MENOR.



3	33
---	----

25	52
----	----

51	29
----	----

37	19
----	----

OS NÚMEROS ORDINAIS SÃO UTILIZADOS PARA INDICAR ORDEM, POSIÇÃO OU LUGAR.

RAFAELA VENCEU O CAMPEONATO DE CORRIDA, MARCELO FICOU EM SEGUNDO LUGAR E FELIPE FOI O TERCEIRO COLOCADO. ESCREVA O NOME DE CADA CRIANÇA DE ACORDO COM A CLASSIFICAÇÃO DE CADA UM

- 1º - PRIMEIRO
- 2º - SEGUNDO
- 3º - TERCEIRO
- 4º - QUARTO
- 5º - QUINTO



- 6º - SEXTO
- 7º - SÉTIMO
- 8º - OITAVO
- 9º - NONO
- 10º - DÉCIMO.

OBSERVE A CLASSIFICAÇÃO DA CORRIDA E RESPONDA:



1) PINTE A CRIANÇA QUE CHEGOU EM 1º LUGAR. _____

2) QUEM CHEGOU EM 3º LUGAR? _____

3) QUAL A COLOCAÇÃO DA MARIA?

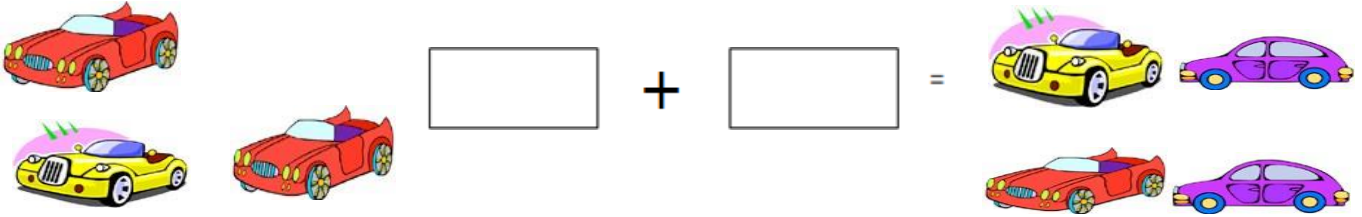
4) QUEM CHEGOU EM ÚLTIMO LUGAR?

5) CIRCULE A CRIANÇA QUE ESTÁ EM 4º LUGAR _____

6) QUAL É A COLOCAÇÃO DO TIAGO?

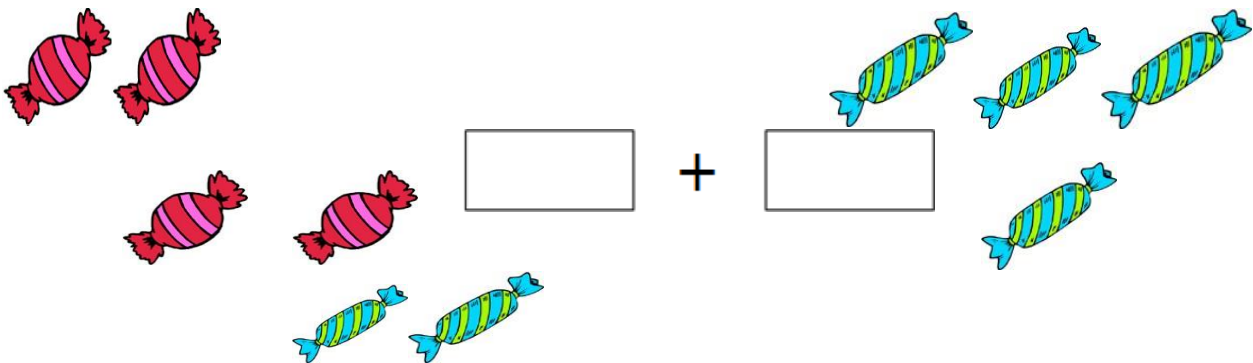
RESOLVA OS PROBLEMINHAS

1-MIGUEL TEM 3 CARRINHOS. GANHOU MAIS 4 DE SEU PAI. COM QUANTOS CARRINHOS MIGUEL FICOU?



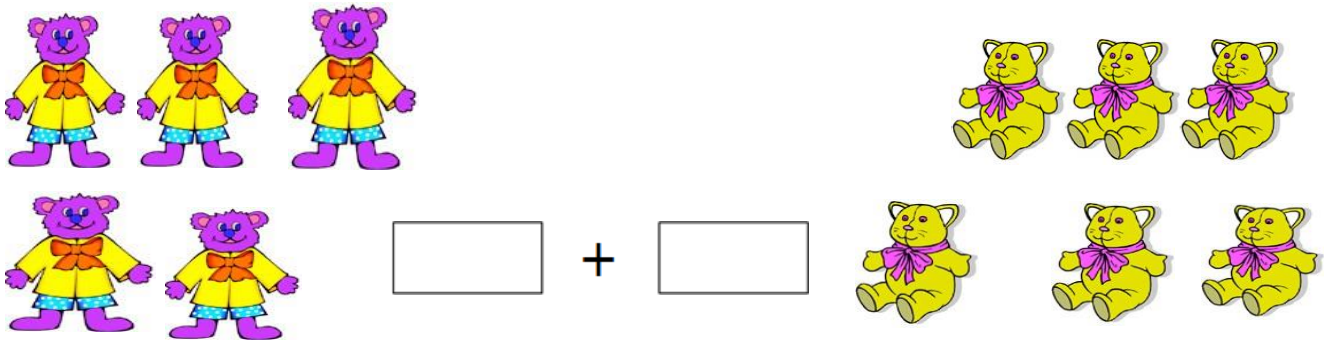
R: MIGUEL FICOU COM _____ CARRINHOS.

2) PEDRO TINHA 6 BOMBONS E GANHOU MAIS 4 DE SUA VÓ. QUANTOS BOMBONS O PEDRO TEM AGORA?




R: O TIAGO TEM AGORA _____ BOMBONS.

3) TALITA TEM 5 URSINHOS E SUA AMIGA LIVIA TEM 7 URSINHOS. QUANTOS URSINHOS ELAS TÊM JUNTAS?



R: ELAS TÊM JUNTAS _____ URSINHOS

4) NA CASA DO GUSTAVO TEM 8 GATINHOS E 3 CACHORRINHOS. QUANTOS ANIMAIS TEM NA CASA DO GUSTAVO?



R: NA CASA DO GUSTAVO TEM _____ ANIMAIS.