



2º Ano – Raquel Sueli Soeiro Camargo

RESPONDAM NO , NÃO HÁ NECESSIDADE DE COPIAREM A PERGUNTA!

31 DE AGOSTO DE 2020

SEGUNDA-FEIRA



1) DIA DO DITADO DE NÚMERO. (ÁUDIO NO GRUPO)

---

---


---

---



SITUAÇÃO PROBLEMA  
RESOLVAM ATRAVÉS DO DESENHO

2) RENATO TEM 35 FIGURINHAS, JORGE TEM 23 FIGURINHAS A MAIS QUE RENATO.  
QUANTAS FIGURINHAS TEM JORGE?



TERMINANDO A ATIVIDADE, TIRE UMA  
E  
ENVIE PARA A PROFESSORA ANALISAR!



2º Ano – Raquel Sueli Soeiro Camargo

RESPONDAM NO , NÃO HÁ NECESSIDADE DE COPIAREM A PERGUNTA!

## EMAI 10.4

### HOJE VAMOS PREENCHER O QUADRO NUMÉRICO CONVERSA INICIAL

1. RESPONDAM NO CADERNO:

A) ATÉ QUE NÚMERO VOCÊ JÁ SABE CONTAR? \_\_\_\_\_

B) QUEM É MAIOR: 45 OU 19? POR QUÊ? \_\_\_\_\_

C) QUEM É MAIOR: 37 OU 120? POR QUÊ? \_\_\_\_\_

D) VOCÊ SABE CONTAR DE 100 EM 100? \_\_\_\_\_

E) VOCÊ CONHECE ALGUM NÚMERO QUE É ESCRITO COM 4 DÍGITOS? QUAL? \_\_\_\_\_

F) ESSE NÚMERO É MAIOR QUE 200? \_\_\_\_\_

G) QUEM É MAIOR 1005 OU 200? \_\_\_\_\_

- GRAVE UM ÁUDIO PARA A PROFESSORA E CONTEM DO 100 ATÉ 1000, SENDO DE 100 EM 100.

AGORA É A SUA VEZ....

VAMOS RESOLVER A ATIVIDADE 10.4 DA PÁGINA 63, DO LIVRO EMAI & LER E ESCREVER - ENSINO FUNDAMENTAL, VOLUME 1 - 2º ANO.

VAMOS LÁ....

TERMINANDO A ATIVIDADE, TIRE UMA  
E  
ENVIE PARA A PROFESSORA ANALISAR!





2º Ano – Raquel Sueli Soeiro Camargo

RESPONDAM NO , NÃO HÁ NECESSIDADE DE COPIAREM A PERGUNTA!

01 DE SETEMBRO DE 2020

TERÇA-FEIRA

1) ORGANIZAR OS NÚMEROS NA ORDEM CRESCENTE.

666	654	678	689	699	669	655	677	681	690

1. GRAVE UM ÁUDIO DA LEITURA DESSES NÚMEROS E ENVIE PARA A PROFESSORA NO GRUPO

SITUAÇÃO PROBLEMA

RESOLVAM ATRAVÉS DO DESENHO

1) VICTOR TEM 11 FIGURINHAS. GABRIEL TEM 8. QUANTAS FIGURINHAS GABRIEL TEM A MENOS QUE VICTOR?

TERMINANDO A ATIVIDADE, TIRE UMA  
E  
ENVIE PARA A PROFESSORA ANALISAR!





2º Ano – Raquel Sueli Soeiro Camargo

RESPONDAM NO , NÃO HÁ NECESSIDADE DE COPIAREM A PERGUNTA!

## EMAI 10.5

### CONVERSA INICIAL

2. VOCÊ LEMBRA O QUE É UMA TABELA? \_\_\_\_\_
  3. O QUE DEVE TER EM UMA TABELA? \_\_\_\_\_
- 
- 

VAMOS RESOLVER A ATIVIDADE 10.5 DA PÁGINA 64, DO LIVRO EMAI & LER E ESCREVER - ENSINO FUNDAMENTAL, VOLUME 1 - 2º ANO.

SIGA AS INSTRUÇÕES ABAIXO.

1. REGISTRE OS DADOS ABAIXO NA TABELA DO SEU LIVRO.



	VERDES	AZUIS	BRANCAS	TOTAL
GRUPO 1	10	2	11	
GRUPO 2	5	10	7	
GRUPO 3	6	15	9	
GRUPO 4	14	0	10	
TOTAL				

2. NAS LINHAS TEMOS A QUANTIDADE DE TAMPINHA ARRECADADAS POR GRUPO. PREENCHA O TOTAL QUE CADA GRUPO ARRECADOU.
3. NAS COLUNAS TEMOS A QUANTIDADE DE TAMPINHAS ARRECADADAS POR COR. PREENCHA O TOTAL DE TAMPINHAS DE CADA COR.
4. DÊ UM TÍTULO À SUA TABELA.
5. ESSA PESQUISA FOI REALIZADA COM A TURMA DO 2º ANO DE 2019. ENTÃO UTILIZE ESSES DADOS PARA PREENCHER A FONTE DA SUA TABELA.
6. AGORA RESPONDA A QUESTÃO NÚMERO 2.

TERMINANDO A ATIVIDADE, TIRE UMA

E

ENVIE PARA A PROFESSORA ANALISAR!





2º Ano – Raquel Sueli Soeiro Camargo

02 DE SETEMBRO DE 2020

QUARTA-FEIRA

RESPONDAM NO , NÃO HÁ NECESSIDADE DE COPIAREM A PERGUNTA!

1) ORGANIZAR OS NÚMEROS NA ORDEM DECRESCENTE.

655	666	678	699	682	687	696	670	669	654

SITUAÇÃO PROBLEMA  
RESOLVAM ATRAVÉS DO DESENHO



2) NA SEMANA PASSADA, DANILO TINHA 25 BOLINHAS DE GUDE. ONTEM QUANDO FOI BRINCAR COM SUA TURMA TINHA 17. O QUE ACONTECEU NO DECORRER DA SEMANA COM SUAS BOLINHAS?

TERMINANDO A ATIVIDADE, TIRE UMA  
E  
ENVIE PARA A PROFESSORA ANALISAR!





2º Ano – Raquel Sueli Soeiro Camargo

RESPONDAM NO , NÃO HÁ NECESSIDADE DE COPIAREM A PERGUNTA!

## EMAI 10.6 CONVESA INICIAL

RESPONDAM NO CADERNO:

1. QUAL ANIMAL VOCÊ CONHECE? ESCREVA TRÊS DELES.

---

2. VOCÊ TEM ANIMAL EM CASA? SE SIM QUAL?

---

3. QUE CUIDADOS DEVEMOS TER COM OS ANIMAIS?

---

4. O QUE SÃO ANIMAIS DOMÉSTICOS?

---

5. E SELVAGENS?

---

6. E ONDE PODEMOS ENCONTRAR ANIMAIS SELVAGENS?


---

7. O QUE SIGNIFICA ANIMAIS EM EXTINÇÃO?

---

8. VOCÊ CONHECE ALGUM ANIMAL QUE VIVE NO JARDIM ZOOLOGICO?  
QUAL?

---



CIME "PROFESSORA JACYRA RIBEIRO GUILARDI"  
RODOVIA MUNICIPAL 379  
BAIRRO BOA VEREDA – AMPARO – SP  
FONE (FAX) – 19 – 3807-9793



2º Ano – Raquel Sueli Soeiro Camargo

9. EXISTEM ANIMAIS QUE NÃO VIVEM NO ZOOLOGICO COMO A BALEIA ORCA? COMENTE UM.

---

ANALISE AS FRASES ABAIXO E RESPONDA UTILIZANDO UMA DAS TRÊS POSSÍVEIS RESPOSTAS. PARA RESPONDER UTILIZE APENAS A LETRA COLOCANDO **A**, **B** OU **C**.

10. NO AQUÁRIO DO SENHOR JOSÉ, MORADOR DESTA CIDADE, HÁ UMA BALEIA.

- A. **IMPOSSÍVEL DE ACONTECER** (NÃO TEM CHANCE DE ACONTECER).
- B. **POUCO PROVÁVEL DE ACONTECER** (POUCA CHANCE DE ACONTECER).
- C. **MUITO PROVÁVEL DE ACONTECER** (MUITA CHANCE DE ACONTECER).

11. ANDRÉ TEM NO QUINTAL DE SUA CASA CINCO GIRAFAS.

- A. **IMPOSSÍVEL DE ACONTECER** (NÃO TEM CHANCE DE ACONTECER).
- B. **POUCO PROVÁVEL DE ACONTECER** (POUCA CHANCE DE ACONTECER).
- C. **MUITO PROVÁVEL DE ACONTECER** (MUITA CHANCE DE ACONTECER).

12. VI EM UM VIVEIRO DE PASSÁROS NA PRAÇA DA CIDADE UMA ARARA COM 20 METROS DE COMPRIMENTO.

- A. **IMPOSSÍVEL DE ACONTECER** (NÃO TEM CHANCE DE ACONTECER).
- B. **POUCO PROVÁVEL DE ACONTECER** (POUCA CHANCE DE ACONTECER).
- C. **MUITO PROVÁVEL DE ACONTECER** (MUITA CHANCE DE ACONTECER).

13. AMANHÃ TEREMOS AULA PELO GRUPO DE WHATSAPP.

- A. **IMPOSSÍVEL DE ACONTECER** (NÃO TEM CHANCE DE ACONTECER).
- B. **POUCO PROVÁVEL DE ACONTECER** (POUCA CHANCE DE ACONTECER).
- C. **MUITO PROVÁVEL DE ACONTECER** (MUITA CHANCE DE ACONTECER).

TERMINANDO A ATIVIDADE, TIRE UMA

E

ENVIE PARA A PROFESSORA ANALISAR!





2º Ano – Raquel Sueli Soeiro Camargo

03 DE SETEMBRO DE 2020

QUINTA-FEIRA

RESPONDAM NO , NÃO HÁ NECESSIDADE DE COPIAREM A PERGUNTA!

400	401	402	403	404	405	406	407	408	409
410	411	412	413	414	415	416	417	418	419
420	421	422	423	424	425	426	427	428	429
430	431	432	433	434	435	436	437	438	439
440	441	442	443	444	445	446	447	448	449

OBSERVE O QUADRO NUMÉRICO PARA PODER RESPONDER AS QUESTÕES ABAIXO:

1. QUAL O MAIOR NÚMERO DO QUADRO? \_\_\_\_\_
2. E O MENOR NÚMERO? PORQUE VOCÊ CONSIDERA ESSE NÚMERO SENDO O MENOR? \_\_\_\_\_
3. O QUE OS NÚMEROS DE TERCEIRA COLUNA TÊM DE PARECIDO? \_\_\_\_\_
4. O QUE HÁ DE PARECIDO ENTRE OS NÚMEROS DA PRIMEIRA LINHA? \_\_\_\_\_
5. QUAIS SÃO OS NÚMEROS DE TRÊS ALGARISMOS QUE TERMINAM COM 9? \_\_\_\_\_
6. QUAIS NÚMEROS SÃO OS SUCESSORES (VEM DEPOIS) DOS NÚMEROS TERMINADOS COM 9? \_\_\_\_\_
7. O QUE ELES TÊM DE SEMELHANTE? \_\_\_\_\_





2º Ano – Raquel Sueli Soeiro Camargo

## SITUAÇÃO PROBLEMA

### RESOLVAM ATRAVÉS DO DESENHO

COLECIONAR FOTOGRAFIAS DE ANIMAIS É UM PASSATEMPO DA PROFESSORA JÉSSICA. JÉSSICA E RENATA CONFERIRAM SUAS FOTOGRAFIAS. JÉSSICA TEM 21 FOTOGRAFIAS E RENATA 10 A MAIS QUE JÉSSICA. QUANTAS SÃO AS FOTOGRAFIAS DE RENATA?



CIME "PROFESSORA JACYRA RIBEIRO GUILARDI"  
RODOVIA MUNICIPAL 379  
BAIRRO BOA VEREDA – AMPARO – SP  
FONE (FAX) – 19 – 3807-9793

TERMINANDO A ATIVIDADE, TIRE UMA

E

ENVIE PARA A PROFESSORA ANALISAR!





2º Ano – Raquel Sueli Soeiro Camargo

04 DE SETEMBRO DE 2020

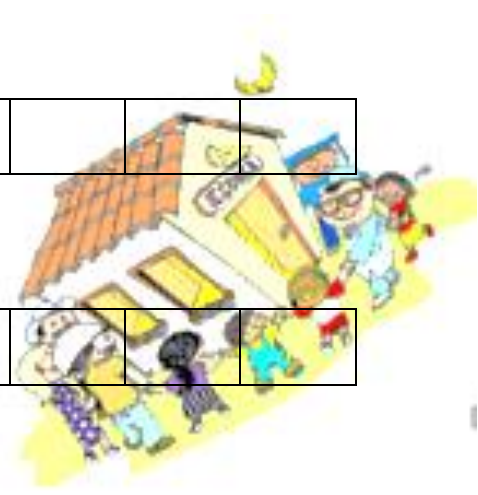
SEXTA-FEIRA

RESPONDAM NO , NÃO HÁ NECESSIDADE DE COPIAREM A PERGUNTA!

1) ESCREVA OS NÚMEROS QUE FALTAM EM CADA SEQUÊNCIA DE ACORDO COM A REGRA INDICADA:

350		360			375				
-----	--	-----	--	--	-----	--	--	--	--

450		452							
-----	--	-----	--	--	--	--	--	--	--



SITUAÇÃO PROBLEMA  
RESOLVAM ATRAVÉS DO DESENHO

2) KAMILATEM TEM 8 ANOS. DAQUI HÁ 10 ANOS. QUAL SERÁ A SUA IDADE?

TERMINANDO A ATIVIDADE, TIRE UMA  
E  
ENVIE PARA A PROFESSORA ANALISAR!





2º Ano – Raquel Sueli Soeiro Camargo

## EMAI 10.6

AGORA É A SUA VEZ....

VAMOS RESOLVER A ATIVIDADE 10.6 DA PÁGINA 65, DO LIVRO EMAI & LER E ESCREVER - ENSINO FUNDAMENTAL, VOLUME 1 - 2º ANO.

VAMOS LÁ....

CIME "PROFESSORA JACYRA RIBEIRO"  
RODOVIA MUNICIPAL 379  
BAIRRO BOA VEREDA – AMPARO – SP  
FONE (FAX) – 19 – 3807-9793

TERMINANDO A ATIVIDADE, TIRE UMA  
E  
ENVIE PARA A PROFESSORA ANALISAR!

