



2º Ano – Raquel Sueli Soeiro Camargo

09 DE SETEMBRO DE 2020

QUARTA-FEIRA

## MATEMÁTICA

RESPONDAM NO , NÃO HÁ NECESSIDADE DE COPIAREM A PERGUNTA!



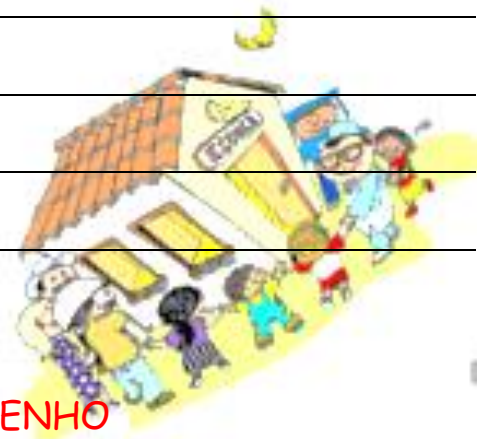
- 1) DIA DO DITADO DE NÚMERO. (ÁUDIO NO GRUPO)

---

---

---

---



SITUAÇÃO PROBLEMA  
RESOLVAM ATRAVÉS DO DESENHO

- 2) NA VISITA AO MUSEU FORAM 10 MENINAS E 12 MENINOS. NO TOTAL FORAM QUANTAS CRIANÇAS?



TERMINANDO A ATIVIDADE, TIRE UMA  
E  
ENVIE PARA A PROFESSORA ANALISAR!



2º Ano – Raquel Sueli Soeiro Camargo

RESPONDAM NO , NÃO HÁ NECESSIDADE DE COPIAREM A PERGUNTA!

## EMAI 11.3

### SITUAÇÕES PROBLEMA

### CONVERSA INICIAL

1. RESPONDAM NO CADERNO:

A) VOCÊ TEM ALGUM TIPO DE COLEÇÃO COMO DE FOTOS, DE CARRINHOS, DE BONECAS, OU DE GIBIS ? \_\_\_\_\_

B) VOCÊ POSSUI ALGUMA COLEÇÃO DIFERENTE DESSAS QUE FORAM CITADAS? \_\_\_\_\_

C) A COLEÇÃO TEM QUANTOS ELEMENTOS? \_\_\_\_\_



AGORA É A SUA VEZ....

VAMOS RESOLVER A ATIVIDADE 11.3 DA PÁGINA 68, DO LIVRO EMAI & LER E ESCREVER - ENSINO FUNDAMENTAL, VOLUME 1 - 2º ANO.

VAMOS LÁ....

TERMINANDO A ATIVIDADE, TIRE UMA  
E  
ENVIE PARA A PROFESSORA ANALISAR!





2º Ano – Raquel Sueli Soeiro Camargo

10 DE SETEMBRO DE 2020

QUINTA-FEIRA

## MATEMÁTICA

RESPONDAM NO , NÃO HÁ NECESSIDADE DE COPIAREM A PERGUNTA!

1) ORGANIZAR OS NÚMEROS NA ORDEM CRESCENTE.

713	746	739	701	722	744	732	707	710	728

1) GRAVE UM ÁUDIO DA LEITURA DESSES NÚMEROS E ENVIE PARA A PROFESSORA NO GRUPO.

### SITUAÇÃO PROBLEMA

### RESOLVAM ATRAVÉS DO DESENHO

2) JOSÉ DESENHOU 8 QUADRADOS. METADE ELE PINTOU DE VERDE E METADE ELE PINTOU DE AMARELO. AGORA É A SUA VEZ! DESENHE E PINTE OS QUADRADOS E DESCUBRA A METADE DE 8.

TERMINANDO A ATIVIDADE, TIRE UMA  
E  
ENVIE PARA A PROFESSORA ANALISAR!





2º Ano – Raquel Sueli Soeiro Camargo

RESPONDAM NO , NÃO HÁ NECESSIDADE DE COPIAREM A PERGUNTA!

EMAI 11.4

### CONVERSA INICIAL

1) VOCÊ LEMBRA O QUE SIGNIFICA ESSE SINAL "-"?

---

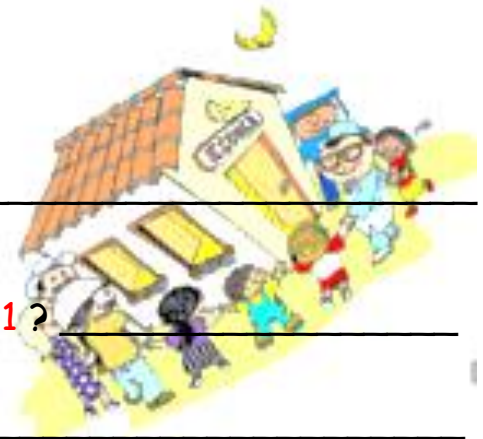
2) E ESSE "="?

---

3) QUAL O RESULTADO DESSA OPERAÇÃO  $7 - 1$ ?

4) E DE  $20 - 1$ ?

5) E O RESULTADO DE  $20 - 20$ ?



VAMOS RESOLVER A ATIVIDADE 11.4 DA PÁGINA 69, DO LIVRO EMAI & LER E ESCREVER - ENSINO FUNDAMENTAL, VOLUME 1 - 2º ANO.

TERMINANDO A ATIVIDADE, TIRE UMA

E

ENVIE PARA A PROFESSORA ANALISAR!





2º Ano – Raquel Sueli Soeiro Camargo

11 DE SETEMBRO DE 2020

SEXTA-FEIRA

## MATEMÁTICA

RESPONDAM NO , NÃO HÁ NECESSIDADE DE COPIAREM A PERGUNTA!

1) ORGANIZAR OS NÚMEROS NA ORDEM DECRESCENTE.

710	743	722	739	712	701	744	733	720	718



SITUAÇÃO PROBLEMA  
RESOLVAM ATRAVÉS DO DESENHO

UMA EQUIPE DE BASQUETE MARCOU 40 PONTOS NO PRIMEIRO TEMPO E 50 PONTOS NO SEGUNDO TEMPO. QUANTOS PONTOS FEZ A EQUIPE NO JOGO TODO?

TERMINANDO A ATIVIDADE, TIRE UMA  
E  
ENVIE PARA A PROFESSORA ANALISAR!






2º Ano – Raquel Sueli Soeiro Camargo

RESPONDAM NO , NÃO HÁ NECESSIDADE DE COPIAREM A PERGUNTA!

## EMAI 11.5

### CONVERSA INICIAL

1. VOCÊ CONHECE ALGUM JOGO EM QUE SÃO USADAS CARTELAS COM NÚMEROS? QUAL (IS)?



AGORA É A SUA VEZ....

VAMOS RESOLVER AS ATIVIDADES 11.5 DA PÁGINA 70 E 71,  
DO LIVRO EMAI & LER E ESCREVER - ENSINO  
FUNDAMENTAL, VOLUME 1 - 2º ANO.  
VAMOS LÁ....

TERMINANDO A ATIVIDADE, TIRE UMA  
E  
ENVIE PARA A PROFESSORA ANALISAR!

