



2º Ano – Raquel Sueli Soeiro Camargo

21 DE SETEMBRO DE 2020

SEGUNDA-FEIRA

MATEMÁTICA

RESPONDAM NO , NÃO HÁ NECESSIDADE DE COPIAREM A PERGUNTA!

500	501	502	503	504	505	506	507	508	509
510	511	512	513	514	515	516	517	518	519
520	521	522	523	524	525	526	527	528	529
530	531	532	533	534	535	536	537	538	539
540	541	542	543	544	545	546	547	548	549

OBSERVE O QUADRO NUMÉRICO PARA PODER RESPONDER AS QUESTÕES ABAIXO:

1. QUAL O MAIOR NÚMERO DO QUADRO? _____
2. E O MENOR NÚMERO? PORQUE VOCÊ CONSIDERA ESSE NÚMERO SENDO O MENOR? _____
3. O QUE OS NÚMEROS DA SEXTA COLUNA TÊM DE PARECIDO? _____
4. O QUE HÁ DE PARECIDO ENTRE OS NÚMEROS DA SEGUNDA LINHA? _____
5. QUAIS SÃO OS NÚMEROS DE TRÊS ALGARISMOS QUE TERMINAM COM 9? _____
6. QUAIS NÚMEROS SÃO OS SUCESSORES (VEM DEPOIS) DOS NÚMEROS TERMINADOS COM 9? _____
7. O QUE ELES TÊM DE SEMELHANTE? _____



2º Ano – Raquel Sueli Soeiro Camargo

8. ESCOLHA UMA LINHA OU COLUNA E FAÇA A LEITURA PARA A PROFESSORA, ATRAVÉS DO ÁUDIO.

SITUAÇÃO PROBLEMA

RESOLVAM ATRAVÉS DO DESENHO

LAURA E LORENA SÃO IRMÃS E JUNTOS ESTÃO COLECIONANDO DIFERENTES TIPOS DE CHAVEIROS. LAURA JUNTOU 15 CHAVEIROS E LORENA 11. QUANTOS CHAVEIROS ELAS CONSEGUIRAM PARA A COLEÇÃO?



CIME "PROFESSORA JACYRA RIBEIRO GUILARDI"
RODOVIA MUNICIPAL 379
BAIRRO BOA VEREDA – AMPARO – SP
FONE (FAX) – 19 – 3807-9793

TERMINANDO A ATIVIDADE, TIRE UMA

E

ENVIE PARA A PROFESSORA ANALISAR!





2º Ano – Raquel Sueli Soeiro Camargo

22 DE SETEMBRO DE 2020

TERÇA-FEIRA

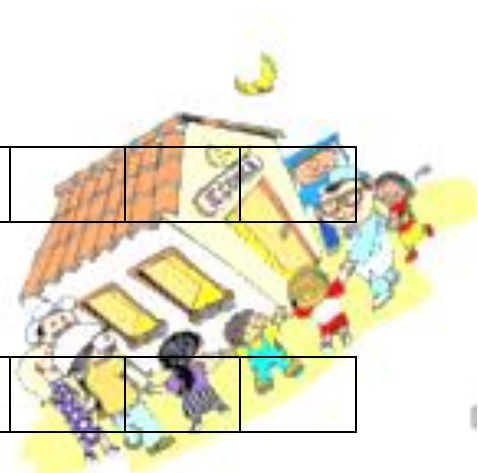
MATEMÁTICA

RESPONDAM NO , NÃO HÁ NECESSIDADE DE COPIAREM A PERGUNTA!

1) ESCREVA OS NÚMEROS QUE FALTAM EM CADA SEQUÊNCIA DE ACORDO COM A REGRA INDICADA:

511		513		515					
-----	--	-----	--	-----	--	--	--	--	--

610	612								
-----	-----	--	--	--	--	--	--	--	--



CIME "PROFESSORA JACYRA RIBEIRO GUILARDI"
RODOVIA MUNICIPAL 379
BAIRRO BOA VEREDA – AMPARO – SP
FONE (FAX) – 19 – 3807-9793

SITUAÇÃO PROBLEMA
RESOLVAM ATRAVÉS DO DESENHO

2) BRUNA TEM 8 ANOS. DAQUI HÁ 10 ANOS. QUAL SERÁ A SUA IDADE?

TERMINANDO A ATIVIDADE, TIRE UMA
E
ENVIE PARA A PROFESSORA ANALISAR!





2º Ano – Raquel Sueli Soeiro Camargo

EMAI 12.4

CONVERSA INICIAL


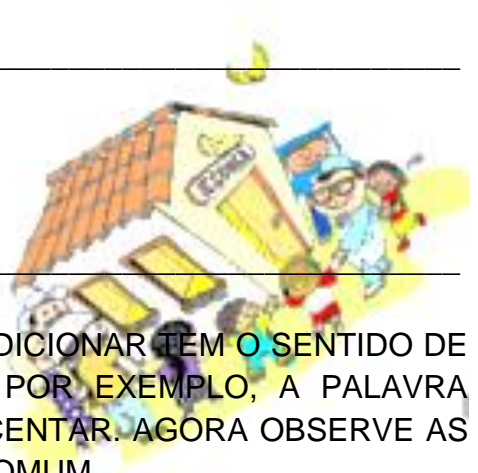
HOJE VAMOS FALAR SOBRE FATOS BÁSICOS DA ADIÇÃO

1. O QUE VOCÊS ENTENDEM POR ADICIONAR?

2. E POR SOMAR?

3. ADICIONAR E SOMAR TEM O MESMO SIGNIFICADO?

4. VALE LEMBRAR QUE NA MATEMÁTICA A PALAVRA ADICIONAR TEM O SENTIDO DE SOMAR/JUNTAR E SE FOSSE EM UMA RECEITA, POR EXEMPLO, A PALAVRA ADICIONAR TEM O SENTIDO DE MISTURAR, ACRESCENTAR. AGORA OBSERVE AS CARTELAS ABAIXO E VEJA SE ELAS TEM ALGO EM COMUM.





2º Ano – Raquel Sueli Soeiro Camargo

5. AGORA QUE VOCÊ JA OBSERVOU O RESULTADO, TENDE LEMBRAR QUE NÚMERO ADICIONADO TEM O RESULTADO 10.

A) $3 + \underline{\quad} = 10$

B) $2 + \underline{\quad} = 10$

C) $9 + \underline{\quad} = 10$

AGORA É A SUA VEZ...

VAMOS RESOLVER A ATIVIDADE 12.4 DA PÁGINA 75, DO LIVRO EMAI & LER E ESCREVER - ENSINO FUNDAMENTAL, VOLUME 1 - 2º ANO.

VAMOS LÁ...

CIME "PROFESSORA JACYRA RIBEIRO GUILARDI"
RODOVIA MUNICIPAL 379
BAIRRO BOA VEREDA – AMPARO – SP
FONE (FAX) – 19 – 3807-9793

TERMINANDO A ATIVIDADE, TIRE UMA
E
ENVIE PARA A PROFESSORA ANALISAR!





2º Ano – Raquel Sueli Soeiro Camargo

23 DE SETEMBRO DE 2020

QUARTA-FEIRA

MATEMÁTICA

RESPONDAM NO , NÃO HÁ NECESSIDADE DE COPIAREM A PERGUNTA!



- 1) DIA DO DITADO DE NÚMERO. (ÁUDIO NO GRUPO)

SITUAÇÃO PROBLEMA
RESOLVAM ATRAVÉS DO DESENHO



- 2) NA VISITA AO MUSEU FORAM 36 MENINAS E 28 MENINOS. NO TOTAL FORAM QUANTAS CRIANÇAS?

CIME "PROFESSORA JACYRA RIBEIRO GUILARDI"
RODOVIA MUNICIPAL 379
BAIRRO BOA VEREDA – AMPARO – SP
FONE (FAX) – 19 – 3807-9793

TERMINANDO A ATIVIDADE, TIRE UMA
E
ENVIE PARA A PROFESSORA ANALISAR!





2º Ano – Raquel Sueli Soeiro Camargo

RESPONDAM NO , NÃO HÁ NECESSIDADE DE COPIAREM A PERGUNTA!

EMAI 12.5

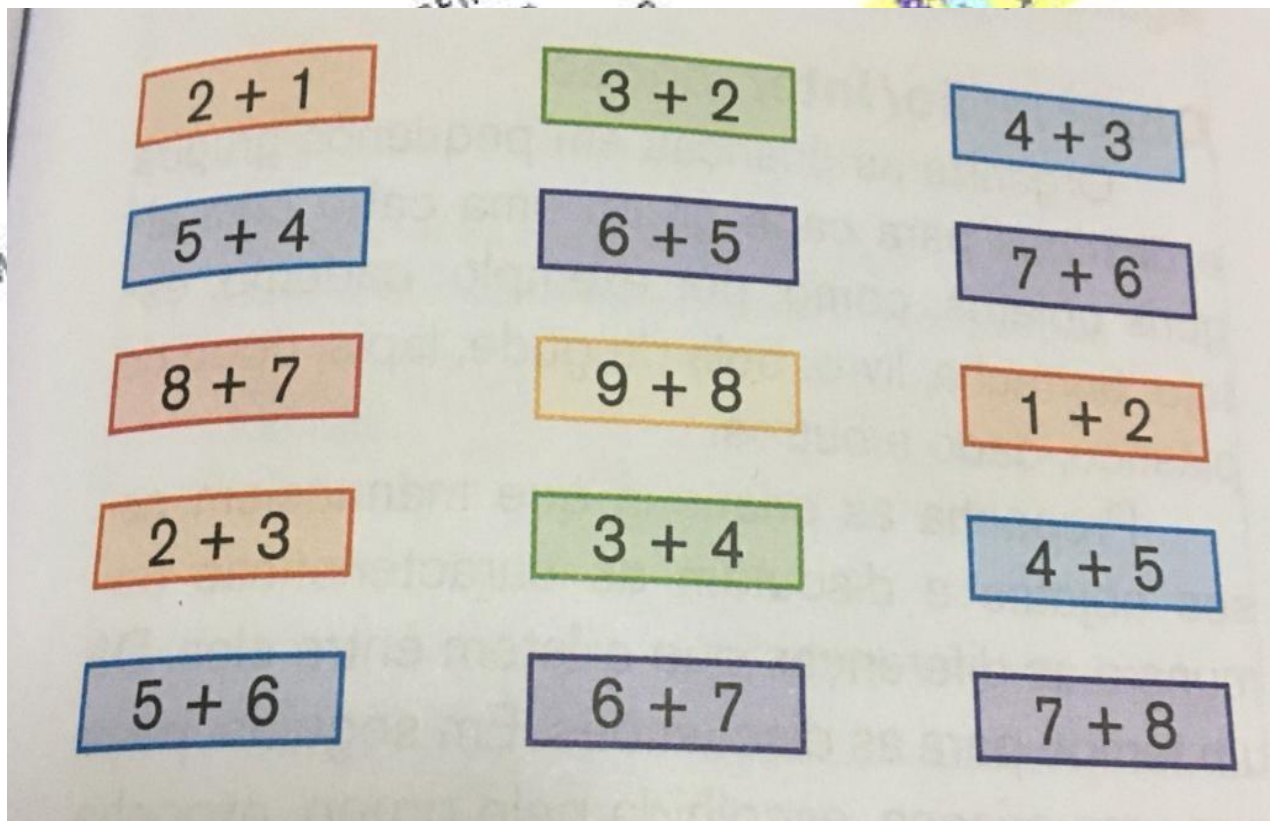
FATOS BÁSICOS DA ADIÇÃO

CONVERSA INICIAL

1) VOCÊ SABE ME DIZER O QUE SÃO REGRAS DE UM JOGO? _____

2) QUANDO VOCÊ VAI JOGAR UM JOGO PELA PRIMEIRA VEZ, É IMPORTANTE SABER AS REGRAS? _____

3) VAMOS RETOMAR ALGUMAS ADIÇÕES PARA NOS AUXILIAR NOS CÁLCULOS.





2º Ano – Raquel Sueli Soeiro Camargo

AGORA É A SUA VEZ....

VAMOS RESOLVER A ATIVIDADE 12.5 DA PÁGINA 76, DO LIVRO EMAI & LER E ESCREVER - ENSINO FUNDAMENTAL, VOLUME 1 - 2º ANO.
VOCÊ VAI JOGAR COM ALGUÉM DA SUA CASA E FILMAR O JOGO PARA A PROFESSORA.

VAMOS LÁ....



CIME "PROFESSORA JACYRA RIBEIRO GUILARDI"
RODOVIA MUNICIPAL 379
BAIRRO BOA VEREDA – AMPARO – SP
FONE (FAX) – 19 – 3807-9793

TERMINANDO A ATIVIDADE, TIRE UMA
E
ENVIE PARA A PROFESSORA ANALISAR!





2º Ano – Raquel Sueli Soeiro Camargo

24 DE SETEMBRO DE 2020

QUINTA-FEIRA

MATEMÁTICA

RESPONDAM NO , NÃO HÁ NECESSIDADE DE COPIAREM A PERGUNTA!

1) ORGANIZAR OS NÚMEROS NA ORDEM CRESCENTE.

826	818	841	839	809	806	828	847	834	811

1) GRAVE UM ÁUDIO DA LEITURA DESSES NÚMEROS E ENVIE PARA A PROFESSORA NO GRUPO.

SITUAÇÃO PROBLEMA

RESOLVAM ATRAVÉS DO DESENHO

2) JOSÉ DESENHOU 4 QUADRADOS. METADE ELE PINTOU DE VERDE E METADE ELE PINTOU DE AMARELO. AGORA É A SUA VEZ! DESENHE E PINTE OS QUADRADOS E DESCUBRA A METADE DE 4.

TERMINANDO A ATIVIDADE, TIRE UMA
E
ENVIE PARA A PROFESSORA ANALISAR!





2º Ano – Raquel Sueli Soeiro Camargo

RESPONDAM NO , NÃO HÁ NECESSIDADE DE COPIAREM A PERGUNTA!

EMAI 13.1

BRINQUEDOS E FORMAS

HOJE A PROFESSORA IRÁ COLOCAR NO GRUPO UM VÍDEO COM ALGUNS DE SEUS OBJETOS E SUAS DIFERENÇAS. DEPOIS DE ASSISTI-LO IREMOS RESOLVER A ATIVIDADE 13.1 DA PÁGINA 77, DO LIVRO EMAI & LER E ESCREVER - ENSINO FUNDAMENTAL, VOLUME 1 - 2º ANO.



CIME "PROFESSORA JACYRA RIBEIRO GUILARDI"
RODOVIA MUNICIPAL 379
BAIRRO BOA VEREDA – AMPARO – SP
FONE (FAX) – 19 – 3807-9793

TERMINANDO A ATIVIDADE, TIRE UMA

E

ENVIE PARA A PROFESSORA ANALISAR!





2º Ano – Raquel Sueli Soeiro Camargo

25 DE SETEMBRO DE 2020

SEXTA-FEIRA

MATEMÁTICA

RESPONDAM NO , NÃO HÁ NECESSIDADE DE COPIAREM A PERGUNTA!

1) ORGANIZAR OS NÚMEROS NA ORDEM DECRESCENTE.

750	773	762	789	792	791	774	753	780	768

SITUAÇÃO PROBLEMA
RESOLVAM ATRAVÉS DO DESENHO



2) UMA EQUIPE DE BASQUETE MARCOU 60 PONTOS NO PRIMEIRO TEMPO E 100 PONTOS NO SEGUNDO TEMPO. QUANTOS PONTOS FEZ A EQUIPE NO JOGO TODO?

TERMINANDO A ATIVIDADE, TIRE UMA
E
ENVIE PARA A PROFESSORA ANALISAR!





2º Ano – Raquel Sueli Soeiro Camargo

RESPONDAM NO , NÃO HÁ NECESSIDADE DE COPIAREM A PERGUNTA!

EMAI 13.2

CONVERSA INICIAL

1. NA AULA PASSADA TIRAMOS FOTOS DE ALGUNS OBJETOS QUE TEMOS EM CASA, E AGORA É A SUA VEZ DE COMPARÁ-LOS. ESCOLHA DOIS DELES E DESCREVA SUAS DIFERENÇAS?



AGORA É A SUA VEZ....

VAMOS RESOLVER AS ATIVIDADES 13.2 DA PÁGINA 78, DO LIVRO EMAI & LER E ESCREVER - ENSINO FUNDAMENTAL, VOLUME 1 - 2º ANO.

VAMOS LÁ....

TERMINANDO A ATIVIDADE, TIRE UMA
E
ENVIE PARA A PROFESSORA ANALISAR!

