



1º Ano Professora Letícia Carradori Boyago

09 DE SETEMBRO DE 2020

QUARTA-FEIRA

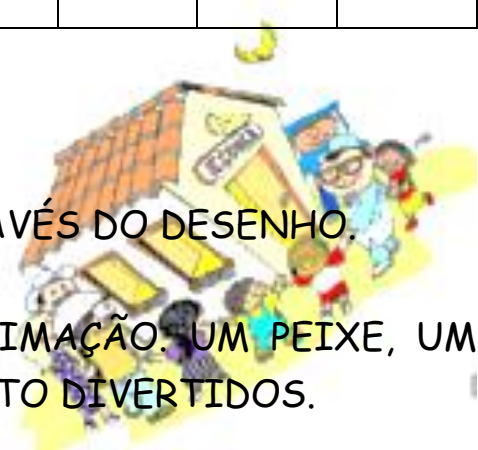
ORGANIZE OS NÚMEROS ABAIXO EM ORDEM CRESCENTE.

21	27	23	20	24	28	26	29	22	25




SITUAÇÃO PROBLEMA - RESOLVA ATRAVÉS DO DESENHO.

ROGÉRIO TEM TRÊS BICHOS DE ESTIMAÇÃO: UM PEIXE, UM GATO E UM CACHORRO. ELES SÃO MUITO DIVERTIDOS.



- O PEIXE NÃO SE CHAMA PITUCO.
- O GATO BRINCA MUITO COM O TICO.
- O TUCO NADA O DIA INTEIRO.



DESCUBRA O NOME DE CADA BICHINHO.

---



1º Ano Professora Letícia Carradori Boyago  
**EMAI - SEQUÊNCIA 10, ATIVIDADE 10.4**

**CONVERSA INICIAL**


A. QUAIS SÃO AS CORES QUE VOCÊ CONHECE?

---

B. E AS FORMAS? QUAIS FORMAS VOCÊ CONHECE?

---

C. SE VOCÊ PRECISASSE ORGANIZAR OS OBJETOS ABAIXO CONSIDERANDO QUALQUER UMA DAS SUAS CARACTERÍSTICAS, COMO VOCÊ FARIA? DESENHE AS FIGURAS QUE PODERIAM FICAR JUNTO E DEPOIS EXPLIQUE COMO VOCÊ PENSOU?



CIME "

BAIRRO BL.

FONE (FAX)

---

---

---

---

D. LIVRO EMAI E LER E ESCREVER - PÁGINA 55.



PRESTE ATENÇÃO NO ÁUDIO DA PROFESSORA.

TERMINANDO A ATIVIDADE, TIRE UMA



E ENVIE PARA A PROFESSORA

ANALISAR!



1º Ano Professora Letícia Carradori Boyago

10 DE SETEMBRO DE 2020

QUINTA-FEIRA

ORGANIZE OS NÚMEROS ABAIXO EM ORDEM DECRESCENTE.

24	21	28	23	25	20	27	29	26	22



SITUAÇÃO PROBLEMA – RESOLVA ATRAVÉS DO DESENHO.

A SALA DO TERCEIRO ANO POSSUI 25 ALUNOS. SE 14 SÃO MENINOS, QUANTAS SÃO AS MENINAS?

CIME "PROFESSORA JACYRA RIBEIRO GUILARDI"  
RODOVIA MUNICIPAL 379  
BAIRRO BOA VEREDA – AMPARO – SP  
FONE (FAX) – 19 – 3807-9793



1º Ano Professora Letícia Carradori Boyago  
**EMAI - SEQUÊNCIA 11, ATIVIDADE 11.1**

**CONVERSA INICIAL**

QUESTIONAMENTOS:

A. VOCÊ JÁ REPARAROU QUE ALGUNS ANIMAIS TÊM 2 PÉS E OUTROS TÊM 4 PÉS? \_\_\_\_\_

B. QUAIS ANIMAIS QUE VOCÊ CONHECE COM DOIS PÉS?  
\_\_\_\_\_

C. E COM QUATRO PÉS?  
\_\_\_\_\_

D. VOCÊS JÁ VIRAM GALINHAS E PINTINHOS? \_\_\_\_\_


E. SABEM COMO SE ALIMENTAM?  
\_\_\_\_\_


F. ONDE VIVEM?  
\_\_\_\_\_

G. QUANTOS PÉS TEM A GALINHA? \_\_\_\_\_

H. E O PINTINHO? \_\_\_\_\_

I. LIVRO EMAI E LER E ESCREVER - PÁGINA 56.



 PRESTE ATENÇÃO NO ÁUDIO DA PROFESSORA.

TERMINANDO A ATIVIDADE, TIRE UMA



ANALISAR!

E ENVIE PARA A PROFESSORA



1º Ano Professora Letícia Carradori Boyago

11 DE SETEMBRO DE 2020

SEXTA-FEIRA



SITUAÇÃO PROBLEMA - RESOLVA ATRAVÉS DO DESENHO.

MAGALI MONTOU UMA SORVETERIA. VENDEU 18 PICOLÉS PELA MANHÃ E 15 DURANTE A TARDE. QUANTOS PICOLÉS MAGALI VENDEU?



1 - OBSERVE O QUADRO ABAIXO E RESPONDA.

0	1	2	3	4	5	6	7	8	9
10	11	12	13	14	15	16	17	18	19
20	21	22	23	24	25	26	27	28	29
30	31	32	33	34	35	36	37	38	39
40	41	42	43	44	45	46	47	48	49
50	51	52	53	54	55	56	57	58	59
60	61	62	63	64	65	66	67	68	69
70	71	72	73	74	75	76	77	78	79
80	81	82	83	84	85	86	87	88	89
90	91	92	93	94	95	96	97	98	99

A. A PROFESSORA COLOCOU UMA FICHA NO NÚMERO 26. OBSERVANDO O QUADRO NUMÉRICO QUE NÚMEROS PODEM ESTAR PERTO DELE QUE VALE:

1 A MENOS QUE 26: \_\_\_\_\_



1º Ano Professora Letícia Carradori Boyago

1 A MAIS QUE 26: \_\_\_\_\_

10 A MENOS QUE 26: \_\_\_\_\_

10 A MAIS QUE 26: \_\_\_\_\_

B. QUE NÚMERO ESTÁ ANTES DO 68 E DEPOIS 66? \_\_\_\_\_

C. OBSERVE A QUARTA COLUNA. SOU UM NÚMERO DE DOIS ALGARISMOS,  
ESTOU ENTRE O 53 E O 93, E COMEÇO COM 7. \_\_\_\_\_



CIME "PROFESSORA JACYRA RIBEIRO GUILARDI"  
RODOVIA MUNICIPAL 379  
BAIRRO BOA VEREDA – AMPARO – SP  
FONE (FAX) – 19 – 3807-9793

TERMINANDO A ATIVIDADE, TIRE UMA



ANALISAR!

E ENVIE PARA A PROFESSORA