

# ATIVIDADE DO LIVRO

AMPARO, \_\_\_\_ DE \_\_\_\_ DE 2020  
HOJE É \_\_\_\_\_  
NOME: \_\_\_\_\_

1-COPIE O QUADRO ,ABAIXO,NO CADERNO

## Mau x Mal

### MAU

É um adjetivo. Opõe-se a "BOM".

Exemplo: Ele é mau aluno.

Na troca: Ele é (bom) aluno.

### MAL

É um advérbio. Opõe-se a "BEM".

Exemplo: Ele se veste mal.

Na troca: Ele se veste (bem).

Fonte: Soltando a Língua / Sérgio Nogueira / Global Editora



2- Copiar o quadro verde da página 142 no caderno (ORTOGRAFIA MAL E MAU)

3-Leia com atenção e resolva as atividades do livro didático da página 143,144 e 145 (no próprio livro). (ORTOGRAFIA MAL E MAU)

4- Leia a tirinha, abaixo, copie e responda no caderno as questões .



a) A palavra MAL nessa tirinha é o antônimo de \_\_\_\_\_.

b) Se a personagem não estivesse MAL HUMORADA, ela estaria \_\_\_\_\_ humorada.

5-Leia as frases e complete-as com MAU ou MAL:

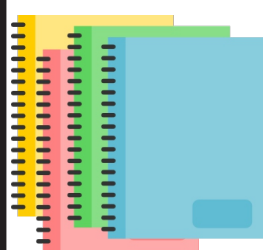
a) João tem um vizinho muito \_\_\_\_\_.

b) Sônia passou muito \_\_\_\_\_ ontem à noite.

c) É preciso cortar o \_\_\_\_\_ pela raiz.

d) Rebeca olhou para Ricardo e achou que ele estava com uma cara de \_\_\_\_\_.





# ATIVIDADE DO CADERNO

AMPARO, \_\_\_\_ DE \_\_\_\_\_ DE 2020  
HOJE É \_\_\_\_\_  
NOME: \_\_\_\_\_

6- Leia a tirinha, abaixo, copie e responda no caderno as questões .



Fernando Gonsales. Folha de S.Paulo, 12 ago. 2007.

a) Qual o problema que se apresenta no 1º quadrinho?

\_\_\_\_\_

b) Observe o 2º quadrinho e complete as lacunas com BEM e BOM.

MAL é contrário de \_\_\_\_\_

MAU é contrário de \_\_\_\_\_

7- Complete as frases a seguir com MAL ou MAU (COPIAR NO CADERNO)

a) Ele teve um \_\_\_\_ dia, por isso dormiu \_\_\_\_.

b) Márcia foi \_\_\_\_ na prova.

c) Todos estão passando \_\_\_\_ hoje.

d) O \_\_\_\_ elemento foi levado pela polícia.

e) O chefe está de \_\_\_\_ humor; acho que está de \_\_\_\_ com a vida.

f) Você só quer o nosso \_\_\_\_.

g) Esse menino tem \_\_\_\_ costume.

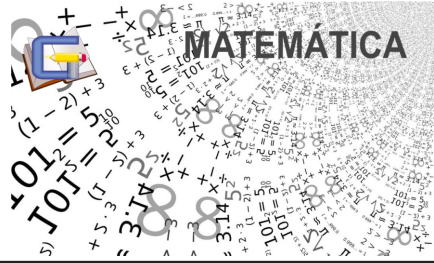
h) Suas alunas leem muito \_\_\_\_.

i) A batalha entre o bem e o \_\_\_\_ jamais terá fim.

j) Esse menino é um \_\_\_\_ exemplo para a turma.

8- Apostila interdisciplinar (segunda apostila) 5ª e 6ª dia texto ``O PALHAÇO CAOLHO``.





# ATIVIDADE DO CADERNO

AMPARO, \_\_\_\_ DE \_\_\_\_\_ DE 2020  
HOJE É \_\_\_\_\_  
NOME: \_\_\_\_\_

**QUESTÃO 1** – Ana Clara aprendeu, na escola, a decompor os números. Sua professora pediu que ela fizesse a decomposição do número **85.632**. Assinale a decomposição correta, feita por Ana Clara:

- ( )  $80.000 + 5.000 + 600 + 30 + 2$
- ( )  $80.000 + 5.000 + 600 + 32$
- ( )  $8.000 + 5.000 + 600 + 30 + 2$
- ( )  $8.000 + 500 + 60 + 32$

**QUESTÃO 2** - Leandro estava jogando baralho. Na primeira partida, fez 3.724 pontos. Na segunda, fez 1.892 pontos. Na terceira partida, perdeu 452 pontos. Quantos pontos Leandro fez ao final dessas três partidas?

- (A) 5. 535
- (B) 5.164
- (C) 5.645
- (D) 5.655



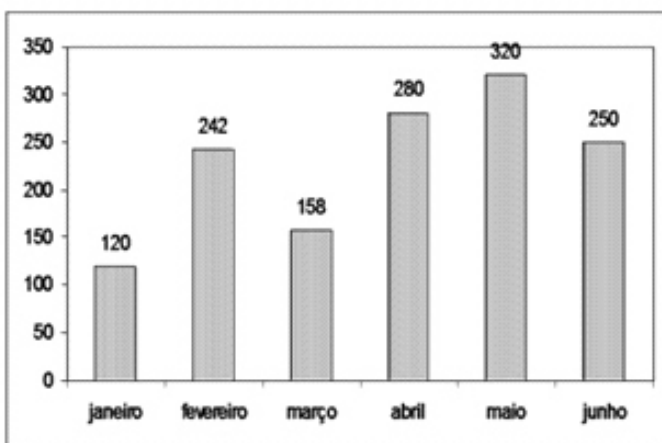
**QUESTÃO 3** - No número **20.910**, o algarismo **2** ocupa a ordem das:

- (A) dezenas simples    (B) centenas simples    (C) unidades simples    (D) dezenas de milhar.

**QUESTÃO 4** - O número **18.093** lê-se:

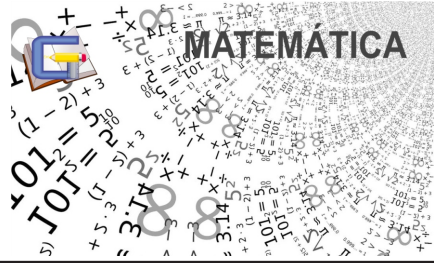
- (A) dezoito mil e novecentos e três.                      (C) dezoito mil e noventa e três.
- (B) dezoito mil e trinta e nove.                              (D) dezoito mil e nove e três.

**QUESTÃO 5** - O gráfico abaixo mostra o total de televisores vendidos por uma loja no primeiro semestre de 2006. Observe o gráfico e responda:



Qual foi o total de televisores vendidos nos três primeiros meses do ano?





# ATIVIDADE DO CADERNO

AMPARO, \_\_\_\_ DE \_\_\_\_\_ DE 2020

HOJE É \_\_\_\_\_

NOME: \_\_\_\_\_

**QUESTÃO 6** - Luciana e seu irmão foram ao circo, no intervalo do espetáculo, resolveram lanchar com os R\$ 15,00 que lhes restavam. Pediram: 2 sucos, 2 salgadinhos e 1 docinho.

Tabela de Preços

Suco	-	R\$	3,20
Salgadinho	-	R\$	2,70
Docinho	-	R\$	1,50
Pipoca	-	R\$	2,50

De acordo com os preços da tabela marque a resposta que indica qual foi o troco de Maria e seu irmão?

A( ) R\$ 13,30.

B( ) R\$ 1,70

C( ) R\$ 15,00.

D( ) R\$ 6,40.

**QUESTÃO 7** - O percurso que Paulo faz de sua casa até seu trabalho é de 4 km. Em 5 dias o trajeto total que Pedro faz de ida e volta é de:

- a) 4 km.
- b) 40 km.
- c) 400 km.
- d) 20 km.

**QUESTÃO 8** - Uma escola recebeu a doação de 3 caixas de 1000 livros, mais 8 caixas de 100 livros, mais 5 pacotes de 10 livros, mais 9 livros. Esta escola recebeu o total de

(A) 3.589 livros.

(C) 3.859 livros.

(B) 30.859 livros.

(D) 38.590 livros.

**QUESTÃO 9** - Numa prateleira de Mercado temos 38.154 maçãs. 19.306 delas são maçãs Gala e as outras são maçãs Fuji. Quantas são maçãs Fuji?

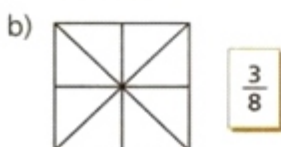
(A) 10.586

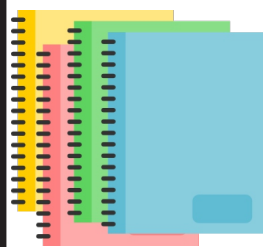
(B) 16.484

(C) 18.848

(D) 20.198

**QUESTÃO 10** - Pinte de acordo com as frações:





AMPARO, \_\_\_\_ DE \_\_\_\_\_ DE 2020

HOJE É \_\_\_\_\_

NOME: \_\_\_\_\_

## CORONAVÍRUS COVID-19

### O que você precisa saber e fazer. Como prevenir o contágio:



Lave as mãos com água e sabão ou use álcool em gel.



Cubra nariz e boca ao espirrar ou tossir.



Evite aglomerações se estiver doente.



Mantenha os ambientes bem ventilados.



Não compartilhe objetos pessoais.



### Ciclo do novo coronavírus

#### A transmissão

**Contágio via animal**  
Contato com carne de animais silvestres



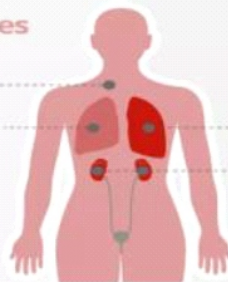
**Contágio entre humanos**  
Forma mais comum é pelo ar. Pessoa contaminada tosse ou espirra, espalhando o vírus



#### Sintomas

##### Em casos menos graves

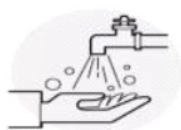
Febre  
Dificuldade para respirar



##### Em casos graves

Síndrome respiratória aguda grave  
Insuficiência renal

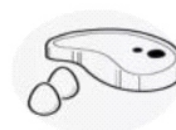
#### Recomendações de prevenção



Lavar as mãos



Cobrir a boca e o nariz ao espirrar



Cozinhar bem carne e ovos

Fonte: Organização Mundial da Saúde

Infográfico elaborado em: 22/01/2020





# ATIVIDADE DO CADERNO

AMPARO, \_\_\_\_ DE \_\_\_\_\_ DE 2020

HOJE É \_\_\_\_\_

NOME: \_\_\_\_\_

A pandemia do coronavírus fez com que o governo federal, estados e municípios anunciassem diversas medidas para tentar conter a transmissão da doença no Brasil. Isso afeta escolas e universidades, transportes públicos, serviços de saúde, comércios, órgãos públicos e privados.

fonte: [www.g1.com](http://www.g1.com)

No texto a cima lemos sobre as medidas que o governo federal, estados e municípios tomaram para prevenir a pandemia de coronavírus.

Você já ouviu falar sobre pandemia, endemia e epidemia? Responda na linha abaixo.

---

---

Pesquise o significado de cada uma dessas palavras, observe a diferença e a aplicação de cada conceito.

Pandemia: \_\_\_\_\_

---

---

Endemia: \_\_\_\_\_

---

---

Epidemia: \_\_\_\_\_

---

---





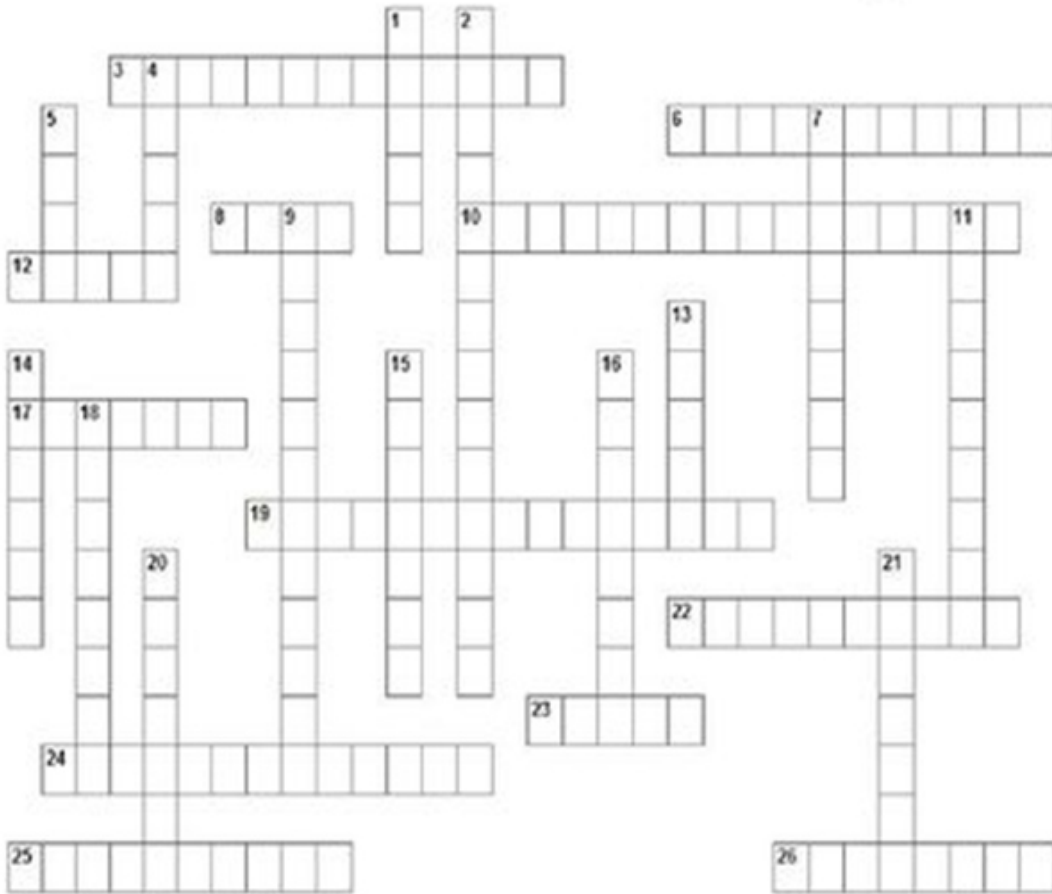
# ATIVIDADE DA FOLHINHA

AMPARO, \_\_\_\_\_ DE \_\_\_\_\_ DE 2020

HOJE É \_\_\_\_\_

NOME: \_\_\_\_\_

Escreva os nomes dos Estados Brasileiros conforme as suas siglas:



**Vertical**

- 3. SC
- 6. MG
- 8. PA
- 10. RN
- 12. CE
- 17. AL
- 19. MS
- 22. MT
- 23. PI
- 24. ES
- 25. PE
- 26. MA

**Horizontal**

- 1. BA
- 2. RS
- 4. AP
- 5. AC
- 7. SP
- 9. RJ
- 11. TO
- 13. GO
- 14. PR
- 15. SE
- 16. RO
- 18. AM
- 20. PB
- 21. RR





*História*

# ATIVIDADE DO CADERNO

AMPARO, \_\_\_\_ DE \_\_\_\_\_ DE 2020

HOJE É \_\_\_\_\_

NOME: \_\_\_\_\_

1- Fazer uma pesquisa a partir dessas informações a baixo:

## As primeiras cidades brasileiras

Ano: **5º ano do Ensino Fundamental**

Unidade temática: **Povos e culturas: meu lugar no mundo e meu grupo social**

Objeto (s) de conhecimento: **As formas de organização social e política: a noção de Estado**

Habilidade(s) da BNCC: **(EF05HI02) Identificar os mecanismos de organização do poder político com vistas à compreensão da ideia de Estado e/ou de outras formas de ordenação social.**

Palavras-Chave: **Cidade; Vila; Templo; Rural; Urbano**

2- Responder o quiz online abaixo sobre revolução urbana.

<https://pt.quizur.com/trivia/o-quanto-voce-sabe-sobre-a-revolucao-urbana-eMJ1>








Clique no link para acessar a aula de Educação Física com o Professora Cassia



<https://www.youtube.com/watch?v=0IUpcqUMkuo>



**Atividades no caderno de desenho**

ASSISTA AO VÍDEO: PINTURA PARA CRIANÇA-AUTORETRATO ATELIER

MARISTELA RIBEIRO.WMV : <https://youtu.be/A4hOJUQdgOK>

ASSISTA AO VÍDEO: JOGO DO TUM PÁ, BARBATUQUES

<https://youtu.be/eTo6OryqNdw>

OBSERVE ESSES AUTO RETRATOS FEITOS POR PINTORES FAMOSOS.



A) QUAIS CARACTERÍSTICAS QUE CADA UM DOS PINTORES DESTACOU NA SUA AUTO-IMAGEM?

VICENT VAN GOGH \_\_\_\_\_

TARCILA DO AMARAL \_\_\_\_\_

PAUL GAUGIN \_\_\_\_\_

B) EM SEU AUTO RETRATO O QUE VOCÊ MAIS DESTACARIA? FAÇA SEU AUTO RETRATO NO CADERNO DE DESENHO

