

ATIVIDADE DO CADERNO

AMPARO, ____ DE ____ DE 2020
HOJE É _____
NOME: _____

Pronome possessivo


1-Assista o vídeo explicativo antes de fazer as atividades vai ajudar muito !!!

<https://youtu.be/heD-XvtMh1E> -pronomes possessivos.

2-Agora vamos para o livro texto: págs 66 e 67(atividades 1 até a 5) leia e faça as atividades com atenção!!!

No quadro da questão número 2, observe como vou fazer aqui:

Siga o exemplo abaixo:




Pessoas	singular	plural	pronomes possessivos
1ª pessoa	eu	nós	meu (s), minha(s), nosso (s), nossa (s)

Inglês

1-Faça o cabeçalho acima, em seguida assista o vídeo, repetindo as saudações várias vezes, depois faça uma lista com todas as saudações que aparecem no vídeo, aí mesmo no caderno de classe: <https://youtu.be/DGvhHCn72E0>

2- saudações e cumprimentos.





ATIVIDADE DO CADERNO

AMPARO, ____ DE _____ DE 2020
HOJE É _____
NOME: _____

VAMOS PRATICAR!

1. Leia atentamente o texto e responda às questões a seguir.



Televisão



Televisão é uma caixa de imagens que fazem barulho. Quando os adultos não querem ser incomodados, mandam as crianças ir assistir televisão.

O que eu gosto mais na televisão são os desenhos animados de bichos. Bicho imitando gente é muito mais engraçado do que gente imitando gente, como nas telenovelas.

Não gosto muito de programas infantis com gente fingindo ser criança. Em vez de ficar olhando essa gente brincar de mentira, prefiro ir brincar de verdade com meus amigos e amigas.

Também os doces que aparecem anunciados na televisão não têm gosto de coisa alguma porque ninguém pode comer uma imagem.

Já os doces que minha mãe faz e que eu como todo dia, esses sim, são gostosos.

Conclusão: a vida fora da televisão é melhor do que dentro dela.

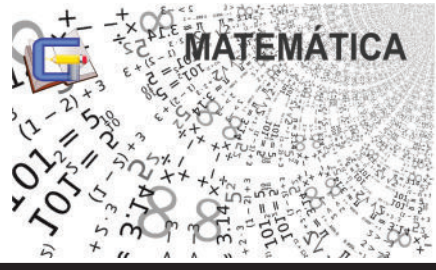
Fonte: PAES, J. P. Televisão. In: Vejam como eu sei escrever. 1. ed. São Paulo, Ática, 2001. p. 26

a) Sobre qual meio de comunicação o texto fala?

b) Explique, com suas palavras e de acordo com o que você entendeu do texto, a conclusão do autor: "a vida fora da televisão é melhor do que dentro dela".

c) Explique, com suas palavras, por que os doces que aparecem na TV não têm gosto?





ATIVIDADE DA FOLHINHA

AMPARO, _____ DE _____ DE 2020
HOJE É _____
NOME: _____



QUESTÃO 1 - Represente no Q.V.L., o número 216 942 317:

1º Classe			2º Classe			3º Classe			o r d e n s
Milhões			Milhares			Unidades simples			
9º	8º	7º	6º	5º	4º	3º	2º	1º	
c	d	u	c	d	u	c	d	u	

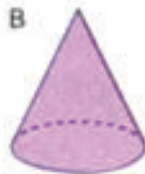
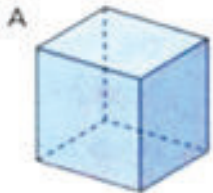
QUESTÃO 2 - Sobre o numeral 216 942 317, responda:

- Quantos algarismos esse número possui? _____
- Quantas ordens? _____
- Quantas classes? _____
- Qual é o valor relativo do numeral 9? _____

QUESTÃO 3 - Analise os quatro números da sequência indicados nos quadros coloridos. De acordo com essa sequência, qual é o número que devemos colocar no último quadro?



QUESTÃO 4 - Identifique entre os sólidos geométricos desenhados abaixo os que são poliedros e os que são corpos redondos.



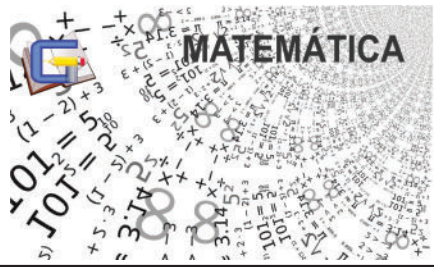
A - _____

C - _____

B - _____

D - _____





ATIVIDADE DO CADERNO

AMPARO, ____ DE ____ DE 2020
HOJE É _____
NOME: _____

1- ASSISTA AO VÍDEO: MATEMÁTICA 4º ANO POLIEDROS, PRISMAS E PIRÂMIDES.
https://youtu.be/r5l_WMg_o8g



ASSISTA AO VÍDEO: SÓLIDOS GEOMÉTRICOS, PLANIFICAÇÕES, POLIEDROS, CORPOS REDONDOS, FACES, VÉRTICES E ARESTAS.

https://youtu.be/yXYooR_QZ3Y



2- REALIZE AS ATIVIDADES DO LIVRO DE MATEMÁTICA
PÁGINAS 108, 109 E 110.





ATIVIDADE DA FOLHINHA

AMPARO, _____ DE _____ DE 2020
HOJE É _____
NOME: _____

Como a vacina funciona?

A vacina é uma substância que contém o vírus da doença morto ou enfraquecido. Assim, quando o nosso corpo receber a mensagem de que há um intruso, ele irá combater com o vírus.

Quando o vírus de verdade aparecer, o nosso corpo já vai saber como reagir. [...] Por que há pessoas contra vacinação?

[...] No Brasil, em 2014, registraram-se dois casos de coqueluche em uma família de classe alta em São Paulo. As crianças não tinham sido vacinadas por escolha os pais, que temiam o desenvolvimento de autismo e tumores! A filha mais velha, com 6 anos, contraiu a doença e a transmitiu para a sua irmã, que tinha meses de idade. [...]

Como explicar então que, apesar disso, existem grupos em um movimento contra a vacinação? Como entender que possa haver famílias que deliberadamente escolhem não vacinar seus filhos contra essas doenças terríveis, tão temidas no passado? Segundo a infectologista Julia, as vacinas são a medida mais bem-sucedida da história da medicina “Se aplicarmos as recomendadas no calendário vacinal em 4 milhões de crianças, por exemplo, estima-se que poderemos prevenir 20 milhões de doenças e 42 mil mortes ao longo da vida destas pessoas vacinadas. Caso deixemos de vaciná-las, por outro lado, há um risco – não apenas individual, como também para a sociedade – de que doenças infecciosas, inclusive as consideradas erradicadas em determinadas áreas, sejam reintroduzidas nestes locais”.

[...] Há pessoas no Brasil que não tomaram certas vacinas, porém, só não estão doentes porque todos à sua volta estão vacinados.

Fonte: <https://www.jornaljoca.com.br/artigo-a-importancia-da-vacina/>. Artigo escrito pela repórter mirim Ana Clara C. de O., do 5-A do Colégio Notre Dame.

Após realizar a leitura do texto sobre vacinas, responda à questão desta atividade: Por que as vacinas são importantes?





ATIVIDADE DA FOLHINHA

AMPARO, _____ DE _____ DE 2020
HOJE É _____
NOME: _____

Observe o mapa-múndi e responda.



a) Qual o nome da linha imaginária que divide a Terra em Hemisfério norte e Hemisfério sul?

b) Como se chama a linha que divide a Terra em Hemisfério oriental e Hemisfério ocidental?

c) Quantos e quais são os continentes e os oceanos da Terra?





ATIVIDADE DO CADERNO

AMPARO, ____ DE _____ DE 2020

HOJE É _____

NOME: _____

Leia o texto abaixo com muita atenção para responder as questões no caderno de história. Copie apenas a correta.

Observe a ilustração e o texto abaixo e responda:



De acordo com os mais recentes estudos antropológicos, a África é o berço da humanidade. Foi ali que se formaram as primeiras **famílias**. Na África a humanidade foi palco da primeira revolução tecnológica de sua história: a passagem da existência como caçador e coletor de frutos silvestres para a prática da agricultura. Na arquitetura, engenharia e matemática, as pirâmides ainda comprovam a alta tecnologia africana de 3 mil anos atrás. A astronomia egípcia era tão avançada que desde 4.200 a.C foi responsável por um calendário mais exato que o nosso.

1 → A imagem ao lado representa qual continente.

- a) () americano c) () europeu
b) () asiático d) () africano

2 → A África é o berço da humanidade e da civilização por que?

- a) () acreditam que os primeiros seres humanos surgiram na África
b) () foram colonizados pelos portugueses
c) () são todos de baixa renda
d) () tem uma cultura diversificada

3 → Que áreas de conhecimento os povos africanos também possuíam no passado.

- a) () só agricultura
b) () agricultura, arquitetura, engenharia e matemática
c) () somente a arquitetura e astronomia
d) () nenhuma delas

Leia o texto e responda:

As sociedades africanas tinham em suas atividades econômicas uma das formas de sobrevivência, de acordo com o ambiente em que viviam, de suas necessidades materiais e espirituais, e de toda uma tradição. Havia muitos povos **nômades**, que precisavam se deslocar periodicamente, e havia povos **sedentários**, que fundando seus territórios, chegaram a constituir grandes **reinos** (conjunto de aldeias), desenvolvendo atividades econômicas produtivas. Em cada aldeia existia um **chefe**, este era escolhido entre os mais velhos. Os africanos acreditavam que os **espíritos da natureza**, os **deuses** e seus **antepassados** estavam presentes no seu dia a dia e eram responsáveis por tudo o que acontecia na tribo ou aldeia.

4 → De acordo com o texto, é correto afirmar que o conjunto de aldeias chama-se:

- a) () moradias c) () reinos
b) () ocas d) () senzalas

5 → O texto fala sobre povos que se deslocam periodicamente, estes povos são os:

- a) () nômades c) () grafiteiros
b) () sedentários d) () mulçumanos

6 → Os povos africanos acreditavam que alguns aspectos estavam presentes no seu dia a dia. Que aspectos são esses:

- a) () agricultura
b) () nômades e sedentários
c) () espíritos, deuses e antepassados
d) () arquitetura





Clique no link para acessar a aula de Educação Física com o Professor Alexandre



<https://youtu.be/bdd5SAdfT-4>

Preencha o Formulário


<https://forms.gle/wqqtukmFmpCnhzzaA>



Atividades no caderno de desenho

Leia com atenção as instruções!! Use o caderno de desenho! Vai ficar lindo!!!!

Como fazer desenho com efeito 3D à mão – Passo a passo



A tecnologia 3D é chamada assim porque combina numa só imagem um mundo que contém, como o próprio nome diz, três dimensões. O nosso cotidiano já está sendo tomado por estes tipos de imagens e animações.


Materiais necessários:

- Canetinhas coloridas do tipo hidrográficas (indispensável pelo menos três cores, sendo que uma delas deverá ser necessariamente a preta)
- Folhas de papel sulfite
- Lápis





Atividades no caderno de desenho



Siga os números mostrados no canto de cada um dos quadrinhos acima:

- Imagem 1: usando o lápis e a folha de papel sulfite branca, desenhe o contorno de sua mão e um pouquinho mais do seu pulso. Procure fazer o contorno com certa perfeição.
- Imagem 2: agora, utilizando-se da caneta hidrográfica na cor preta, repare o desenho que deverá ser iniciado. Em toda a parte de fora do contorno da mão deverão ser feitas linhas paralelas, retas e com a distância entre cada uma delas de no máximo 1 centímetro e no mínimo 0,5 centímetro.
- Imagem 3: as linhas que ficarão dentro do desenho da mão deverão ter uma certa "inclinação" ou certo "arredondamento". Repare nos quadros explicativos acima.
- Imagem 4: siga os passos 2 e 3 até que se complete de linhas toda a folha de papel sulfite.
- Imagem 5: agora, usando as canetinhas coloridas, você deverá repetir o ensinado nas imagens acima. Complete cada um dos espaços que restarem em branco. Não deixe nenhum espaço de papel sem pintar.

Fonte: internet/artblog

