



ATIVIDADE DO CADERNO

AMPARO, ____ DE _____ DE 2020
HOJE É _____
NOME: _____

1- Leia o texto e responda as questões:

O cavalo e o burro

O cavalo e o burro seguiam juntos para a cidade. O cavalo contente da vida, folgado com uma carga de quatro arrobas apenas, e o burro – coitado! – gemendo sob o peso de oito. Em certo ponto, o burro parou e disse:

– Não posso mais! Esta carga excede as minhas forças e o remédio é repartimos o peso, irmanamente, seis arrobas para cada um.

O cavalo deu um pinote e relinchou uma gargalhada.

– Ingênuo! Quer então que eu arque com seis arrobas quando posso bem continuar com as quatro? Tenho cara de tolo?

O burro gemeu:

– Egoísta! Lembre-se que se eu morrer você terá que seguir com a carga das quatro arrobas mais a minha.

O cavalo pilheriou e a coisa ficou por isso. Logo adiante, porém, o burro tropica, vem ao chão e rebenta.

Chegaram os tropeiros, maldizem da sorte e sem demora arruma as oito arrobas do burro sobre as quatro do cavalo egoísta. E como o cavalo refuga, dão-lhe de chicote em cima, sem dó nem piedade.

– Bem feito! – Exclamou o papagaio. – Quem mandou ser mais burro que o pobre do burro e não compreender que o verdadeiro egoísmo era aliviá-lo da carga em excesso? Tome! Gema dobrado agora...

Monteiro Lobato





ATIVIDADE DO CADERNO

AMPARO, ____ DE _____ DE 2020

HOJE É _____

NOME: _____

a- Circule no texto as palavras que você não conhece e em seguida pesquise seu significado.

b- Qual é o título do texto?

R: _____

c- Quantos parágrafos há no texto?

R: _____

d- Quais são os personagens principais?

R: _____

e- Para onde estavam indo?

R: _____

f- Qual era o problema principal dos personagens?

R: _____

g- O que o burro sugeriu para resolver a situação?

R: _____

h- Por que o cavalo não aceitou a sugestão do burro?

R: _____

i- A atitude do cavalo foi correta? Explique sua resposta:

R: _____

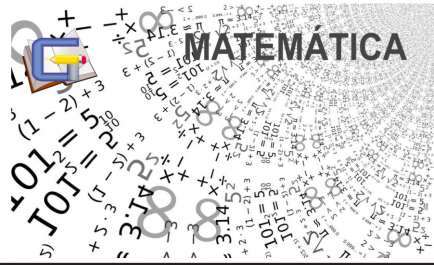
j- O que aconteceu no final dessa história?

R: _____

k- O que os tropeiros poderiam ter feito para evitar toda essa confusão?

R: _____





ATIVIDADE DO CADERNO

AMPARO, ____ DE _____ DE 2020

HOJE É _____

NOME: _____

Situações problemas

1- A Professora Márcia está lendo um livro de 432 páginas. Ela já leu 245 páginas. Quantas páginas faltam para ela terminar de ler o livro?

R: _____

2- Maria Luísa está lendo um livro com 369 páginas. Ela já leu 127. Quantas páginas faltam para Maria terminar a leitura?

R: _____

3- Matheus tem um caderno com 2 centenas de folhas. Já escreveu em 180. Quantas folhas estão em branco?

R: _____

4- José Eduardo tem uma coleção de selos. Ele tem 1 centena de selos brasileiros e 7 dezenas de selos estrangeiros. Quantos selos José têm em sua coleção?

R: _____

5- A mãe de Letícia fez 276 docinhos e já vendeu 184. Quantos docinhos ainda têm para vender?

R: _____

6- Da mesada que recebeu no mês passado, Miguel gastou 33 reais em livros e ainda lhe sobraram 12 reais. Qual foi a quantia que ele recebeu de mesada?

R: _____

7- A avó de Breno comprou 3 caixas de ovos. Em cada caixa havia uma dúzia de ovos. Quantos ovos ela comprou?

R: _____

8- Calebe tem 32 figurinhas para repartir igualmente entre seus 2 primos. Quantas figurinhas ele vai dar para cada um?

R: _____

9- João Victor tem 63 bolinhas e seu irmão Daniel tem o dobro. Quantas bolinhas têm seu irmão?

R: _____

10- Camilly tem 12 balas para repartir entre suas 4 amigas. Quantas balas ela dará para cada amiga?

R: _____

11- Maria Cecília tem 8 cartelas de adesivos. Cada cartela tem 12 adesivos. Quantos adesivos Maria tem no total?

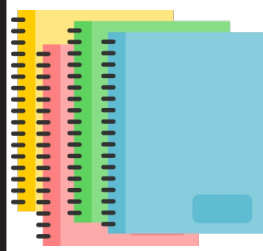
R: _____





ATIVIDADE DO CADERNO

AMPARO, ____ DE _____ DE 2020
HOJE É _____
NOME: _____



AS ESTAÇÕES DO ANO

A TERRA POSSUI DOIS MOVIMENTOS: O MOVIMENTO DE **ROTAÇÃO**, QUE DETERMINA A DURAÇÃO DOS DIAS E DURA 24 HORAS OU 1 DIA, É O GIRO DA TERRA EM TORNO DO SEU PRÓPRIO EIXO.

OUTRO MOVIMENTO DA TERRA É O MOVIMENTO DE **TRANSLAÇÃO**, QUE DETERMINA AS ESTAÇÕES DO ANO E DURA 365 DIAS OU 1 ANO, É A GIRO DA TERRA EM TORNO DO SOL.

AS ESTAÇÕES DO ANO SÃO QUATRO:

- **PRIMAVERA** EM QUE A MAIOR PARTE DAS PLANTAS FLORESCEM;
- **VERÃO** QUE É A ESTAÇÃO MAIS QUENTE E CHUVOSA;
- **OUTONO** EM QUE AS NOITES SÃO MAIS FRIAS E ALGUMAS ÁRVORES PERDEM AS FOLHAS;
- **INVERNO** QUE É A ESTAÇÃO MAIS FRIA DO ANO.

AS ESTAÇÕES DO ANO VARIAM DE ACORDO COM O LOCAL DO GLOBO EM QUE NOS ENCONTRAMOS POIS QUANDO UM LADO ESTÁ PERTO DO SOL O OUTRO ESTÁ LONGE.

NO BRASIL AS ESTAÇÕES OCORREM NOS SEGUINTE PERÍODOS:

- **PRIMAVERA** DE SETEMBRO A DEZEMBRO;
- **VERÃO** DE DEZEMBRO A MARÇO;
- **OUTONO** DE MARÇO A JUNHO E
- **INVERNO** DE JUNHO A SETEMBRO.

OUTONO



INVERNO



PRIMAVERA



VERÃO





ATIVIDADE DO CADERNO

AMPARO, ____ DE _____ DE 2020

HOJE É _____

NOME: _____

ATIVIDADES

1- QUAL É O NOME DADO AO MOVIMENTO DA TERRA EM TORNO DE SI MESMA?

R: _____

2- QUANTO TEMPO LEVA ESSE MOVIMENTO?

R: _____

3- QUE MUDANÇAS ESSE MOVIMENTO CAUSA?

R: _____

4- COMO SE CHAMA O MOVIMENTO DA TERRA EM TORNO DO SOL?

R: _____

5- QUANTO TEMPO ESSE MOVIMENTO LEVA?

R: _____

6- O QUE ESSE MOVIMENTO DETERMINA?

R: _____

7- QUANTAS E QUAIS SÃO AS ESTAÇÕES DO ANO?

R: _____

8- QUAL É A ESTAÇÃO DO ANO EM QUE ACONTECE A FLORAÇÃO?

R: _____

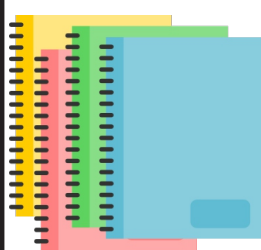
9- NO BRASIL QUANDO COMEÇA E TERMINA O INVERNO?

R: _____

10- QUAL É A ESTAÇÃO DO ANO QUE VOCÊ MAIS GOSTA? JUSTIFIQUE SUA RESPOSTA.

R: _____





AMPARO, ____ DE _____ DE 2020

HOJE É _____

NOME: _____

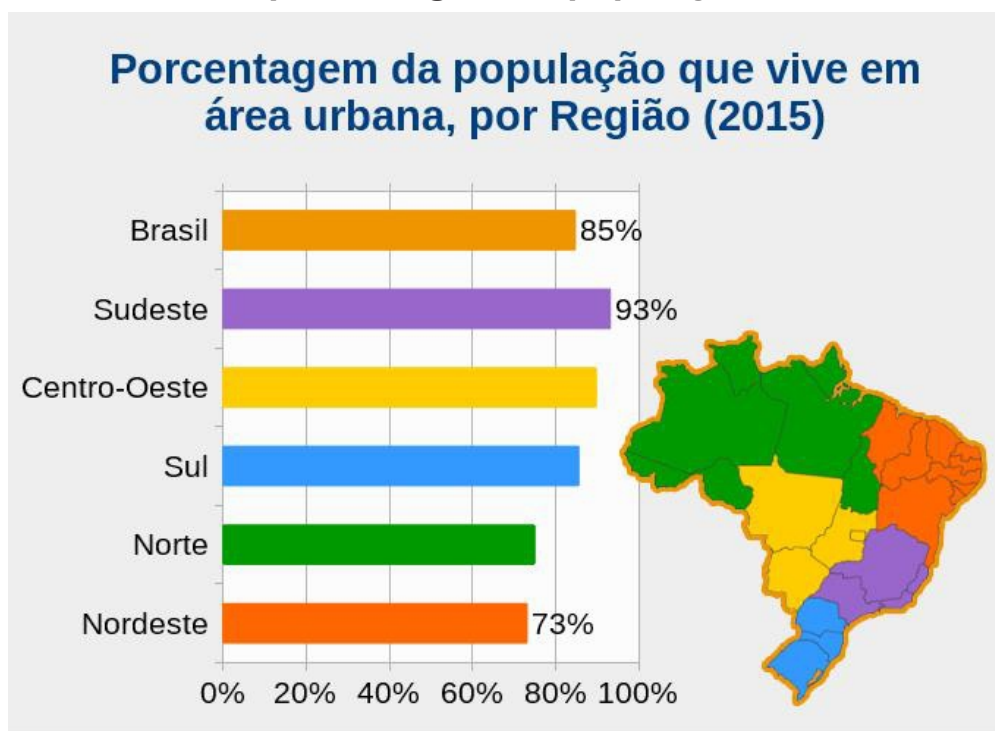
População rural e urbana

Atualmente a população urbana é maior que a população rural.

Até a década de 1950, a maioria da população brasileira vivia no campo, no entanto, a partir de 1970, com o desenvolvimento das indústrias e a mecanização da agricultura, muitas pessoas deixaram o campo e vieram para a cidade em busca de melhores condições de vida e novas oportunidades de trabalho.

Uma pesquisa realizada pelo IBGE, mostrou que, a cada 100 habitantes, 85 vivem em áreas urbanas e apenas 15 em áreas rurais.

O gráfico abaixo mostra a porcentagem da população urbana nas cinco regiões do Brasil.



A Região com maior percentual de população urbana é a Região Sudeste, com 93,14% das pessoas vivendo em áreas urbanas e a Região Nordeste é a que conta com o menor percentual, 73%.

1- Por qual motivo as pessoas que viviam em áreas rurais vieram para a cidade?

R: _____

2- De acordo com o gráfico, qual região apresenta o maior percentual de população urbana?

R: _____





Historia

ATIVIDADE DO CADERNO

AMPARO, ____ DE _____ DE 2020

HOJE É _____

NOME: _____

Emigração

Emigrar! Mundo de preocupações, incertezas e, sobretudo, esperanças. Emigrar! É a despedida da pátria querida, da velha casa com quartos tão familiares, de terra e quintal! É a separação de parentes, amigos e vizinhos e isso tudo ligado a um grande pensamento que diz: "incerteza absoluta, inquietação pela existência". Primeiro a preocupação pela travessia no mar; depois a incerteza sobre o destino da viagem, da nova terra que se conhecia só por terceiros. [...] O homem tinha de ser forte para a decisão da partida. Emigrar, porém, é sinal de necessidade.

Toni Vidal Joche

Atividades

1- Qual é o assunto do texto?

R: _____

2- O que é emigrar?

R: _____

3- Você conhece alguém que passou por uma situação semelhante à descrita no texto acima?

R: _____

4- Imagine-se um emigrante: você deixará seu país de origem para aventurar-se em outro país. Do que você sentirá mais saudade? Quais serão seus medos?

R: _____





Clique no link para acessar a aula de Educação Física com o Professor Alexandre



<https://youtu.be/bdd5SAdfT-4>

Preencha o Formulário

<https://forms.gle/wqqtukmFmpCnhzzaA>



Atividades no caderno de desenho

Expressão Facial

Materiais necessários:

Caderno de Arte ou uma folha de papel, lápis, borracha, um copo plástico e lápis para colorir.

Como fazer:

Pegue um copo, se possível de plástico, e desenhe círculos em toda a folha, depois em cada círculo você deverá criar uma expressão facial (sorrindo, chorando, triste, nervoso, etc.) Depois é só colorir!

Veja o exemplo:

