

ATIVIDADE DO CADERNO

AMPARO, ____ DE _____ DE 2020
HOJE É _____
NOME: _____

1 - Leia o texto.

Reescreva-o, transformando todas as palavras pássaro, pé, mãe, menino, gaiola e casa no grau diminutivo.

Cássio e o pássaro

O pássaro pousou no pé de pêssago.

Cássio assobiou e o pássaro voou.

Cássio disse:

— Se o pássaro ficasse, eu poderia pegá-lo!

A mãe de Cássio ouviu e falou:

— Não diga isso, menino! Você viveria numa gaiola?

Cássio ficou calado.

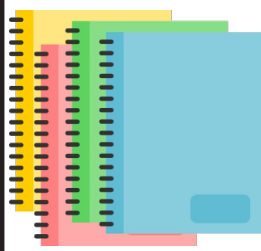
A mãe falou de novo:

— Deixe o pássaro na natureza. Ela é a casa dele.



Cássio e o passarinho





ATIVIDADE DO CADERNO

AMPARO, ____ DE _____ DE 2020

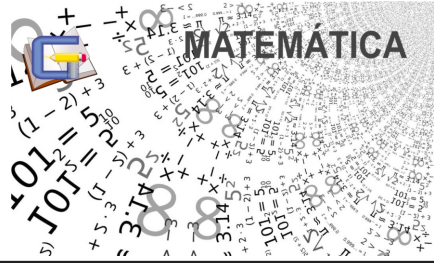
HOJE É _____

NOME: _____

Comanda

- Fazer o cabeçalho no caderno de Língua Portuguesa.
- Copiar a rotina.
- Reescrever o texto, passando as palavras para o grau diminutivo.
- Passar um traço colorido quando terminar o cabeçalho.





ATIVIDADE DO CADERNO

AMPARO, ____ DE _____ DE 2020

HOJE É _____

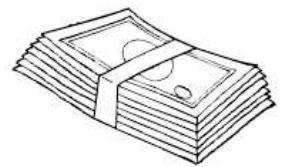
NOME: _____

Matemática/ Situações problema(multiplicação)

1) Como e bananas por dia. Quantas bananas como em uma semana?



2) O vovô Edgar deu R\$ 6,00 para cada um dos seus 3 netos. Quanto os três ganharam juntos?

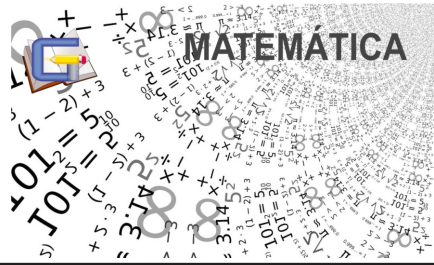


3) Comprei 3 caixinhas de balas. Em cada caixinha há 9 balas. Quantas balas comprei no total?



4) Em um sítio há 7 galinhas. Cada galinha tem 5 filhotes. Quantos pintinhos há no total?





ATIVIDADE DO CADERNO

AMPARO, ____ DE _____ DE 2020

HOJE É _____

NOME: _____

5) Faça como o exemplo.

235 = 2 centenas, 3 dezenas e 5 unidades

- a) 387 _____
- b) 418 _____
- c) 831 _____
- d) 996 _____
- e) 763 _____

6) Faça como o exemplo.

8 centenas, 7 dezenas e uma unidade = 871

- a) 9 centenas, 8 dezenas e 4 unidades =
- b) 7 centenas, 6 dezenas e 7 unidades =
- c) 2 centenas, 5 dezenas e 9 unidades =
- d) 5 centenas, 4 dezenas e 2 unidades =
- e) 6 centenas, 3 dezenas e 1 unidade =

7) Quantas cédulas são necessárias para obter 100 reais?

- a) _____ cédulas de R\$ 2,00
- b) _____ cédulas de R\$ 5,00
- c) _____ cédulas de R\$ 10,00
- d) _____ cédulas de R\$ 20,00
- e) _____ cédulas de R\$ 50,00







ATIVIDADE DA FOLHINHA


AMPARO, _____ DE _____ DE 2020
HOJE É _____
NOME: _____


Os sentidos humanos


Complete as frases com os sentidos correspondentes.

a) Os  são os órgãos da _____

b) Os  são os órgãos da _____

c) O  é o órgão do _____

d) As  são os órgãos do _____

e) A  é o órgão do _____

tato

audição

paladar

olfato

visão





ATIVIDADE DA FOLHINHA

AMPARO, _____ DE _____ DE 2020

HOJE É _____

NOME: _____

Caça-palavras

- ◆ Encontre no caça-palavras os nomes das atividades econômicas e encaixe-as nos seus respectivos quadros:

A	L	G	O	D	Ã	O	R	T	S	C	B
Ç	S	C	A	R	R	A	P	A	A	O	A
Ü	E	C	A	R	N	E	N	T	L	W	T
C	R	L	B	L	K	G	X	G	S	B	A
A	P	R	E	S	U	N	T	O	I	E	T
R	A	R	Z	Q	X	P	M	Z	C	R	A
L	Ã	P	T	C	O	U	R	O	H	R	R
T	R	I	G	O	O	Q	K	H	A	C	R
M	I	L	H	O	R	Y	L	E	I	T	E

Agricultura

Pecuária





ATIVIDADE DO CADERNO

AMPARO, ____ DE _____ DE 2020

HOJE É _____

NOME: _____

1) Quais lugares indicados abaixo são considerados espaços públicos? Assinale.

() Praças

() Ruas

() Casas

() Praias

2) Qual das frases abaixo define corretamente o que é um espaço público? Assinale.

() O espaço público é um lugar que poucas pessoas podem frequentar.

() O espaço público é um lugar que só pode frequentar com a permissão do proprietário

() O espaço público é aquele que pertence a todos e que todos podem frequentar.

3) Por que é importante respeitar e preservar os espaços públicos?

4) Na Aula de Arte (Pagina 08) faça um desenho que represente um espaço público destinado ao lazer.

5) Dê um exemplo de espaço público que você gosta de visitar. Comente que atividade você faz nesse lugar.






Clique no link para acessar a aula de Educação Física com o Professora Cassia



<https://www.youtube.com/watch?v=0IUpcqUMkuo>



Atividades no caderno de desenho

Faça um desenho que represente um espaço público destinado ao lazer

