



ATIVIDADE DO LIVRO

AMPARO, ____ DE _____ DE 2020
HOJE É _____
NOME: _____

1 - Leia a adivinha abaixo, separe as palavras com tracinhos e copie do jeito correto nas linhas abaixo. Não se esqueça de utilizar sinais de pontuação, parágrafo e as maiúsculas que considerar necessário.



OQUEÉOQUEÉTEMBICOMASNÃOÉPÁSSAROTEMASASMASNÃOOVOABULE

2 - Há algumas palavras incorretas na música abaixo. Reescreva novamente esse trecho corrigindo o que for necessário:


Estava à toa na vida,
O meo amor me chamol
Pra ver a bamda passar
Cantando coisas de amor



3 - Leia este bilhete:

QUERIDA,
VOU TRABALHAR ATÉ MAIS TARDE HOJE.
JANTE COM AS CRIANÇAS.
UM BEIJO,
RICARDO





ATIVIDADE DO LIVRO

AMPARO, ____ DE _____ DE 2020
HOJE É _____
NOME: _____

❖ Faça um **X** no quadradinho que mostra para quem Ricardo escreveu o bilhete.

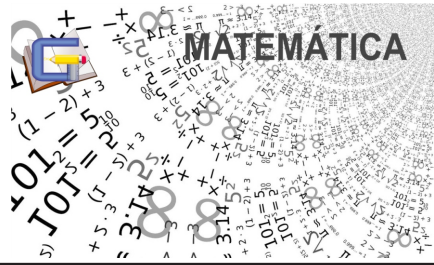
- () Avô
- () Criança
- () Esposa
- () Pais

4 - Leia este cartaz:

❖ Faça um **X** no quadradinho que mostra para quem é dirigida a mensagem do cartaz.

- () Pais
- () Crianças
- () Motoristas
- () Pedestres





ATIVIDADE DO CADERNO

AMPARO, ____ DE _____ DE 2020

HOJE É _____

NOME: _____

1 - Coloque os números em ordem crescente.

187 - 376 - 12 - 675 - 98 - 23 - 456 - 27 - 75 - 126 - 286 - 63 - 580

2 - Coloque os números em ordem decrescente.

65 - 876 - 654 - 123 - 98 - 54 - 235 - 754 - 185 - 20 - 28 - 76 - 15

3 - Classifique os números em ímpar ou par. Pinte de amarelo os números ímpares e de verde os números pares.

378	389	127	34	805	22	43	11	236
-----	-----	-----	----	-----	----	----	----	-----

4 - Companha os números. Acompanhe o modelo.

Duas dezenas e seis unidades = $20 + 6 = 26$

Quatro dezenas e cinco unidades = _____ = _____

Oito dezenas e uma unidade = _____ = _____

Sete dezenas e sete unidades = _____ = _____

Uma centena, duas dezenas e duas unidades = _____ = _____

Nove dezenas e três unidades = _____ = _____

5) Escreva os números por extenso.

276 = Duzentos e setenta e seis

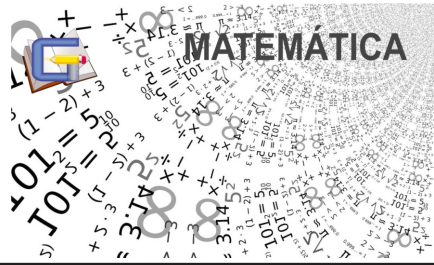
543 = _____

172 = _____

841 = _____

69 = _____





ATIVIDADE DO CADERNO

AMPARO, ____ DE _____ DE 2020

HOJE É _____

NOME: _____

Atividades de Matemática

1) Descubra qual a sequência numérica e complete a tabela.

50	55			70		80	85		95
----	----	--	--	----	--	----	----	--	----

32		36	38			44		48	
----	--	----	----	--	--	----	--	----	--

60		80	90			120			150
----	--	----	----	--	--	-----	--	--	-----

29		35	38		44		50		56
----	--	----	----	--	----	--	----	--	----

2) Monte e calcule as adições.

a) $56 + 73 =$ C I D I U

| |
| |

b) $56 + 74 =$ C I D I U

| |
| |

c) $182 + 44 =$ C I D I U

| |
| |

d) $49 + 9 =$ C I D I U

| |
| |

3) Monte e calcule as subtrações.

a) $87 - 50 =$ C I D I U

| |
| |

b) $96 - 28 =$ C I D I U

| |
| |

b) $70 - 57 =$ C I D I U

| |
| |

d) $47 - 9 =$ C I D I U

| |
| |










ATIVIDADE DA FOLHINHA

AMPARO, _____ DE _____ DE 2020
 HOJE É _____
 NOME: _____

Faça a correspondência, tendo em conta os órgãos dos sentidos.

sentidos	órgãos	função: Serve para.
visão		distinguir os diferentes sons.
audição		distinguir os diferentes sabores (amargo, doce, ácido, salgado).
olfato		distinguir, por exemplo, o macio do áspero, o liso do rugoso.
gosto ou paladar		distinguir os diferentes cheiros.
tato		distinguir, por exemplo, formas, cores e tamanhos das coisas.

Pinte os alimentos em sua cor natural.



Complete o quadro com um exemplo de cada situação:

Cheiro agradável	
Cheiro desagradável	
Som agradável	
Som desagradável	





ATIVIDADE DA FOLHINHA

AMPARO, _____ DE _____ DE 2020

HOJE É _____

NOME: _____

INDÚSTRIA EXTRATIVISTA


Indústrias extrativas são as que retiram os produtos diretamente da natureza.



Leia as palavras do quadro e complete o que se pede.

**minério de ferro • madeira • erva-mate • bauxita
caça • manganês • carvão • cobre • pesca
borracha • ouro • babaçu • carnaúba**

- 1- Indústria extrativa vegetal: _____
- 2- Indústria extrativa animal: _____
- 3- Indústria extrativa mineral: _____



O Brasil tem-se destacado no cenário internacional como grande exportador de matérias-primas de origem vegetal. Iniciou-se com o café, prosseguindo com a soja e a laranja.

Respostas: Indústria extrativa vegetal: madeira, erva-mate, babaçu, borracha, carnaúba.
Indústria extrativa animal: caça, pesca.
Indústria de origem mineral: minério de ferro, carvão, ouro, manganês, bauxita, cobre.





ATIVIDADE DA FOLHINHA

AMPARO, _____ DE _____ DE 2020

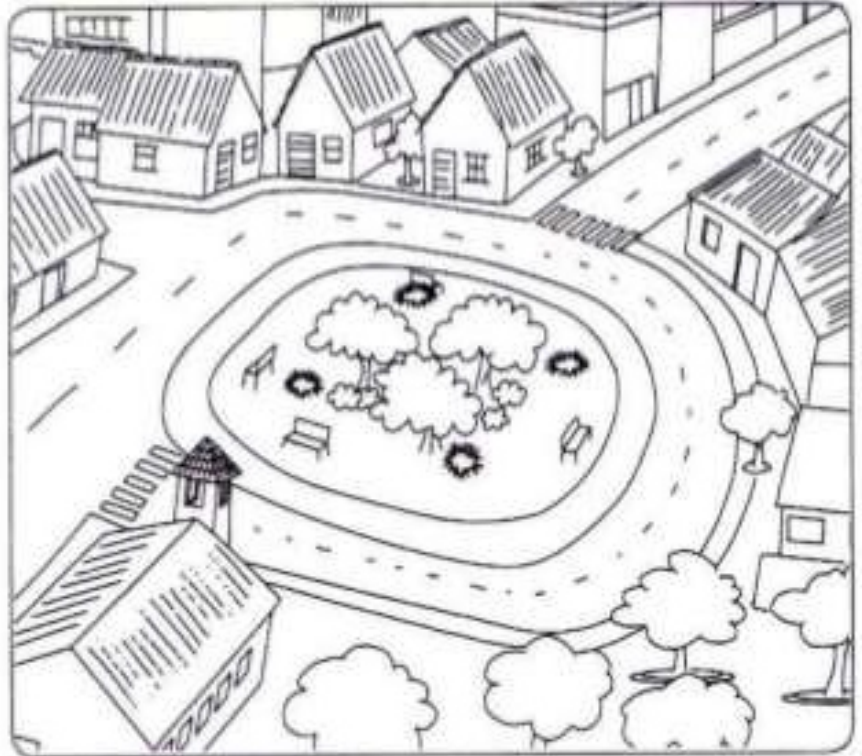
HOJE É _____

NOME: _____

O bairro onde moro

O bairro onde moro
É pura animação...
Casas, ruas e pessoas
E muita agitação!

Padeiros, barbeiros
E até um sacolão...
Supermercados e lixeiras
Sempre à disposição!



1 – Enumere a segunda coluna de acordo com a primeira:

(A) Bairros residenciais

() Aqueles nos quais prevalecem as residências; com pequenos comércios para facilitar a vida das pessoas, como padarias, açougues etc...

(B) Bairros comerciais

() Ficam mais afastados dos centros das cidades. Neles são encontradas as indústrias de alimentos, indústrias têxteis, de materiais de construção, produtos farmacêuticos, etc.

(C) Bairros industriais

() Prevaecem as lojas, são movimentados em razão do grande número de lojas que possuem.





Clique no link para acessar a aula de Educação Física com o Professor Alexandre



<https://youtu.be/bdd5SAdfT-4>

Preencha o Formulário

<https://forms.gle/wqqtukmFmpCnhzzaA>



Atividades no caderno de desenho

Crianças, assistam o vídeo , sintam-se abraçados pela prô!!!

Depois no caderno de ARTE, coloquem o título da música tocada no vídeo, a data de hoje e façam um desenho representando a música. Caprichem, ok?!

Música : Aquarela - Toquinho - Link: (<https://youtu.be/xT8HliFQ8Y0>)

