

ATIVIDADE DO CADERNO

AMPARO, ____ DE _____ DE 2020

HOJE É _____

NOME: _____

Alfabeto: Aa – Bb – Cc – Dd – Ee – Ff - Gg – Hh – Ii – Jj – Kk – Ll – Mm – Nn - Oo – Pp – Qq – Rr – Ss – Tt – Uu – Vv – Ww – Xx – Yy – Zz.

1 - Palavras dentro de palavras.

BARALHO

ALHO

CARAVELA

SACOLA

LAMPIÃO

SAPATO

CAMALEÃO

SOLDADO

REPOLHO

MADURO


LUVA

CASA

FIVELA

GALINHA





ATIVIDADE DO CADERNO

AMPARO, ____ DE _____ DE 2020
HOJE É _____
NOME: _____

2 - Leia o texto abaixo:

Nome Científico: Ardea cocoi
Família: Ardeidae
Ordem: Pelecaniformes
Distribuição: Presente em todo o Brasil, é encontrada ainda do Panamá à Argentina (passando pelo Chile), inclusive nas Ilhas Malvinas.
Habitat: Beira de lagos de água doce, rios, estuários, manguezais e alagados.
Alimentação: Em rios e riachos, esta ave costuma se alimentar de peixes, rãs, pererecas, caranguejos, moluscos e pequenos répteis.
Reprodução: O período de nidificação é longo e normalmente vai de janeiro a outubro.



Em geral, ocupa ninhais coletivos, que são construídos no alto das árvores e em suas extremidades. A cada ninhada nascem de 3 a 4 filhotes. Cabe ao casal a tarefa de chocar os ovos. Mas fora do período reprodutivo, é cada um por si.
Saiba mais: Considerada a maior garça do País, com 125 centímetros e envergadura que chega a 1,80 metros, a garça-moura é conhecida por João-grande, Maguari, Socó-de-penacho, Baguari, Margoari, Garça-parda e Socó-grande.

Em geral, vive solitária (exceto nos períodos de reprodução), inclusive nos vôos. Aliás, sempre voa em linha reta e com lentas batidas das asas. Em função de seu tamanho avantajado, captura presas em lugares mais fundos, onde outras garças normalmente não alcançam.

Quanto à plumagem, destaque para as incomuns as penas brancas na base do pescoço, que lembram o cabelo de um punk, eriçado e cheio de pontas desconexas. Ao redor dos olhos, ela tem uma coloração azulada, com o bico mais amarelo.

O nome socó pelo qual ela também é chamada, diz respeito a um hábito comum a esta ave: apoiar-se num pé só.

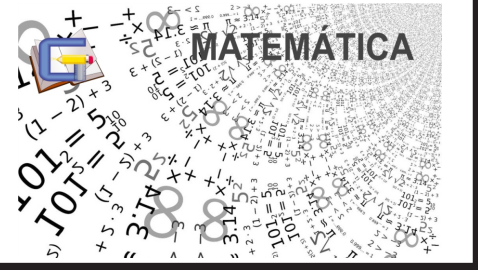
3 - Preencha a ficha técnica do animal e desenhe do seu jeito a Garça-Moura no espaço abaixo:

Nome: _____ Alimentação: _____

Onde vive: _____ Reprodução: _____

Altura: _____ Curiosidade: _____





ATIVIDADE DA FOLHINHA





AMPARO, _____ DE _____ DE 2020
HOJE É _____
NOME: _____


1 - MARIA EDUARDA E RODRIGO ECONOMIZARAM DINHEIRO QUE GANHARAM DE SEUS TIOS NESTE ANO.

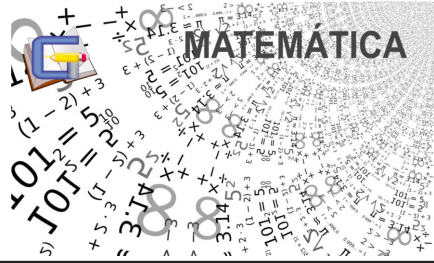
| MARIA EDUARDA | RODRIGO |
|--|--|
|  |  |

- A) QUANTOS REAIS MARIA EDUARDA ECONOMIZOU? _____
- B) QUANTOS REAIS RODRIGO ECONOMIZOU? _____
- C) QUEM ECOMIZOU MAIS DINHEIRO? _____
- D) QUANTOS REAIS TÊM OS DOIS JUNTOS? _____

2 - ESCREVA O HORA MARCADA EM CADA RELÓGIO:

| | |
|--|---|
|  <p>_____ horas</p> |  <p>_____ horas</p> |
|  <p>_____ horas</p> |  <p>_____ horas</p> |





ATIVIDADE DA FOLHINHA

AMPARO, _____ DE _____ DE 2020

HOJE É _____

NOME: _____

3 - A PROFESSORA JOICE ORGANIZOU UMA CORRIDA EM QUE PARTICIPARAM 15 MENINOS E 18 MENINAS. QUANTAS CRIANÇAS PARTICIPARAM DA CORRIDA?

4 - CLAÚDIA VAI GUARDAR SUAS 10 BONECAS EM 2 CAIXAS E QUER COLOCAR A MESMA QUANTIDADE EM CADA CAIXA. QUANTAS BONECAS ELA DEVE COLOCAR EM CADA CAIXA?

5 - MARCOS TINHA 25 FIGURINHAS, MAS, DEU PARA SEU PRIMO 12. COM QUANTAS FIGURINHAS MARCOS FICOU?

6 - JÚLIA TINHA 18 REAIS, COMPROU ALGUMAS FRUTAS E GASTOU 12 REAIS. COM QUANTOS REAIS JÚLIA FICOU?

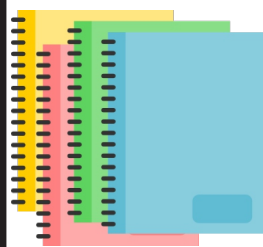
7 - RESOLVA AS OPERAÇÕES: (use o caderno)

$26 + 14 =$ _____ $96 - 45 =$ _____ $2 \times 4 =$ _____

$54 + 32 =$ _____ $82 - 45 =$ _____ $3 \times 2 =$ _____

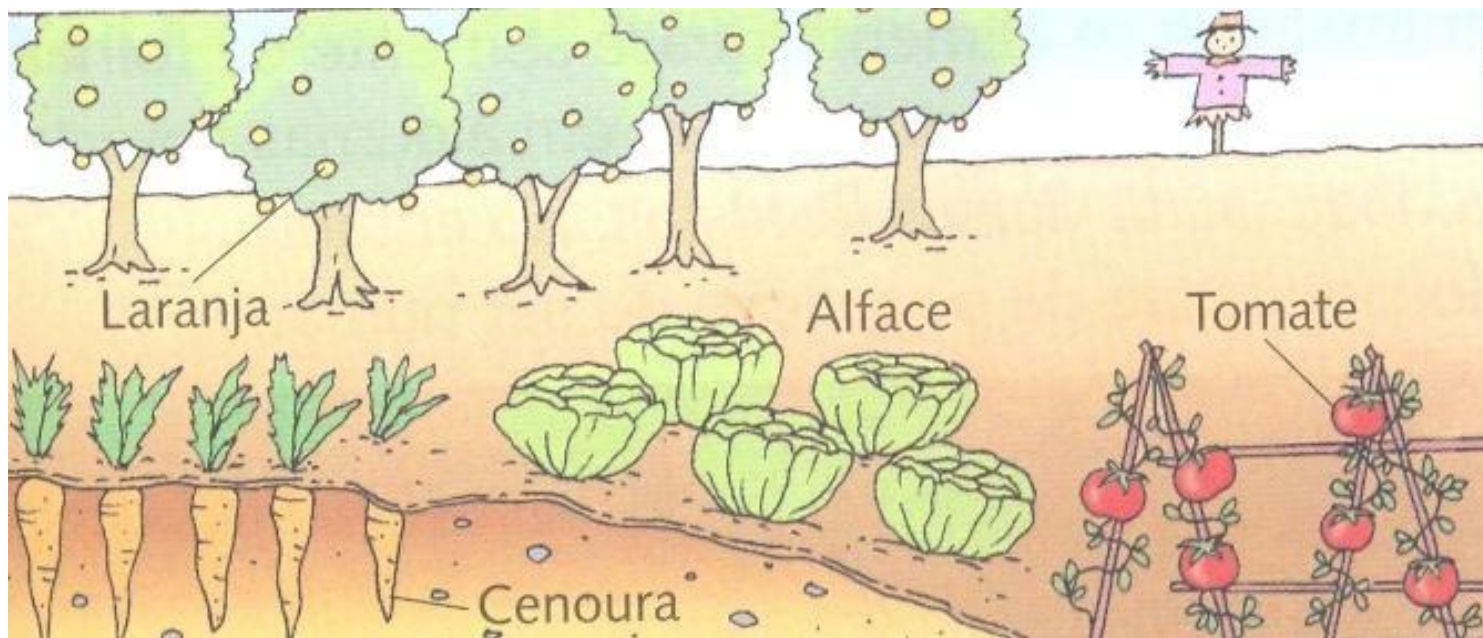
$123 + 35 =$ _____





AMPARO, ____ DE _____ DE 2020
HOJE É _____
NOME: _____

OBSERVE A FIGURA E RESPONDA ÀS QUESTÕES:



A) QUAL ALIMENTO ACIMA É UMA RAIZ?

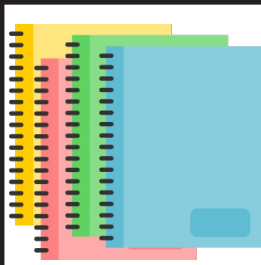
R: _____

B) QUAIS SÃO FRUTOS?

R: _____

C) QUAL É A FOLHA?

R: _____



AMPARO, ____ DE _____ DE 2020

HOJE É _____

NOME: _____

1 - Leia o texto com bastante atenção e responda as perguntas:

O vizinho do lado.

Não suporto o meu vizinho!

Imagine que o danado,
Com a cara mais lavada,
Passa pela minha frente
Como se eu não fosse nada.

Não suporto o meu vizinho!

Roda pelo bairro todo,
Sem prestar nem atenção,
E se esquece que uma vez
Lhe emprestei o meu pião.

Não suporto o meu vizinho!

É um moleque egoísta,
Pedalando assim a esmo,
Não quer saber dos outros,
Pois só pensa em si mesmo.

Não suporto meu vizinho!

Se eu pudesse, agora mesmo
Me mudava da cidade,
Ou melhor: mudava ele
Pra bem longe, na verdade.

Não suporto o eu vizinho!

Ele tem cara de bolo,
De embrulho sem barbante,
De bocó e de pateta!

Ah, moleque feio e tolo!
Pensa que é muito importante
Só porque tem bicicleta.

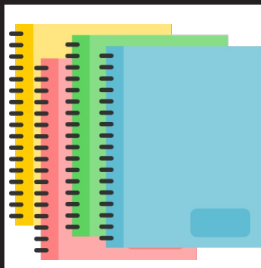
Não suporto o meu vizinho!

Eu só vou mudar de ideia
De uma forma bem completa,
Se o danado do vizinho,
Me emprestar a bicicleta...



Pedro Bandeira, *Cavalcando o arco-íris*. São Paulo: Moderna, 1984.





ATIVIDADE DO CADERNO

AMPARO, ____ DE _____ DE 2020

HOJE É _____

NOME: _____

a) Por que o autor do texto quer mandar seu vizinho para longe da cidade?

b) Como o autor do texto descreve a cara do vizinho?

c) O que vai fazer o autor do texto mudar de ideia e gostar de seu vizinho?

2- Leia as afirmativas abaixo e assinale (V) verdadeiro e (F) falso.

() Toda vizinhança tem o mesmo jeito e o mesmo formato.

() Há vizinhanças com poucos moradores com estrada de terra ou pavimentadas.

() Praças, áreas verdes e plantações fazem parte da vizinhança.

() Áreas comerciais, como lojas e estabelecimentos não fazem parte da vizinhança.





História

ATIVIDADE DO CADERNO

AMPARO, ____ DE _____ DE 2020

HOJE É _____

NOME: _____

LEIA O TEXTO E RESPONDA AS PERGUNTAS.

COSTUMAMOS DIZER QUE TEMOS HORA PARA TUDO:

PARA ACORDAR, CHEGAR À ESCOLA, TOMAR BANHO, ALMOÇAR, BRINCAR, VER TELEVISÃO, DORMIR ETC...

1- CITE ATIVIDADES QUE PODEMOS FAZER DE MANHÃ.

2- CITE ATIVIDADES QUE PODEMOS FAZER A TARDE.

3- CITE ATIVIDADES QUE PODEMOS FAZER A NOITE.






Clique no link para acessar a aula de Educação Física com o Professora Cassia



<https://www.youtube.com/watch?v=0IUpcqUMkuo>



Atividades no caderno de desenho

Releitura de obras Alfredo Volpi: Bandeirinhas e grande fachada.

Em arte é mais uma atividade de releitura das obras de Alfredo Volpi, primeiramente observar a imagem e depois pintar utilizando os materiais : lápis de cor, giz de cera ou canetinha. Terminada a atividade colar no caderno de Arte. A atividade está no saquinho de atividades entregue no dia



ANEXO 1 NA PAGINA 10



NOME _____

DATA ____/____/____

ALFREDO VOLPI

BANDEIRINHAS E GRANDE FACHADA

