

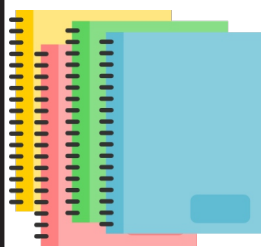
ATIVIDADE DO CADERNO

AMPARO, ____ DE _____ DE 2020
HOJE É _____
NOME: _____

1 - ESCREVA SEU NOME COMPLETO

2 - ESCREVA O NOME DOS PERSONAGENS DOS CONTOS DE FADA:





ATIVIDADE DO CADERNO

AMPARO, ____ DE _____ DE 2020
HOJE É _____
NOME: _____

3 - LEIA A MÚSICA DA CHAPEUZINHO VERMELHO E CIRCULE AS PALAVRAS QUE A PROFESSORA DITAR:



PELA ESTRADA FORA
EU VOU BEM SOZINHA
LEVAR ESSES DOCES
PARA A VOVOZINHA
ELA MORA LONGE
E O CAMINHO É DESERTO
E O LOBO MAU PASSOU
AQUI POR PERTO

4 - PINTO O TÍTULO DA HISTÓRIA



A BELA ADORMECIDA

A BELA E A FERA

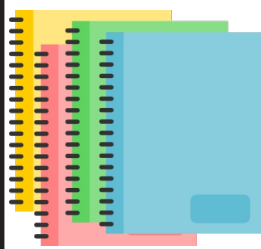
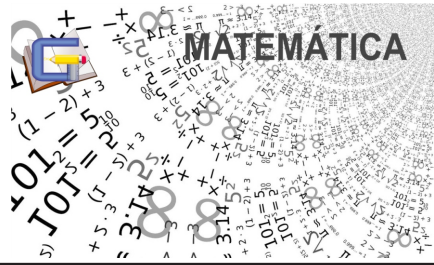


LN 01

JOÃO E MARIA

JOÃO E O PÉ DE FEIJÃO





ATIVIDADE DO CADERNO

AMPARO, ____ DE _____ DE 2020

HOJE É _____

NOME: _____

1 - OBSERVE OS NÚMEROS ABAIXO E ESCREVA-OS EM ORDEM CRESCENTE (DE MENOR PARA O MAIOR);

2019	780	1	120	38	460	1000	203
------	-----	---	-----	----	-----	------	-----

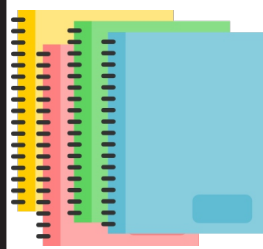
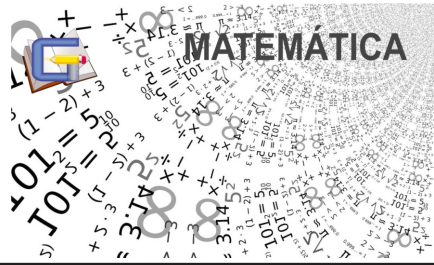
2 - JOSÉ ADORA COLECIONAR CARRINHOS EM MINIATURA. EM SUA COLEÇÃO ELE JÁ TINHA 34 CARRINHOS, SEU TIO LHE DEU OUTROS 15 CARRINHOS. COM QUANTOS CARRINHOS ELE FICOU AGORA?

3 - BEATRIZ TINHA 47 BONECAS DA POLLY. ELA ACABOU PERDENDO 13 BONECAS. COM QUANTAS BONECAS ELA FICOU AGORA?

4 - CARLOS PLANTOU 58 PÉS DE CAFÉ EM SEU SÍTIO, PORÉM, 24 MORRERAM. QUANTOS PÉS DE CAFÉ SOBRARAM?

5 - LUÍS COLHEU EM SEU POMAR 62 LARANJAS E 26 LIMÕES. QUANTAS FRUTAS LUÍS COLHEU AO TODO?





ATIVIDADE DO CADERNO

AMPARO, ____ DE ____ DE 2020

HOJE É _____

NOME: _____

6 - RESOLVA AS CONTINHAS

$76 + 23 =$

$84 + 15 =$

$35 + 41 =$

$96 - 73 =$

$78 - 68 =$

$45 - 12 =$

A PROFESSORA MARLI E AS CRIANÇAS FORAM A UM PARQUE DE DIVERSÕES. AS MENINAS GANHARAM MUITAS BONEQUINHAS EM UMA BRINCADEIRA

<p>BONECAS DE TAMIRES</p> 	<p>BONECAS DE BEATRIZ</p> 
<p>BONECAS DE LUÍSA</p> 	<p>BONECAS DE SOFIA</p> 

A) QUANTAS BONECAS TAMIRES GANHOU?

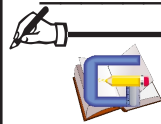
B) E BEATRIZ?

C) E LUÍSA?

D) E SOFIA?

E) QUAL DAS MENINAS GANHOU MAIS BONECAS?

F) QUANTAS BONECAS TAMIRES GANHOU A MAIS QUE BEATRIZ?





AMPARO, ____ DE _____ DE 2020

HOJE É _____

NOME: _____

1 - LIGUE OS ANIMAIS AO AMBIENTE EM QUE ELES SÃO ENCONTRADOS.



2 - CIRCULE A IMAGEM QUE REPRESENTA UMA RELAÇÃO ENTRE SERES VIVOS



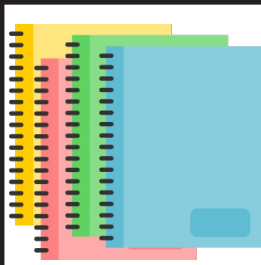
3 - ASSINALE A ALTERNATIVA COM A ATITUDE QUE NÃO AJUDA A CUIDAR DO AMBIENTE:

- A) ECONOMIZAR ÁGUA.
- B) REDUZIR O CONSUMO DE ENERGIA.
- C) CONHECER O AMBIENTE.
- D) JOGAR LIXO NOS RIOS.

4 - MARQUE (V) PARA VERDADEIRO OU (F) PARA FALSO NAS AFIRMATIVAS ABAIXO.

- () OS SERES VIVOS NASCEM, CRESCEM, PODEM SE REPRODUZIR E MORREM.
- () AS PLANTAS NÃO SE REPRODUZEM, POR ISSO NÃO SÃO SERES VIVOS.
- () A MAIORIA DOS ANIMAIS SE LOCOMOVE EM BUSCA DE ALIMENTO E ÁGUA.
- () OS ANIMAIS E PLANTAS PRECISAM DE ÁGUA PARA SOBREVIVER.





ATIVIDADE DO CADERNO

AMPARO, ____ DE _____ DE 2020

HOJE É _____

NOME: _____


1 - QUAL É A FUNÇÃO DOS MEIOS DE TRANSPORTE?

2 - MARQUE COM UM X A ALTERNATIVA QUE DESCREVE OS MEIOS DE TRANSPORTE TERRESTRES.

- A) SÃO AQUELES QUE CIRCULAM POR RUAS E ESTRADAS.
- B) SÃO AQUELES QUE CIRCULAM POR RIOS, LAGOS E MARES.
- C) SÃO AQUELES QUE CIRCULAM PELO AR.
- D) SÃO AQUELES QUE CIRCULAM PELA TERRA E PELA ÁGUA.

3) DESENHE UM MEIO DE TRANSPORTE AQUÁTICO.

3 - CIRCULE A CENA QUE REPRESENTA UM AMBIENTE COM AR POLUÍDO.





ATIVIDADE DO LIVRO

AMPARO, ____ DE _____ DE 2020
HOJE É _____
NOME: _____



1- Leia o texto da página 52 do livro didático e responda as questões da página 53.



LEIA O TEXTO E RESPONDA AS PERGUNTAS.

UM DIA TEM 24 HORAS. ELE TEM UM PERÍODO CLARO (DIA) E UM PERÍODO ESCURO (NOITE).
DURANTE O DIA TEMOS UMA ROTINA COMO TRABALHAR, ESTUDAR, SE DIVERTIR E PARA A MAIORIA DAS PESSOAS, A NOITE É A HORA DE DORMIR.

1- ESCREVA QUE PARTE DO DIA INDICA CADA IMAGEM.



A IMAGEM AO LADO INDICA:

- QUE O DIA ESTÁ CLARO
- QUE O DIA ESTÁ ESCURO.






Clique no link para acessar a aula de Educação Física com o Professor Alexandre



<https://youtu.be/bdd5SAdfT-4>

Preencha o Formulário

<https://forms.gle/wqqtukmFmpCnhzzaA>



Releitura de obras Alfredo Volpi: Casario e Barco com bandeirinhas.

Alfredo Volpi (Lucca, 14 de abril de 1896 — São Paulo, 28 de maio de 1988) foi um pintor ítalo-brasileiro considerado pela crítica como um dos artistas mais importantes da segunda geração do modernismo. Uma das características de suas obras são as bandeirinhas e os casarios.

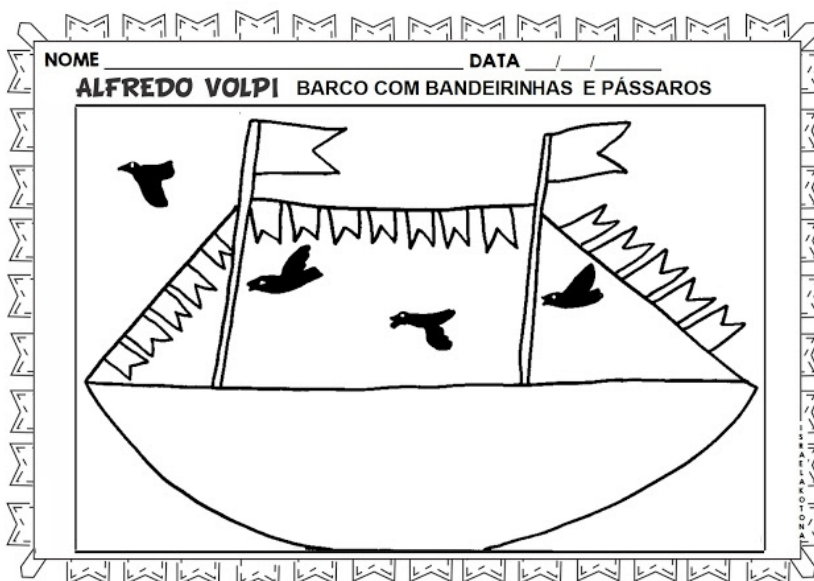
Começou a pintar em 1911, executando murais decorativos. Em seguida, trabalhou com óleo sobre madeira, consagrando-se como mestre utilizador de têmpera sobre tela.

Grande colorista, explorou através das formas, composições magníficas de grande impacto visual. Em conjunto com Arcangelo lanelli e Aldir Mendes de Souza, formou uma tríade de exímios coloristas, foco de livro denominado 3 Coloristas, escrito por Alberto Beuttenmüller (Ed. IOB, julho de 1989).

Trabalhou também como pintor decorador em residências da sociedade paulista da época, executando trabalho de decoração artística em paredes e murais junto com Antonio Ponce Paz, pintor e escultor espanhol que logo virou um grande amigo de Volpi.

Realizou a primeira exposição individual aos 47 anos de idade, expondo no Salão de Maio e na 1ª. Exposição da Família Artística Paulista, no ano de 1938 na cidade de São Paulo.

Na década de 1950 evoluiu para o abstracionismo geométrico, de que é exemplo a série de bandeiras e mastros de festas juninas. Recebeu o prêmio de melhor pintor nacional na segunda Bienal de São Paulo, em 1953. Participou da primeira Exposição de Arte Concreta, entre ao Grupo Santa Helena, porém sempre ia visitar seus amigos que oficialmente participavam como Mario Zanini e Francisco Rebolo, situado na Praça da Sé, em São Paulo. Faziam parte do Grupo Santa Helena os seguintes pintores: Aldo Bonadei, Clóvis Graciano, Fúlvio Penacchi e Ernesto de Fiori que teve grande influência no trabalho de Volpi.



**ANEXO 1
NA PAGINA
09**



NOME _____

DATA ____ / ____ / ____



Alfredo Volpi

ALFREDO VOLPI

FESTA JUNINA

