



NOME: \_\_\_\_\_ Nº \_\_\_\_\_

5º ANO \_\_\_\_\_ PROFESSORA(S): \_\_\_\_\_

**ATIVIDADES REFERENTES AO PERÍODO DE 09/09 A 11/09**

**Obs.: Estas atividades podem ser realizadas em seu caderno de sala. Leia o arquivo e registre somente as respostas.**

**AULA 1 – LÍNGUA PORTUGUESA:**


**LIVRO: LER E ESCREVER:**

**Etapa 1 – Leitura de carta de leitor (páginas: 160 a 163).**

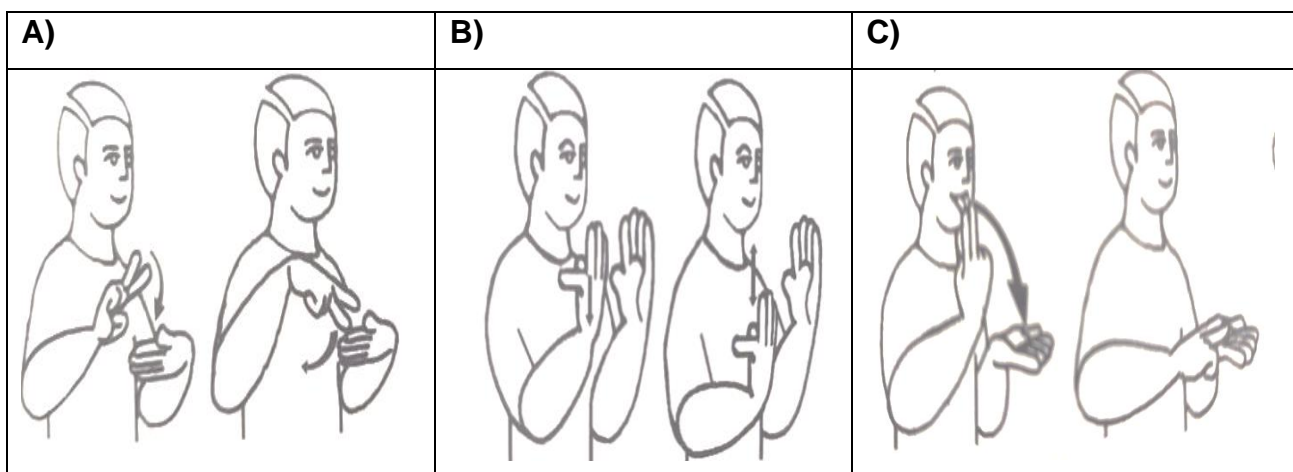
Leia as cartas de leitor das páginas 161 e 162. Depois com base na leitura e análise dessas cartas, preencha os dois quadros das páginas 162 e 163 conforme solicitado na atividade.

**Momento Libras**

Vamos retomar algumas características da carta do leitor e aproveitar para aprender Libras? Acesse ao link: <https://www.youtube.com/watch?v=9zFe2-49U1U>



1) Qual dos sinais abaixo significa CARTA, LEITOR, TEXTO?



2) Segundo o vídeo, onde eu encontro a carta de leitor?

---

---


3) Por que escrevemos uma carta de leitor?

---

---

**AULA 2 – HISTÓRIA/ GEOGRAFIA:**

## 7 DE SETEMBRO – INDEPENDÊNCIA DO BRASIL

<p>A partir de quando o Brasil ficou pertencendo à Portugal?</p> 	<p>Desde que foi descoberto por Pedro Álvares Cabral, em 1500. O Brasil era colônia de Portugal.</p> 
<p>...Em 1808, o rei de Portugal D. João VI, e toda a família real mudaram-se para o Brasil, para evitar um conflito com Napoleão Bonaparte.</p> 	<p>...Mas, em 1821, o rei voltou para Portugal e deixou o seu filho D. Pedro I como príncipe regente do Brasil.</p> 

Portugal queria que o Brasil voltasse a ser apenas uma colônia, mas D. Pedro não aceitava mais essa situação.



Então, foi no dia 7 de setembro de 1822, às margens do rio Ipiranga, em São Paulo, que D. Pedro I proclamou a Independência do Brasil, com o grito: Independência ou morte.



A partir desse dia, o Brasil não pertencia mais a Portugal. O Brasil era um país livre.



Nossa! Que interessante essa história. Quero saber mais um pouquinho. Vou à biblioteca pesquisar. Obrigado e até logo!



## O que é a Bandeira do Brasil?

A Bandeira do Brasil é o **símbolo máximo de representação da nação brasileira** perante os outros países.

A bandeira do Brasil é formada por um retângulo verde, um losango amarelo no centro, uma esfera azul celeste dentro do losango, e uma faixa branca com a frase "Ordem e Progresso". Na bandeira brasileira ainda estão 27 estrelas que representam os 26 estados e o Distrito Federal do país.

### Significado das cores da bandeira do Brasil



**Ordem e Progresso** — Lema baseado nos estudos do filósofo francês fundador do positivismo, Augusto Comte

**Estrelas** — Representam os estados e o Distrito Federal do país

Fonte: Site Significados. Acesso em agosto, 2020.

Responda:

1) De acordo com a História em Quadrinhos:

a) O que comemoramos no dia 7 de setembro?

---

---

b) De que país o Brasil era colônia?

---

---

c) Quem proclamou a Independência do Brasil? Onde isso ocorreu?

\_\_\_\_\_

2) Analisando o texto e a imagem sobre nossa Bandeira:

a) Como foi criado o lema: "Ordem e Progresso"?

\_\_\_\_\_  
\_\_\_\_\_

b) O que representam as estrelas da Bandeira?

\_\_\_\_\_  
\_\_\_\_\_

c) Você acha que as cores escolhidas representam bem o Brasil? Por quê?

\_\_\_\_\_  
\_\_\_\_\_

### **AULA 3: MATEMÁTICA / ARTE:**

#### **SITUAÇÕES-PROBLEMA DA INDEPENDÊNCIA:**



Fonte: Freepik Company. Acesso Agosto, 2020

1) Pedrinho foi participar do desfile de Sete de Setembro distribuindo bandeirinhas. Ele pegou três caixas de bandeirinhas com uma dúzia em cada uma. Quantas bandeirinhas Pedrinho distribuirá nesse desfile?

R: \_\_\_\_\_

2) Destas bandeirinhas distribuídas durante o desfile, 24 eram do Brasil e o restante do Estado de São Paulo. Quantas eram as bandeirinhas do Estado de São Paulo?

R: \_\_\_\_\_

3) Pedrinho deveria distribuir uma bandeira do Brasil e uma bandeira do Estado de São Paulo para cada pessoa. Quantos pares de bandeirinhas ele conseguirá formar?

R: \_\_\_\_\_



**EMAI:**

**Sequência 3: Atividade 3.1 página 22**

Ler as situações-problema com muita atenção e resolver como que se pede.



**MUNDODOSABER**

**SUGESTÕES DE ATIVIDADES 5<sup>os</sup> ANOS**


- **LÍNGUA PORTUGUESA:** O sapo vai à Lua
- **MATEMÁTICA:** Desenvolvendo o raciocínio Lógico
- **HISTÓRIA:** A História do Brasil em quebra cabeças
- **ARTE:** História com dobraduras

**ARTE:**

Escolha **um tema ( A, B ou C )** e faça um desenho que represente nosso lindo País: **O**

**Brasil !**

- A) Fauna e flora (florestas e animais)
- B) Cultura (festas típicas, roupas, comidas etc)
- C) Povos que formam nossa nação (índios, italianos, africanos, alemães, japoneses etc)





NOME: \_\_\_\_\_ Nº \_\_\_\_\_

EDUCAÇÃO FÍSICA - PROFESSOR: ANTONIO HAMILTON GUERATO JÚNIOR


## SEMANA DE 07 À 11/09 DE 2020. ATLETISMO: SALTO EM DISTÂNCIA

SALTO EM DISTÂNCIA É UMA MODALIDADE OLÍMPICA DE ATLETISMO ONDE OS ATLETAS COMBINAM VELOCIDADE, FORÇA E AGILIDADE PARA SALTAREM O MAIS LONGE POSSÍVEL A PARTIR DE UM PONTO PRÉ-DETERMINADO. EXISTE DESDE OS JOGOS OLÍMPICOS DA ANTIGUIDADE E, NA ERA MODERNA, É DISPUTADO DESDE A PRIMEIRA EDIÇÃO EM ATENAS 1896, PARA HOMENS, E DESDE LONDRES 1948, PARA MULHERES.



O PRIMEIRO CAMPEÃO OLÍMPICO DA PROVA FOI O NORTE-AMERICANO ELLERY CLARK E A PRIMEIRA CAMPEÃ A HÚNGARA OLGA GYARMATI. OS ATUAIS CAMPEÕES OLÍMPICOS SÃO JEFF HENDERSON E TIANNA BARTOLETTA, AMBOS DOS ESTADOS UNIDOS. O RECORDE MUNDIAL PERTENCE DESDE 1991 AO NORTE-AMERICANO MIKE POWELL 8,95 M E ENTRE AS MULHERES É DA SOVIÉTICA GALINA CHISTYAKOVA – 7,52 M – DESDE 1988.

ANTES DE COMEÇARMOS A SALTAR VAMOS FAZER ESSES ALONGAMENTOS?

Click no link para assistir o vídeo 

<https://www.youtube.com/watch?v=xELgfiXSw-s>

AGORA QUE ESTAMOS ALONGADOS, VAMOS FAZER TRÊS SALTOS E ANOTAR A DISTÂNCIA QUE CONSEGUIMOS SALTAR. POSTEM NO GRUPO UMA FOTO DE VOCÊ SALTANDO E O MELHOR RESULTADO QUE CONSEGUIU OU UM DESENHO COM A MARCA ALCANÇADA.

BOA SEMANA E UM BOM DIVERTIMENTO!!!

LOGO ESTAREMOS TODOS JUNTOS NOVAMENTE.



**Fonte:**

[https://annacrafts.files.wordpress.com/2011/08/historia-independencia\\_0001.jpg](https://annacrafts.files.wordpress.com/2011/08/historia-independencia_0001.jpg)

<https://www.significados.com.br/bandeira-do-brasil/>

[https://br.freepik.com/vetores-premium/ilustracao-em-vetor-de-garoto-segurando-bandeira\\_2440180.htm](https://br.freepik.com/vetores-premium/ilustracao-em-vetor-de-garoto-segurando-bandeira_2440180.htm)

<https://miriamveiga.com.br/dia-da-independencia-do-brasil-situacoes-problema-de-matematica/>

**LIBRAS:**

<https://www.youtube.com/watch?v=9zFe2-49U1U>

CAPOVILLA, F.C.; RAPHAEL, W.D.; MAURICIO, A.C.L.. NOVO DEIT-LIBRAS: Dicionário Enciclopédico Ilustrado Trilíngue da Língua de Sinais Brasileira (libras) Baseado em Linguística e Neurociências Cognitivas. 1,2 e 3 vol. Editora EDUSP, 2013

**“Nenhuma violação de direitos autorais pretendida”**