

E.M.E.F. PROFESSORA CLARINDA DE ALMEIDA MELLO

4º ANO A

PROFESSORA: VIVIANE TENÓRIO DE OLIVEIRA

SEMANA DE 10 A 24 DE SETEMBRO

ATIVIDADES DE MATEMÁTICA

1. Observe o anúncio

ELETRO
PANELA DE PRESSÃO
ELECTROLUX
DE 6,5L
R\$ **499,90**

TUDO DIA TEM OFERTAS
FRALDAS POMPOM
PROTEK MEGA
R\$ **29,98**

ELETRO
TELEFONE SEM FIO
R\$ **169,90**

ELETRO
CHUVEIRO ELÉTRICO
R\$ **39,90**

a) Se eu comprar uma panela de pressão e um chuveiro elétrico, quanto vou pagar?	b) Se eu comprar um pacote de fraldas e um chuveiro e pagar com uma nota de R\$ 100,00; quanto recebo de troco?	c) Se eu comprar uma panela de pressão, um pacote de fraldas e um telefone sem fio, quanto vou pagar?
d) Se eu comprar todos os produtos e dividir em 4 prestações. Quanto vou pagar em cada prestação?	e) Qual a diferença de preço entre a panela elétrica e o telefone sem fio?	f) Se eu comprar 8 pacotes de fraldas, quanto vou pagar?

Caça números com as operações fundamentais

Efetue as operações. Depois encontre os resultados no diagrama.

$37 + 92 =$ _____	$220 + 12 + 45 =$ _____	$730 : 3 =$ _____
$98 \times 3 =$ _____	$800 - 350 =$ _____	$56 \times 9 =$ _____
$790 - 435 =$ _____	$98 \times 4 =$ _____	$27 \times 8 =$ _____
$895 : 5 =$ _____	$750 : 2 =$ _____	$45 + 65 + 78 =$ _____
$178 + 94 =$ _____	$325 - 25 =$ _____	$369 : 3 =$ _____
$35 \times 12 =$ _____	$78 + 26 + 9 =$ _____	$26 \times 7 =$ _____
$78 \times 5 =$ _____	$56 \times 8 =$ _____	$59 \times 8 =$ _____
$764 : 4 =$ _____	$590 : 5 =$ _____	$47 \times 7 =$ _____
$89 \times 7 =$ _____	$555 : 5 =$ _____	$963 : 3 =$ _____





755	375	202	301	045	577	110				
666	444	300	112	408	272	633	909			
182	777	330	113	221	788	420	988	005		
222	472	899	215	448	933	844	390	500	033	
809	510	329	522	003	118	001	033	191	007	211
999	501	333	623	302	099	392	155	400	277	010
	311	444	960	111	011	400	504	007	900	188
				332	321	555	663	216	069	650
					001	129	255	035	123	048
						009	294	890	660	450
						322	088	355	840	710
							718	100	179	509
								500	309	243
									311	570



Ayuda a los alienígenas a llegar a su nave. Para encontrar el camino resuelve las operaciones y coloréalas en los recuadros.

$38 \times 5 = \bigcirc$ $47 \times 5 = \bigcirc$ $26 \times 5 = \bigcirc$ $59 \times 5 = \bigcirc$
 $28 \times 6 = \bigcirc$ $19 \times 6 = \bigcirc$ $37 \times 6 = \bigcirc$ $46 \times 6 = \bigcirc$
 $47 \times 7 = \bigcirc$ $38 \times 7 = \bigcirc$ $59 \times 7 = \bigcirc$ $26 \times 7 = \bigcirc$
 $56 \times 8 = \bigcirc$ $27 \times 8 = \bigcirc$ $19 \times 8 = \bigcirc$ $38 \times 8 = \bigcirc$
 $19 \times 9 = \bigcirc$ $56 \times 9 = \bigcirc$ $48 \times 9 = \bigcirc$ $27 \times 9 = \bigcirc$

				180	202	615	354	325
				190	235	540	400	242
				150	115	130	295	180
		101	414	180	202	555	168	
	540	325	329	276	222	114	615	
202	182	413	266	242	101	180	325	333
448	115	333	202	542	615			
325	216	101	414	432	243			
615	152	400	504	115	242			
180	541	304	171	333	202			

Preço	Paguei com	Recebi de troco
 R\$ 25,00	R\$ 50,00	<input type="checkbox"/> R\$ 15,00 <input type="checkbox"/> R\$ 75,00 <input type="checkbox"/> R\$ 3,00 <input type="checkbox"/> R\$ 25,00
 R\$ 68,00	R\$ 80,00	<input type="checkbox"/> R\$ 22,00 <input type="checkbox"/> R\$ 13,00 <input type="checkbox"/> R\$ 148,00 <input type="checkbox"/> R\$ 12,00
 R\$ 19,00	R\$ 20,00	<input type="checkbox"/> R\$ 1,00 <input type="checkbox"/> R\$ 11,00 <input type="checkbox"/> R\$ 39,00 <input type="checkbox"/> R\$ 2,00
 R\$ 86,00	R\$ 100,00	<input type="checkbox"/> R\$ 186,00 <input type="checkbox"/> R\$ 14,00 <input type="checkbox"/> R\$ 86,00 <input type="checkbox"/> R\$ 26,00

