

NOME: \_\_\_\_\_

PROFESSORA: Alice Gritti

DATA: 02 / 10 / 2020 – Sexta-feira

### **ATIVIDADE DE LÍNGUA PORTUGUESA – LEITURA E INTERPRETAÇÃO DE TEXTOS**

Leia o texto abaixo que pertence ao “Manual de Etiqueta: 33 dicas de como enfrentar o aquecimento global e outros desafios da atualidade”, para responder à questão 1.

“Ao fazer compras, leve sua própria sacola, de preferência as de pano resistente”, aconselha o presidente do Instituto Ethos, Ricardo Young. Com esse gesto simples, você deixará de participar da farra das sacolinhas plásticas, que entopem cada vez mais os lixões das grandes cidades.

#### **Questão 1**

O conselho dado por Ricardo Young tem por finalidade:

- A) Divertir o leitor.
- B) Influenciar o leitor para que ele mude de atitude.
- C) Vender um produto ao leitor.
- D) Contar uma história ao leitor.

Leia o texto abaixo para responder à questão 2.

#### **OMS ALERTA PARA “PANDEMIA IMINENTE”**

*Organização confirma 1ª morte por gripe suína fora do México; Brasil tem 2 casos suspeitos, diz governo.*

Ante a rápida propagação mundial da gripe suína e a constatação da contínua transmissão do vírus entre humanos, a Organização Mundial de Saúde elevou seu alerta para o nível 5.

É a primeira vez que a OMS aciona esse nível, que indica iminência de pandemia (epidemia mundial). O órgão diz ser alta a probabilidade de o alerta ir ao nível 6 (declaração de pandemia).

“Todos os países devem imediatamente ativar planos contra pandemias” afirmou Margaret

Chan, diretora-geral da OMS. Para Keiji Fukuda, diretor-geral-assistente, a pandemia começou.

A OMS confirmou a primeira morte causada pela gripe suína fora do México. A vítima foi um menino mexicano de 22 meses que estava internado nos EUA. No mundo, já são oito mortos.

O que mais preocupa agora é o contágio de pacientes que não foram ao México. Isso já ocorreu entre alunos de uma escola de Nova York que tiveram contato com pessoas vindas daquele país.

Caso similar aconteceu na Espanha. No Brasil, segundo o governo, há dois casos suspeitos de gripe suína. Os pacientes, um em Belo Horizonte e outro em São Paulo, estiveram no México.

*Folha de São Paulo, 30 abr. 2009, p. 1.*

#### **Questão 2**

Esse texto traz informações sobre

- A) os perigos de viagens ao México.
- B) os planos para combater doenças.
- C) uma gripe que pode atingir o mundo.
- D) uma organização internacional.

Leia o texto abaixo para responder às questões 3 e 4.

#### **Caipora, o pai-do-mato**

*Adaptação de lenda brasileira*

Toda a manhã, bem cedinho, dois compadres iam juntos para a mata, cortar lenha. Com seus machados os lenhadores iam cortando a madeira. Compadre Tonho procurava cortar sempre os galhos mais baixos. E vivia chamando a atenção do Compadre Chico, que cortava troncos, quebrava galhos sem necessidade só pra treinar a pontaria.

Um dia, o Compadre Tonho não foi. Chico entrou sozinho na mata, e parecia que

estava tudo diferente. Uns barulhos esquisitos, uns sussurros, estalos de folhas secas, o riacho no meio das pedras mais barulhento do que nunca... Aqui e ali, a corrida de um gato-do-mato ou o bater das asas de um pássaro. Um vento frio de doer, e um silêncio estranho entre um som e outro. Compadre Chico apertou o cabo do machado, as juntas doendo de frio. Forçou a vista: era difícil enxergar na escuridão cinzenta da mata. De repente, apertou mais os olhos: não era possível! Devia estar vendo coisas... Mas não: lá adiante, aquele vulto escuro, aquela imagem... Atrás dela, parecia que vinham todos os bichos do mundo, grandes e pequenos, de penas e de pelos, comedores de carne e de ervas. O coração do lenhador disparou. Era o Caipora, o pai-do-mato!

O lenhador, paralisado de medo, viu a figura vindo, chegando mais perto, bem devagar. Era enorme, verde da cabeça aos pés, parecendo uma planta semovente. Os membros grossos, grandes, o corpo coberto de pelos grossos como cerdas. Os braços, compridos, quase tocavam o chão. Focinho de cachorro-do-mato, orelhas em pé, curtas, de pontas viradas pra fora. O coisa parou. Tinha os pés virados: Dedos pra trás, calcanhares pra frente. O homem tremeu. Então, de repente, o Caipora perguntou, com voz rouca:

-Tem fumo aí, siô?

Neste momento Chico lembrou-se de ter ouvido na vila que se alguém desse fumo ao Caipora, ele retribuiria com riqueza e prosperidade. Foi então que começou a gritar:

- Pode me dar daquele carvão? Eu tenho fumo aqui, no embornal. Tenho muito! Quero ficar rico!

A cara do bicho escureceu. Dos seus olhos saíram chispas verdes de ódio.

Em volta, tudo virou um silêncio só. Nem uma folhinha se mexia. Com um ronco surdo, o bicho avançou sobre o homem e o agarrou... E daquele dia em diante, surgiu uma nova assombração nas matas: um homem que fica vagando para baixo e para cima, que nem alma penada, virado pelo avesso...

Livremente adaptado de:

<http://www.terra.com.br/criancas/halloween1.htm>

### Questão 3

Dentre os episódios abaixo, qual deles aconteceu primeiro na narrativa?

- A) A falta de compadre Tonho;
- B) A entrada de Chico na mata;
- C) O encontro com o Caipora;
- D) O homem virou alma penada.

### Questão 4

Dentre as passagens enumeradas abaixo, em qual delas o autor criou um clima de mistério?

- A) dois compadres iam juntos para a mata;
- B) o homem cortava troncos e quebrava galhos;
- C) um vento frio de doer, e um silêncio estranho;
- D) ele retribuiria com riqueza e prosperidade.

Leia o texto abaixo para responder à questão 5.

### Tarefa difícil

Ainda é cedo quando um jovem entra na fazenda à procura de serviço. Logo é atendido pelo fazendeiro, que lhe dá a primeira tarefa.

- Tome este banquinho e este balde. Vá ali naquele galpão e tire o leite da Malhada. É minha vaquinha leiteira.

- Certamente, senhor! Vou agora mesmo!

Bastante animado, lá vai o rapaz. Não demora muito e ouvem-se mugidos e gritaria. O rapaz sai apressadamente do galpão segurando o banquinho em uma mão e o balde, sem nenhuma gota de leite, na outra.

- O que houve? - Perguntou o fazendeiro.

- Senhor, tirar leite da vaca até que é fácil, mas fazer ela sentar no banquinho, não dá mesmo!

### Questão 5

Há traços de humor no trecho:

- A) Tome este banquinho e este balde.
- B) O rapaz sai apressadamente do galpão.
- C) Fazer ela sentar no banquinho, não dá mesmo!
- D) É minha vaquinha leiteira.



NOME: \_\_\_\_\_

PROFESSORA: Alice Gritti

DATA: 05 / 10 / 2020 – Segunda-feira

### ATIVIDADE DE MATEMÁTICA

#### Questão 1


Resolva as operações a seguir e indique o resultado:

a) $289 \times 47 =$	b) $326 \times 58 =$	c) $419 \times 32 =$	d) $547 \times 26 =$

#### Questão 2

Cecília comprou um televisor por R\$ 4.200,00. Pagou em 8 prestações mensais iguais. Qual foi o valor de cada prestação?

- (A) R\$ 521,00
- (B) R\$ 522,00
- (C) R\$ 525,00
- (D) R\$ 1.525,00



#### Questão 3

Suponha que um ônibus transporte, no máximo, 42 pessoas em cada viagem. Se esse ônibus fizer 15 viagens com o máximo de passageiros, quantas pessoas serão transportadas?

- (A) 530
- (B) 420
- (C) 630
- (D) 620

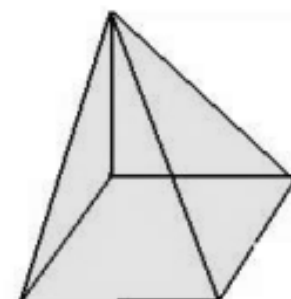


#### Questão 4

Observe a pirâmide de base quadrada.

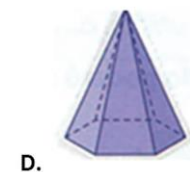
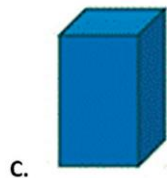
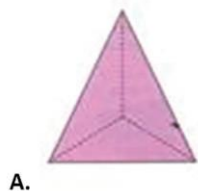
O número de Vértices (V), Faces (F) e Arestas (A) são respectivamente:

- (A)  $V=5$ ;  $F=4$ ;  $A=8$ ;
- (B)  $V=5$ ;  $F=5$ ;  $A=4$ ;
- (C)  $V=5$ ;  $F=4$ ;  $A=4$ ;
- (D)  $V=5$ ;  $F=5$ ;  $A=8$ .



### Questão 5

Quais das figuras apresentadas abaixo têm base triangular?




- (A) A e C.
- (B) B e C.
- (C) A e B.
- (D) A e D

### Questão 6

Um sorveteiro colocou em seu carrinho 4 tipos de sorvetes e foi vendê-los na vizinhança. No total, ele conseguiu vender METADE dos sorvetes. Observe a fração que representa esta venda:



Qual das frações abaixo também pode representar a quantidade vendida de sorvetes?



### Questão 7

Nilza leu em uma revista de fofocas uma reportagem sobre o peso e a altura de algumas celebridades:

Celebridade	Peso	Altura
Anitta	55 Kg	1,62 m
Angelina Jolie	59 Kg	1,70 m
Bruna Marquezine	59 Kg	1,71 m
Mariana Ruy Barbosa	50 Kg	1,67 m
Grazzi Massafera	57 Kg	1,73 m
Gisele Bündchen	54 kg	1,79 m


Considerando as celebridades ao lado, qual é a mais leve e qual a mais alta?

- (A) Angelina Jolie e Anitta.
- (B) Angelina Jolie e Grazi Massafera.
- (C) Mariana Ruy Barbosa e Gisele Bündchen.
- (D) Mariana Ruy Barbosa e Bruna Marquezine.

### Questão 8

Quando Maria colocou um bolo para assar, o relógio marcava a hora indicada. O bolo ficou pronto em 30 minutos. Que horário o relógio estava marcando quando o bolo ficou pronto?

- (A) 11 horas 50 minutos
- (B) 12 horas
- (C) 12 horas 5 minutos
- (D) 12 horas 10 minutos



### Questão 9



Ao lado temos um relógio de ponteiros e ele marca o horário em que Marcos faz sua caminhada todas as manhãs. Se fosse um relógio digital, como apareceria no visor?

- (A) 05:45
- (B) 07:25
- (C) 09:25
- (D) 09:35

### Questão 10

Clarissa adora ver televisão. Todos os dias ela passa 240 minutos na frente da TV.

Por quantas horas ela assiste à televisão por dia?

- (A) 1 hora
- (B) 2 horas
- (C) 3 horas
- (D) 4 horas



*\*OBS.: Colorir a capa das Atividades.*

**Professora: Alice Gritti**

**5º ano**

**Aluno:** \_\_\_\_\_

# Minhas Atividades

**3º Bimestre**

