




Nome completo: \_\_\_\_\_

**Atividades remotas — RETIRADA: 22/09/2020 – 4º Bimestre**

Pinte cada espaço da mesma cor com tonalidades diferente, recorte e cole na página 2





Prefeitura Municipal de  
**AMPARO**  
Estância Hidromineral

SECRETARIA MUNICIPAL DE  
EDUCAÇÃO

E.M.E.F. “Prof.<sup>a</sup> Clarinda de Almeida Mello”

Rua: Olga Pinarelo Almeida, 40  
Jardim Modelo

Fone: (19) 3817-2666

E-mail: [eclarinda@amparo.sp.gov.br](mailto:eclarinda@amparo.sp.gov.br)

Nome completo: \_\_\_\_\_

**Atividades remotas — RETIRADA: 22/09/2020**

Cole aqui a atividade da página 1 e não esquece de completar se nome

## **ROTINA DE ESTUDO DAS ATIVIDADES REMOTAS**

**ATENÇÃO:** Todas as atividades devem, após ser feitas tiradas fotos e postada no grupo do watts. Toda sexta-feira postarei as respostas da semana para conferência e correção.

DATA	CONTEÚDO	DATA	CONTEÚDO
23/09 2020 4ª feira	<u>Português</u> : apostila pg. 4 <u>Matemática</u> : apostila pg. 5 <u>Emai</u> : pg 37 (tabela) <u>Ciências</u> : Apostila pg. 6	06/10 2020 3ª feira	<u>Português</u> : livro pg. 106 e 107 <u>Matemática</u> : Livro pg. 74 <u>Emai</u> : pg 46 (calendário - bimestre)
24/09 2020 5ª feira	<u>Português</u> : livro didático pg <u>Matemática</u> : Livro pg. 66 <u>Emai</u> : pg 38 (gráfico) <u>História</u> : Apostila pg. 8	07/10 2020 4ª feira	<u>Português</u> : Livro pg. 108 <u>Matemática</u> : Livro pg. 75 <u>Emai</u> : pg 47 (tabela de adição) <u>Ciências</u> : livro didático pg. 54 e 55
25/09 2020 6ª feira	<u>Português</u> : Livro pg. 98 e 99 <u>Matemática</u> : Livro pg. 67 <u>Emai</u> : pg 39 (mapa) <u>Arte</u> : apostila pg. 1 e 2	08/10 2020 05ª feira	<u>Português</u> : livro pg. 112 e 113 <u>Matemática</u> : Livro pg. 76 <u>Emai</u> : pg 48 (sequencia numérica) <u>História</u> : livro didático pg. 41, 42 e 43 (leitura)
28/09 2020 2ª feira	<u>Português</u> : Livro pg. 100 <u>Matemática</u> : Livro pg. 68 <u>Emai</u> : pg. 40 (localização) <u>Geografia</u> : apostila p. 8	09/10 2020 6ª feira	<u>Português</u> : livro pg. 114 <u>Matemática</u> : Livro p. 77 <u>Emai</u> : pg 49 (tabela) <u>Arte</u> : apostila pg. 9
29/09 2020 3ª feira	<u>Português</u> : Livro pg. 101 <u>Matemática</u> : Livro p. 69 <u>Emai</u> : pg 41 (pontos de referência)	13/10 2020 3ª feira	<u>Português</u> : livro pg. 115 <u>Matemática</u> : Livro pg. 79 <u>Emai</u> : pg. 50 (gráfico) <u>Geografia</u> : livro didático pg. 73, 74 e 75
30/09 2020 4ª feira	<u>Português</u> : Livro pg. 102 <u>Matemática</u> : Livro p. 70 <u>Emai</u> : pg.42 (percurso) <u>Ciências</u> : livro didático pg. 50 e 51	14/10 2020 4ª feira	<u>Português</u> : livro p. 116 <u>Matemática</u> : Livro p. 80 <u>Emai</u> : pg 51 (tabela de adições) <u>Ciências</u> : livro didático pg.56 e 57
01/10 2020 5ª feira	<u>Português</u> : Livro pg. 103 <u>Matemática</u> : Livro pg. 71 <u>Emai</u> : pg 43 (Estimativa - dado) <u>História</u> : livro didático pg. 38, 39 e 40 (Leitura)	15/10 2020 5ª feira	<u>Português</u> : livro pg. 117 <u>Matemática</u> : 81 <u>Emai</u> : pg 52 (estimativa) <u>História</u> : livro didático pg. 44 e 45
02/10 2020 6ª feira	<u>Português</u> : Livro p. 104 <u>Matemática</u> : Livro p. 72 <u>Emai</u> : pg 44 (medidas de tempo) <u>Arte</u> : apostila pg. 6 e 7	16/10 2020 6ª feira	<u>Português</u> : livro p.118 e 119 <u>Matemática</u> : Livro pg. 82 e 83 <u>Emai</u> : pg. 53 (estimativa) <u>Arte</u> : apostila pg. 10
05/10 2020 2ª feira	<u>Português</u> : Livro pg. 105 <u>Matemática</u> : Livro p. 73 <u>Emai</u> : pg 45 (calendário) <u>Geografia</u> : livro didático pg. 70, 71 e 72		

### **3. Língua portuguesa**

#### **O GALO SEM VOZ**

CERTA MANHÃ, O GALO GRINELI ACORDOU CEDO E FOI PARA O ALTO DA CERCA PARA ACORDAR OS OUTROS ANIMAIS, MAS QUANDO ABRIU O BICO, NÃO SAIU SOM ALGUM! ELE ESTAVA SEM VOZ! COMO FARIA PARA ACORDAR A TODOS? NAQUELE DIA, O FAZENDEIRO PERDEU A HORA E FICOU MUITO BRAVO.

PARA AJUDAR O GALO, OS ANIMAIS FIZERAM UM ACORDO: NO DIA SEGUINTE ELES ACORDARIAM O FAZENDEIRO. E ASSIM FOI! QUANDO O GALO ACORDOU, CUTUCOU O PORCO, QUE GRUNHIU PARA O CAVALO, QUE RELINCHOU PARA O CACHORRO, QUE LATIU ATÉ O FAZENDEIRO ACORDAR BEM A TEMPO. O PLANO FUNCIONOU!

1. O TÍTULO DO TEXTO É:

- ( ) O GALO FALANTE.
- ( ) O GALO ORGULHOSO
- ( ) O GALO SEM VOZ
- ( ) O GALO SEM PENAS

2. PARA ONDE GRINELI FOI CERTA MANHÃ?

- ( ) PARA O ALTO DA CERCA PARA FICAR MAIS ALTO.
- ( ) PARA O ALTO DA CERCA PARA ACORDAR OS OUTROS ANIMAIS.
- ( ) PARA O SÍTIO VIZINHO, CISCAR EM OUTRAS BANDAS.
- ( ) PARA O POLEIRO DA GALINHA AMADA.

3. POR QUE O FAZENDEIRO FICOU MUITO BRAVO?

- ( ) PORQUE O GALO CANTOU MUITO ALTO E LHE ACORDOU.
- ( ) PORQUE O GALO CANTOU UMA MÚSICA DIFERENTE.
- ( ) PORQUE O GALO ESTAVA SEM VOZ E ELE NÃO OUVIU, PERDENDO HORA.
- ( ) PORQUE ELE NÃO GOSTAVA QUE O GALO CANTASSE.

4. PARA AJUDAR GRINELI, O QUE OS ANIMAIS FIZERAM?

- ( ) VIRARAM AS COSTAS PARA O AMIGO.
- ( ) FIZERAM UM ACORDO PARA AJUDÁ-LO.
- ( ) FIZERAM UMA FESTA PARA COMEMORAR.

5. COMO FOI O PLANO DOS ANIMAIS PARA ACORDAR O FAZENDEIRO?

- ( ) CADA UM FOI PARA UM CANTO DA FAZENDA FAZER BARULHO.
- ( ) ELES SE UNIRAM, CADA UM ACORDAVA O OUTRO COM SEUS RUÍDOS ATÉ O FAZENDEIRO ACORDAR.

( ) O CACHORRO IA DENTRO DO QUARTO LAMBER O ROSTO DO FAZENDEIRO PARA ELE ACORDAR.

## **2. Matemática**

### SITUAÇÕES PROBLEMA

1. LUCAS E JOÃO PEDRO ESTAVAM JOGANDO BOLINHAS DE GUDE, AO INICIAR O JOGO OS DOIS TINHAM A MESMA QUANTIDADE, MAS AO TÉRMINO DAS JOGADAS LUCAS FICOU COM 47 BOLINHAS E JOÃO PEDRO COM 53 BOLINHAS. QUEM FOI O GANHADOR E QUANTAS BOLINHAS A MAIS ELE GANHOU?

- ( ) LUCAS - 3 BOLINHAS.
- ( ) JOÃO PEDRO 6 BOLINHAS.
- ( ) LUCAS - 47 BOLINHAS.
- ( ) JOÃO PEDRO - 53 BOLINHAS.

2. EM UMA GINCANA DE DUPLAS, FERNANDA E RAÍSSA TINHAM 126 PONTOS. PERDERAM 19 PONTOS, COM QUANTOS PONTOS ELAS TERMINARAM A GINCANA?

- ( ) 145 PONTOS.
- ( ) 113 PONTOS.
- ( ) 117 PONTOS.
- ( ) 107 PONTOS.

3. ANA SOPHIA TINHA 136 REAIS E GANHOU SE SUA MÃE MAYARA UMA NOTA DE 50 REAIS. COM QUANTO DE DINHEIRO ANA SOPHIA FICOU?

- ( ) R\$ 186,00
- ( ) R\$ 120,00
- ( ) R\$ 126,00
- ( ) R\$ 176,00

4. O RESULTADO DA OPERAÇÃO  $249 - 133$  É:

- ( ) 16
- ( ) 382
- ( ) 116
- ( ) 372

5. O RESULTADO DA OPERAÇÃO  $136 + 49$  É:

- ( ) 175
- ( ) 185
- ( ) 179
- ( ) 189

### **3. Ciências**

Saúde bucal: Mesmo antes de os dentes nascerem é importante limpar muito bem a gengiva com gazes ou fralda, após nascimento dos dentes estes devem ser escovados toda vez que ingerimos qualquer alimento.

Algumas maneiras para garantir a higiene bucal: escovar os dentes corretamente, antes de dormir, após as refeições, sempre que ingerir algum alimento.

1. Qual o principal assunto da história?

---

---

2. Você já teve alguma dor de dente?

---

---

3. Você visita o dentista com qual frequência?

---

---

4. Quantas vezes ao dia você escova seus dentes?

---

---

### **4. Arte**

Desenhe na página 7, no retângulo, no modo paisagem, isto é, a folha deitada, seguindo as regras e dicas. Atenção: siga corretamente. Após desenhar pinte lindamente:

Dicas: 1. Divida o retângulo abaixo ao meio;

2. A direita desenhe uma casinha;

4. Ao lado esquerdo da casa, desenhe uma linda árvore;

5. Ao fundo da casa, desenhe montanhas para expressar a natureza com um lindo sol acima;

6. Do lado direito da casa, faça uma linda cerca com flores;

7. Abaixo faça um caminho até a entrada da casa;

8. Ao lado esquerdo do retângulo desenhe um círculo ao centro;


9. Acima do círculo, desenhe um triângulo;

10. Abaixo do círculo desenhe dois retângulos;

11. Abaixo dos retângulos desenhe dois quadrados;

12. Desenhe vários círculos de um lado até chegar do outro lado;

Desenhe aqui a atividade de arte



## 5. História

### A origem do Dia das Crianças

SOUSA, Rainer. *A Origem do Dia das Crianças. Brasil Escola*. Disponível em: <http://www.brasilescola.com/dia-das-criancas/a-origem-dia-das-criancas.htm>. Acesso: 02 out. 2013.

O dia das crianças é uma data comemorada em diferentes países.

Em 1923, a cidade do Rio de Janeiro, então capital do Brasil, sediou o 3º Congresso Sul-Americano da Criança. No ano seguinte, aproveitando a recente realização do evento, o deputado federal Galdino do Valle Filho elaborou o projeto de lei que estabelecia essa nova data comemorativa. No dia 5 de novembro de 1924, o decreto nº 4867, instituiu 12 de outubro como data oficial para comemoração do Dia das Crianças.

Mas somente em 1955 a data começou a ser celebrada a partir de uma campanha de marketing elaborada por uma indústria de brinquedos chamada Estrela.

Responda:

1. Qual é o dia em que se comemora o Dia das Crianças no Brasil? \_\_\_\_\_

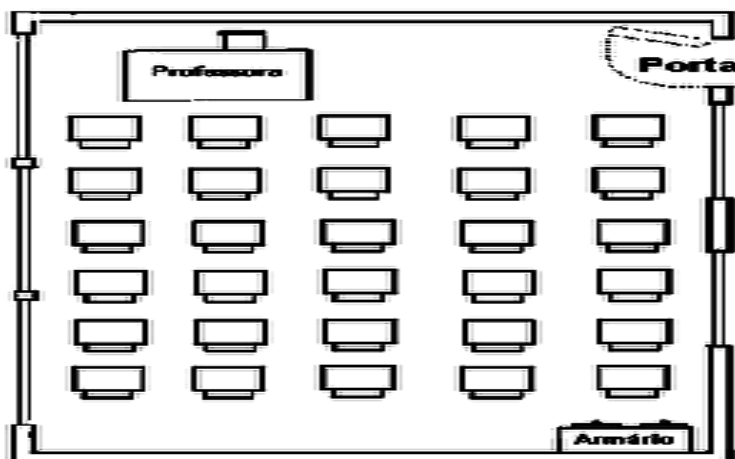
2. No texto traz uma informação recente ou antiga? Como você descobriu isso?

---

---

---

## 6. Geografia



Observando o desenho ao lado, descreva o percurso que devo fazer para me sentar onde está o X.

---

---

---

---