



2º Ano – Raquel Sueli Soeiro Camargo

24 DE AGOSTO DE 2020


SEGUNDA-FEIRA

RESPONDAM NO , NÃO HÁ NECESSIDADE DE COPIAREM A PERGUNTA!



1) DIA DO DITADO DE NÚMERO. (ÁUDIO NO GRUPO)

SITUAÇÃO PROBLEMA/INTERPRETAÇÃO DE TABELA
RESOLVAM ATRAVÉS DO DESENHO



2) HOJE NO PERÍODO DA MANHÃ, COMPARECERAM EM NOSSA ESCOLA 22 MENINOS E 13 MENINAS. QUANTOS ALUNOS VIERAM PARA A ESCOLA HOJE?

CIME "PROFESSORA JACYRA RIBEIRO GUILARDI"
RODOVIA MUNICIPAL 379
BAIRRO BOA VEREDA – AMPARO – SP
FONE (FAX) – 19 – 3807-9793



TERMINANDO A ATIVIDADE, TIRE UMA
E
ENVIE PARA A PROFESSORA ANALISAR!



2º Ano – Raquel Sueli Soeiro Camargo

EMAI 9.4

HOJE VAMOS PREENCHER O QUADRO NUMÉRICO

CONVERSA INICIAL

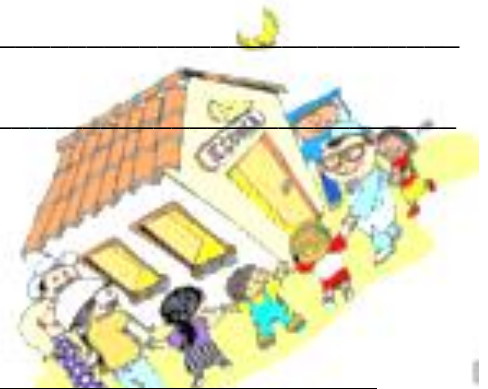
1. RESPONDAM NO CADERNO:

A) QUEM É MAIOR: 74 OU 47? _____

B) QUEM É MAIOR? 156 OU 561? _____

C) 190 É MAIOR QUE 170? _____

D) 190 É MENOR QUE 185? _____



AGORA É A SUA VEZ...

VAMOS RESOLVER A ATIVIDADE 9.4 DA PÁGINA 58, DO LIVRO EMAI & LER E ESCREVER - ENSINO FUNDAMENTAL, VOLUME 1 - 2º ANO.

VAMOS LÁ...

TERMINANDO A ATIVIDADE, TIRE UMA
E
ENVIE PARA A PROFESSORA ANALISAR!





2º Ano – Raquel Sueli Soeiro Camargo

25 DE AGOSTO DE 2020

TERÇA-FEIRA

RESPONDAM NO , NÃO HÁ NECESSIDADE DE COPIAREM A PERGUNTA!

1) ORGANIZAR OS NÚMEROS NA ORDEM CRESCENTE.

603	633	645	606	631	600	611	648	620	609

- GRAVE UM ÁUDIO DA LEITURA DESSES NÚMEROS E ENVIE PARA A PROFESSORA NO GRUPO.

SITUAÇÃO PROBLEMA

RESOLVAM ATRAVÉS DO DESENHO

- 1) LUCIANO TINHA 21 BOLINHAS. RENATO TINHA 6 BOLINHAS A MENOS QUE LUCIANO. QUANTAS BOLINHAS TÊM RENATO?

TERMINANDO A ATIVIDADE, TIRE UMA
E
ENVIE PARA A PROFESSORA ANALISAR!





2º Ano – Raquel Sueli Soeiro Camargo

EMAI 10.1

HOJE IREMOS CONVERSAR SOBRE COLEÇÕES:

1) ALGUÉM TEM COLEÇÕES? DE QUE OU QUAIS?

2) VOCÊS REALIZAM TROCAS DOS OBJETOS OU PEÇAS DE SUAS COLEÇÕES?

3) VOCÊS JÁ CONTARAM COLEÇÕES DE TAMPINHAS E DE OUTROS OBJETOS.

4) E SE JUNTARMOS DUAS COLEÇÕES COMO PODEMOS SABER QUANTAS TAMPINHAS EXISTIRÃO?

5) LEIA O ENUNCIADO DO LIVRO EMAI & LER E ESCREVER - ENSINO FUNDAMENTAL VOLUME 1 – 2º ANO DA PÁGINA 60 E RESPONDA:

A. QUAIS SÃO OS DADOS DO PROBLEMA?

B. QUAL A QUESTÃO A SER RESOLVIDA , OU SEJA, QUAL A PERGUNTA A SER RESPONDIDA?



2º Ano – Raquel Sueli Soeiro Camargo

AGORA É A SUA VEZ....

VAMOS RESOLVER A ATIVIDADE 10.1 DA PÁGINA 60, DO LIVRO EMAI & LER E ESCREVER - ENSINO FUNDAMENTAL, VOLUME 1 - 2º ANO.

VAMOS LÁ....



CIME "PROFESSORA JACYRA RIBEIRO GUILARDI"
RODOVIA MUNICIPAL 379
BAIRRO BOA VEREDA – AMPARO – SP
FONE (FAX) – 19 – 3807-9793

TERMINANDO A ATIVIDADE, TIRE UMA
E
ENVIE PARA A PROFESSORA ANALISAR!





2º Ano – Raquel Sueli Soeiro Camargo


26 DE AGOSTO DE 2020

QUARTA-FEIRA

RESPONDAM NO , NÃO HÁ NECESSIDADE DE COPIAREM A PERGUNTA!

1) ORGANIZAR OS NÚMEROS NA ORDEM DECRESCENTE.

650	613	603	634	622	612	644	621	606	616



SITUAÇÃO PROBLEMA
RESOLVAM ATRAVÉS DO DESENHO

2) O CACHORRINHO DE MELISSA TINHA 3 ANOS. DAQUI HÁ 6 ANOS, QUAL SERÁ A IDADE DESSE ANIMALZINHO?

TERMINANDO A ATIVIDADE, TIRE UMA
E
ENVIE PARA A PROFESSORA ANALISAR!





2º Ano – Raquel Sueli Soeiro Camargo

EMAI 10.2

CONVERSA INICIAL

1. QUE DIA É HOJE?

2. VOCÊ CONHECE ALGUÉM QUE FAÇA ANIVERSÁRIO HOJE?

3. VOCÊ CONHECE ALGUÉM QUE NASCEU NO MESMO DIA QUE VOCÊ E QUE NÃO TEM A MESMA IDADE QUE VOCÊ?

4. O QUE ACONTECE PRA QUE ISSO OCORRA?



AGORA É A SUA VEZ....

VAMOS RESOLVER AS ATIVIDADES 10.2 DA PÁGINA 61, DO LIVRO EMAI & LER E ESCREVER - ENSINO FUNDAMENTAL, VOLUME 1 - 2ºANO.
VAMOS LÁ....

TERMINANDO A ATIVIDADE, TIRE UMA
E
ENVIE PARA A PROFESSORA ANALISAR!





2º Ano – Raquel Sueli Soeiro Camargo

27 DE AGOSTO DE 2020

QUINTA-FEIRA

RESPONDAM NO , NÃO HÁ NECESSIDADE DE COPIAREM A PERGUNTA!

350	351	352	353	354	355	356	357	358	359
360	361	362	363	364	365	366	367	368	369
370	371	372	373	374	375	376	377	378	379
380	381	382	383	384	385	386	387	388	389
390	391	392	393	394	395	396	397	398	399

OBSERVE O QUADRO NUMÉRICO PARA PODER RESPONDER AS QUESTÕES ABAIXO:

1. QUAL O MAIOR NÚMERO DO QUADRO? _____
2. E O MENOR NÚMERO? PORQUE VOCÊ CONSIDERA ESSE NÚMERO SENDO O MENOR? _____
3. O QUE OS NÚMEROS DE TERCEIRA COLUNA TÊM DE PARECIDO? _____
4. O QUE HÁ DE PARECIDO ENTRE OS NÚMEROS DA PRIMEIRA LINHA? _____
5. QUAIS SÃO OS NÚMEROS DE TRÊS ALGARISMOS QUE TERMINAM COM 9? _____
6. QUAIS NÚMEROS SÃO OS SUCESSORES (VEM DEPOIS) DOS NÚMEROS TERMINADOS COM 9? _____
7. O QUE ELES TÊM DE SEMELHANTE? _____



2º Ano – Raquel Sueli Soeiro Camargo

SITUAÇÃO PROBLEMA

RESOLVAM ATRAVÉS DO DESENHO

NO INÍCIO DA PARTIDA RENATO TINHA 15 BOLINHAS DE GUDE, NO DECORRER DO JOGO ELE PERDEU ALGUMAS BOLINHAS, FICANDO COM APENAS 11. QUANTAS BOLINHAS RENATO PERDEU?



CIME "PROFESSORA JACYRA RIBEIRO GUILARDI"
RODOVIA MUNICIPAL 379
BAIRRO BOA VEREDA – AMPARO – SP
FONE (FAX) – 19 – 3807-9793

TERMINANDO A ATIVIDADE, TIRE UMA
E
ENVIE PARA A PROFESSORA ANALISAR!





2º Ano – Raquel Sueli Soeiro Camargo

RESPONDAM NO , NÃO HÁ NECESSIDADE DE COPIAREM A PERGUNTA!

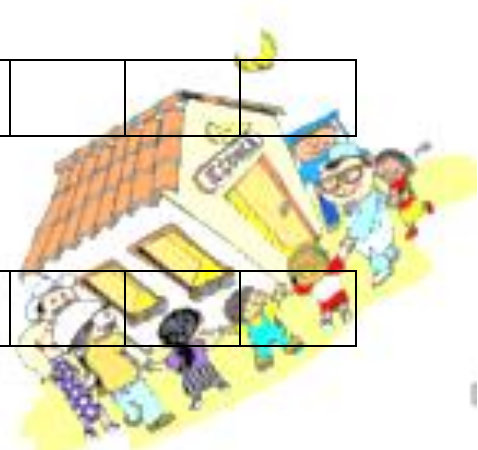
28 DE AGOSTO DE 2020

SEXTA-FEIRA

1) ESCREVA OS NÚMEROS QUE FALTAM EM CADA SEQUÊNCIA DE ACORDO COM A REGRA INDICADA:

210		230			260				
-----	--	-----	--	--	-----	--	--	--	--

300		340							
-----	--	-----	--	--	--	--	--	--	--



SITUAÇÃO PROBLEMA

RESOLVAM ATRAVÉS DO DESENHO

2) NO TERCEIRO ANO ESTUDAM 28 ALUNOS, 15 SÃO MENINOS. QUANTAS SÃO AS MENINAS?

TERMINANDO A ATIVIDADE, TIRE UMA
E
ENVIE PARA A PROFESSORA ANALISAR!





2º Ano – Raquel Sueli Soeiro Camargo

EMAI 10.3

HOJE VAMOS FALAR SOBRE ANIMAIS

1. VOCÊ TEM ALGUM ANIMAL EM CASA? QUAL? _____

2. QUAIS OS CUIDADOS QUE DEVEMOS TER COM OS ANIMAIS?

3. VOCÊ JÁ VISITOU UM AQUÁRIO? _____

4. VOCÊ TEM AQUÁRIO EM CASA?



AGORA É A SUA VEZ....

VAMOS RESOLVER A ATIVIDADE 10.3 DA PÁGINA 62, DO LIVRO EMAI & LER E ESCREVER - ENSINO FUNDAMENTAL, VOLUME 1 - 2º ANO.

VAMOS LÁ....

TERMINANDO A ATIVIDADE, TIRE UMA
E
ENVIE PARA A PROFESSORA ANALISAR!

