



2º Ano – Raquel Sueli Soeiro Camargo

RESPONDAM NO  NÃO HÁ NECESSIDADE DE COPIAREM A PERGUNTA!

10 DE AGOSTO DE 2020

SEGUNDA-FEIRA



1) DIA DO DITADO DE NÚMERO. (ÁUDIO NO GRUPO)

CONTAGEM

QUESTÃO 4

CRISTIANE FOI VISITAR SUA FILHA E MOSTROU A ELA SUA COLEÇÃO DE SELOS.



Fonte: Adaptado de <<https://pixabay.com/pt/>> Acesso em: 09 dez.2019.


QUANTOS SELOS TEM A COLEÇÃO DE CRISTIANE?

- A) 24
- B) 20
- C) 16
- D) 15

4

Avaliação da Aprendizagem em Processo - 1º Bimestre de 2020 - Prova do Aluno - 2º ano do Ensino Fundamental

TERMINANDO A ATIVIDADE, TIRE UMA
E
ENVIE PARA A PROFESSORA ANALISAR!





2º Ano – Raquel Sueli Soeiro Camargo

RESPONDAM NO  **NÃO HÁ NECESSIDADE DE COPIAREM A PERGUNTA!**

EMAI 7.5 (ADAPTADA)


- QUEM JÁ UTILIZOU UMA CALCULADORA? _____
- O QUE PODEMOS FAZER COM UMA CALCULADORA? _____

- QUANTAS TECLAS EXISTEM NA CALCULADORA? _____
- O QUE SÃO AS TECLAS COM OS SINAIS $+$, $-$, \times e $:$? _____

- QUAL A TECLA QUE APAGA O QUE ESTÁ NO VISOR? É A MESMA QUE DESLIGA A MÁQUINA? _____

I. OBSERVE AS ILUSTRAÇÕES ABAIXO.

A. EM CADA VISOR DE CALCULADORA, APARECE UM NÚMERO QUE FOI DIGITADO. LEIA, EM VOZ ALTA, CADA UM ELES.



B. QUAL O MAIOR NÚMERO QUE APARECEU NESSES VISORES? _____

C. E QUAL O MENOR? _____





2º Ano – Raquel Sueli Soeiro Camargo


RESPONDAM NO , NÃO HÁ NECESSIDADE DE COPIAREM A PERGUNTA!

11 DE AGOSTO DE 2020

TERÇA-FEIRA

1) ORGANIZAR OS NÚMEROS NA ORDEM CRESCENTE.

509	543	521	518	536	515	520	537	540	544



SITUAÇÃO PROBLEMA
RESOLVAM ATRAVÉS DO DESENHO

2) CLÁUDIO FEZ UM ALMOÇO DE PÁSCOA E CONVIDOU 31 AMIGOS. NA FESTA FALTARAM 10 AMIGOS. QUANTOS AMIGOS COMPARECERAM?



2º Ano – Raquel Sueli Soeiro Camargo

RESPONDAM NO  **NÃO HÁ NECESSIDADE DE COPIAREM A PERGUNTA!**

EMAI 8.1

HOJE IREMOS RELEMBRAR PERCURSOS REALIZADOS NO ESPAÇO DA ESCOLA

- VOCÊS LEMBRAM SITUAÇÕES EM QUE VOCÊS PASSARAM POR ALGUM LUGAR, PARA CHEGAREM EM OUTRO LUGAR? _____

- O QUE SÃO PONTOS DE REFERÊNCIA?

- QUAIS PONTOS DE REFERÊNCIA TÍNHAMOS QUANDO SAÍAMOS DA SALA E ÍAMOS ATÉ A QUADRA?

- O QUE É IMPORTANTE CITAR PARA QUE A PESSOA NÃO ERRE O CAMINHO?

- QUEM LEMBRA QUAIS SÃO OS PONTOS DE REFERÊNCIA DA ESCOLA?

REFERÊNCIAS QUE PODEMOS UTILIZAR:

-IR EM FRENTE ATÉ O FINAL DO
CORREDOR;

-VIRAR À DIREITA;

-VIRAR À ESQUERDA;

-CAMINHAR ATÉ...;



2º Ano – Raquel Sueli Soeiro Camargo

SEQUÊNCIA 8 PERCURSOS E JARDIM

ATIVIDADE 8.1



ESCOLHA UM LUGAR DA ESCOLA EM QUE VOCÊ COSTUMAVA IR COM FREQUÊNCIA.
ESCREVA UM PEQUENO TEXTO DESCREVENDO O ITINERÁRIO QUE VOCÊ FAZIA
SAINDO DE SUA CLASSE ATÉ CHEGAR A ESSE LUGAR.

AGORA, FAÇA UM DESENHO DO PERCURSO:





2º Ano – Raquel Sueli Soeiro Camargo

RESPONDAM NO , NÃO HÁ NECESSIDADE DE COPIAREM A PERGUNTA!

12 DE AGOSTO DE 2020

QUARTA-FEIRA

1) ORGANIZAR OS NÚMEROS NA ORDEM DECRESCENTE.

507	543	521	530	515	540	522	539	512	536

SITUAÇÃO PROBLEMA
RESOLVAM ATRAVÉS DO DESENHO

2) NA GINCANA DO CLUBE MORUNGABA, A EQUIPE VERDE TEM 32 JOGADORES E A EQUIPE AZUL, 26 JOGADORES.



- QUANTOS JOGADORES FALTAM PARA QUE A EQUIPE AZUL TENHA A MESMA QUANTIDADE DE JOGADORES DA EQUIPE VERDE?





2º Ano – Raquel Sueli Soeiro Camargo

RESPONDAM NO , NÃO HÁ NECESSIDADE DE COPIAREM A PERGUNTA!

EMAI 8.2

HOJE IREMOS TRABALHAR INSTRUÇÕES PARA SE DESLOCAR NO ESPAÇO

- DE QUAIS BRINCADEIRAS VOCÊS MAIS GOSTAM?

- VOCÊS CONHECEM ALGUMA BRINCADEIRA QUE SEUS PAIS OU AVÓS COMENTAM QUE TAMBÉM BRINCAVAM?

- QUAIS SÃO ELAS?

- VOCÊS JÁ OUVIRAM FALAR NA BRINCADEIRA DO “RABO DO BURRO”?

- SABE EXPLICAR COMO É ESSA BRINCADEIRA?



INSTRUÇÕES VERBAIS PARA AJUDAR MARIANA:

- MAIS PARA CIMA;
- MAIS PARA BAIXO;
- À DIREITA;
- À ESQUERDA;
- ANDE ALGUNS 3 PASSOS PARA A FRENTE;
- DÊ MEIA-VOLTA.....



2º Ano – Raquel Sueli Soeiro Camargo

ATIVIDADE 8.2

OBSERVE A ILUSTRAÇÃO ABAIXO:



NA SALA DE DONA ESTELA, AS CRIANÇAS ESTÃO BRINCANDO DE COLOCAR O RABO NO BURRO. MARIANA ESTÁ COM OS OLHOS VENDADOS E LUANA ESTÁ LOGO ATRÁS DELA. QUE TIPO DE INSTRUÇÕES LUANA DEVE DAR PARA AJUDAR MARIANA A COLOCAR O RABO NO BURRO?

EMAI – EDUCAÇÃO MATEMÁTICA NOS INÍCIOS DO ENSINO FUNDAMENTAL – 2 ANO – VOL.1. GOVERNO DO ESTADO DE SÃO PAULO.

CIME "PROFESSORA JACYRA RIBEIRO GUILARDI"
RODOVIA MUNICIPAL 379
BAIRRO BOA VEREDA – AMPARO – SP
FONE (FAX) – 19 – 3807-9793

- SE QUIZER FAÇA ESSA BRINCADEIRA EM CASA COM SUA FAMÍLIA!

TERMINANDO A ATIVIDADE, TIRE UMA
E
ENVIE PARA A PROFESSORA ANALISAR!





2º Ano – Raquel Sueli Soeiro Camargo

RESPONDAM NO , NÃO HÁ NECESSIDADE DE COPIAREM A PERGUNTA!

13 DE AGOSTO DE 2020

QUINTA-FEIRA

250	251	252	253	254	255	256	257	258	259
260	261	262	263	264	265	266	267	268	269
270	271	272	273	274	275	276	277	278	279
280	281	282	283	284	285	286	287	288	289
290	291	294	293	294	295	296	297	298	299

OBSERVE O QUADRO NUMÉRICO PARA PODER RESPONDER AS QUESTÕES ABAIXO:

1. QUAL O MAIOR NÚMERO DO QUADRO? _____
2. E O MENOR NÚMERO? PORQUE VOCÊ CONSIDERA ESSE NÚMERO SENDO O MENOR? _____
3. O QUE OS NÚMEROS DE TERCEIRA COLUNA TÊM DE PARECIDO? _____
4. O QUE HÁ DE PARECIDO ENTRE OS NÚMEROS DA PRIMEIRA LINHA? _____
5. QUAIS SÃO OS NÚMEROS DE TRÊS ALGARISMOS QUE TERMINAM COM 9? _____
6. QUAIS NÚMEROS SÃO OS SUCESSORES (VEM DEPOIS) DOS NÚMEROS TERMINADOS COM 9? _____
7. O QUE ELES TÊM DE SEMELHANTE? _____



2º Ano – Raquel Sueli Soeiro Camargo

SITUAÇÃO PROBLEMA

RESOLVAM ATRAVÉS DO DESENHO

AMANDA TINHA 37 CANETINHAS COLORIDAS. ELA JOGOU 12 CANETINHAS NO LIXO, POIS NÃO FUNCIONAVAM MAIS. QUANTAS CANETINHAS ELA TEM AGORA?



CIME "PROFESSORA JACYRA RIBEIRO GUILARDI"
RODOVIA MUNICIPAL 379
BAIRRO BOA VEREDA – AMPARO – SP
FONE (FAX) – 19 – 3807-9793

TERMINANDO A ATIVIDADE, TIRE UMA
E
ENVIE PARA A PROFESSORA ANALISAR!





2º Ano – Raquel Sueli Soeiro Camargo

RESPONDAM NO , NÃO HÁ NECESSIDADE DE COPIAREM A PERGUNTA!

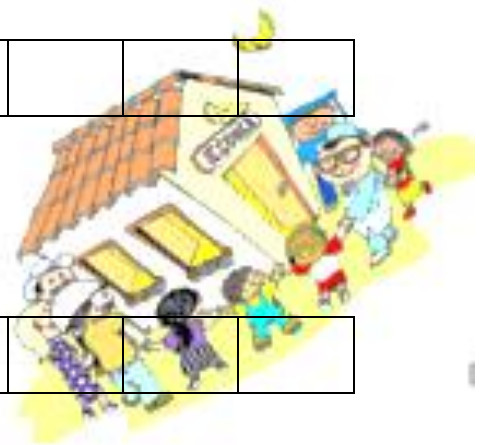
14 DE AGOSTO DE 2020

SEXTA-FEIRA

1) ESCREVA OS NÚMEROS QUE FALTAM EM CADA SEQUÊNCIA DE ACORDO COM A REGRA INDICADA:

100		104			110				
-----	--	-----	--	--	-----	--	--	--	--

200		220				260			
-----	--	-----	--	--	--	-----	--	--	--



CIME "PROFESSORA JACYRA RIBEIRO GUILARDI"
RODOVIA MUNICIPAL 379
BAIRRO BOA VEREDA – AMPARO – SP
FONE (FAX) – 19 – 3807-9793

**SITUAÇÃO PROBLEMA
RESOLVAM ATRAVÉS DO DESENHO**

2) LETÍCIA E VIVIANE ESTAVAM BRINCANDO DE ESCOLINHA, QUANDO PARARAM DE BRINCAR LETÍCIA E VIVIANE CONFERIRAM OS SEUS LÁPIS DE COR. LETÍCIA TINHA 20 LÁPIS E VIVIANE TINHA 15. QUANTOS LÁPIS VIVIANE TÊM A MENOS QUE LETÍCIA?




2º Ano – Raquel Sueli Soeiro Camargo

RESPONDAM NO , NÃO HÁ NECESSIDADE DE COPIAREM A PERGUNTA!

EMAI 8.3

HOJE VAMOS FALAR SOBRE FOTOGRAFIAS

- QUEM GOSTA DE FOTOGRAFAR? _____
- QUEM GOSTA DE SER FOTOGRAFADO? _____
- ALGUÉM TEM ÁLBUM DE FOTOGRAFIAS? _____
- QUEM ARMAZENA FOTOGRAFIAS EM ARQUIVO NO COMPUTADOR OU EM OUTRO APARELHO? _____
- OBSERVE E REFLITA SOBRE AS QUESTÕES ABAIXO:



- O AVIÃO ESTÁ ACIMA OU ABAIXO DA BOLA?
- O RELÓGIO ESTÁ À ESQUERDA OU À DIREITA DO CARRO?
- COMO VOCÊ FARIA A INDICAÇÃO DA POSIÇÃO DO RÁDIO?



2º Ano – Raquel Sueli Soeiro Camargo

ATIVIDADE 8.3

VEJA A ILUSTRAÇÃO QUE MOSTRA A PAREDE DO QUARTO DE JOSÉ ROBERTO.



OLHANDO PARA ESSA PAREDE, DESCREVA A POSIÇÃO:

- A. DA FOTO DOS PAIS DE JOSÉ ROBERTO _____
- B. DO QUADRO COM O TIME DE JOSÉ ROBERTO _____
- C. DA FOTOGRAFIA DE JOSÉ ROBERTO _____
- D. DO QUADRO COM O BARQUINHO _____
- E. DA FOTO DA IRMÃ DE JOSÉ ROBERTO _____
- F. DO QUADRO COM A CAMISA _____

