



1º Ano Professora Letícia Carradori Boyago

## ATIVIDADES - 24/08/2020



### EXPLICAÇÃO ATRAVÉS DE ÁUDIO

ORGANIZE OS NÚMEROS ABAIXO EM ORDEM CRESCENTE.

91	94	96	92	90	95	98	99	97	93



SITUAÇÃO PROBLEMA - RESOLVA ATRAVÉS DO DESENHO.  
PAULO DESENHOU A SEQUÊNCIA GEOMÉTRICA A SEGUIR.  
MAS ELE DESENHOU UMA FIGURA QUE NÃO DEVERIA ESTAR  
AÍ. QUE FIGURA É ESSA?



TERMINANDO A ATIVIDADE, TIRE UMA



E ENVIE PARA A PROFESSORA

ANALISAR!



1º Ano Professora Letícia Carradori Boyago  
**EMAI - SEQUÊNCIA 8, ATIVIDADE 8.3**

**CONVERSA INICIAL**

LIVRO - EMAI E LER E ESCREVER, PÁGINA 44.

- OBSERVE O QUADRO NUMÉRICO E REALIZE O EXERCÍCIO NÚMERO 1.
- AGORA RESPONDA AOS QUESTIONAMENTOS ABAIXO:

A. QUAL É O ALGARISMO FINAL DOS NÚMEROS QUE SE ENCONTRAM NA TIRA COLORIDA QUE COMEÇA COM 13?

\_\_\_\_\_

B. COMO TERMINAM OS NÚMEROS ESCRITOS NA TIRA DE COR AMARELA?

\_\_\_\_\_

C. QUAIS SÃO OS NÚMEROS ESCRITOS NA TIRA DE COR VERDE?

\_\_\_\_\_

D. O QUE PODEMOS OBSERVAR NESSA TIRA?

\_\_\_\_\_



- RESOLVA O EXERCÍCIO 2.



• EXERCÍCIO 3 - DITADO DE NÚMEROS (A PROFESSORA ENVIARÁ OS NÚMEROS ATRAVÉS DE ÁUDIO).

TERMINANDO A ATIVIDADE, TIRE UMA



E ENVIE PARA A PROFESSORA  
ANALISAR!





1º Ano Professora Letícia Carradori Boyago

## ATIVIDADES - 25/08/2020

ORGANIZE OS NÚMEROS ABAIXO EM ORDEM DECRESCENTE.

91	94	96	98	92	99	97	95	90	93



### SITUAÇÃO PROBLEMA (RESOLVER ATRAVÉS DO DESENHO)

IARA IRÁ FAZER UM COLAR COM PÉROLAS COLORIDAS. ENTÃO, SEPAROU 13 PÉROLAS BRANCAS E 12 VERDES. QUAL O TOTAL DE PÉROLAS QUE IARA UTILIZARÁ?

TERMINANDO A ATIVIDADE, TIRE UMA



ANALISAR!

E ENVIE PARA A PROFESSORA



1º Ano Professora Letícia Carradori Boyago

## EMAI - SEQUÊNCIA 8, ATIVIDADE 8.4

### CONVERSA INICIAL

LIVRO - EMAI E LER E ESCREVER, PÁGINA 45.

- OBSERVE O QUADRO NUMÉRICO E REALIZE O EXERCÍCIO NÚMERO 1.

- AGORA RESPONDA AOS QUESTIONAMENTOS ABAIXO:

A. QUAL O ALGARISMO INICIAL DOS NÚMEROS QUE SE ENCONTRAM NA TIRA DE COR VERDE?

B. O QUE OS NÚMEROS QUE SE ENCONTRAM NA TIRA DE COR LARANJA TÊM EM COMUM?

C. QUAIS SÃO OS NÚMEROS ESCRITOS NA TIRA DE COR AZUL?

D. O QUE PODEMOS OBSERVAR NESTA TIRA?



- RESOLVA O EXERCÍCIO 2.



• EXERCÍCIO 3 - DITADO DE NÚMEROS (A PROFESSORA ENVIARÁ OS NÚMEROS ATRAVÉS DE ÁUDIO).

TERMINANDO A ATIVIDADE, TIRE UMA



E ENVIE PARA A PROFESSORA

ANALISAR!





1º Ano Professora Letícia Carradori Boyago

## ATIVIDADES - 26/08/2020

1. OBSERVE E COMPLETE A TABELA ABAIXO.

90									
----	--	--	--	--	--	--	--	--	--

A. O QUE OS NÚMEROS DESSA TABELA TÊM EM COMUM?

B. COM QUE NÚMERO ELA COMEÇA? \_\_\_\_\_

C. E COM QUAL ELA TERMINA? \_\_\_\_\_


D. QUE NÚMERO VEM DEPOIS DO 93? \_\_\_\_\_

E. E ANTES DO 97? \_\_\_\_\_

F. QUE NÚMERO ESTÁ ENTRE O 91 E O 93? \_\_\_\_\_

G. HÁ QUE FAMÍLIA ESSES NÚMEROS PERTENCEM? \_\_\_\_\_

H. A NOSSA TABELA TERMINA NO NÚMERO 99, SE ELA CONTINUASSE QUAL SERIA O PRÓXIMO NÚMERO? \_\_\_\_\_



### SITUAÇÃO PROBLEMA (RESOLVER ATRAVÉS DO DESENHO)

SACI VENDE GORROS NA FEIRA. HOJE LEVOU UM TOTAL DE 35 GORROS PARA VENDER. VENDEU ALGUNS E AINDA RESTAM 13. QUANTOS GORROS SACI JÁ VENDEU?






1º Ano Professora Letícia Carradori Boyago

## ATIVIDADES - 27/08/2020

COMPLETE A SEQUÊNCIA ABAIXO CONTANDO DE 5 EM 5 A PARTIR DO NÚMERO 5.

10				
----	--	--	--	--



SITUAÇÃO PROBLEMA (RESOLVER A TRAVÉS DO DESENHO).

O LOBISOMEM GETÚLIO COLECIONA OSSOS. EM SUA COLEÇÃO HÁ 28 OSSOS. SABENDO QUE SUA AMIGA CUCA LHE DARÁ MAIS 12, COM QUANTOS OSSOS A COLEÇÃO DE GETÚLIO IRÁ FICAR?



EMAI - SEQUÊNCIA 9, ATIVIDADE 9.2

CONVERSA INICIAL

QUESTIONAMENTOS:

A. VOCÊ SE LEMBRA O QUE É DIREITA E ESQUERDA?

---

B. COMO PODEMOS SABER QUANDO É À DIREITA OU ESQUERDA DE UM OBJETO?

---

AGORA RESPONDA:

LIVRO - EMAI E LER E ESCREVER, PÁGINA 47.

TERMINANDO A ATIVIDADE, TIRE UMA



ANALISAR!

E ENVIE PARA A PROFESSORA



1º Ano Professora Letícia Carradori Boyago

## ATIVIDADES - 28/08/2020



DITADO DE NÚMEROS (A PROFESSORA ENVIARÁ OS NÚMEROS ATRAVÉS DE ÁUDIO).



SITUAÇÃO PROBLEMA (RESOLVER ATRAVÉS DO DESENHO)

A CUCA RESOLVEU DAR UMA FESTA EM COMEMORAÇÃO AO FOLCLORE. ELA ENCOMENDOU 38 BRIGADEIROS DE MORCEGO. SABENDO QUE OS CONVIDADOS COMERAM 28, QUANTOS BRIGADEIROS RESTARAM?

TERMINANDO A ATIVIDADE, TIRE UMA



ANALISAR!

E ENVIE PARA A PROFESSORA



1º Ano Professora Letícia Carradori Boyago

## EMAI - SEQUÊNCIA 9, ATIVIDADE 9.3

### CONVERSA INICIAL

LIVRO - EMAI E LER E ESCREVER, PÁGINA 48.

HOJE VOCÊ IRÁ COMPLETAR ALGUMAS SEQUÊNCIAS NUMÉRICAS. TERÁ DE FAZER ISSO SEM AJUDA. DEPOIS DE COMPLETAR A ATIVIDADE RESPONDA AOS QUESTIONAMENTOS ABAIXO:

1. O QUE OS NÚMEROS DA SEQUÊNCIA **A** POSSUEM EM COMUM?

---

2. COM QUE NÚMERO SE INICIA A SEQUÊNCIA **B**?

---

3. E COM QUAL ELA TERMINA?

---

4. ESSES NÚMEROS FAZEM PARTE DA MESMA FAMÍLIA?

---

5. A QUE FAMÍLIAS PERTENCEM?

---

6. QUE NÚMERO VOCÊ COLOCOU ENTRE O 43 E O 45?

---

7. A SEQUÊNCIA **D** TERMINA NO NÚMERO 50, SE ELA CONTINUASSE QUAL SERIA O PRÓXIMO NÚMERO?

---

8. O QUE OS NÚMEROS DA SEQUÊNCIA **E** POSSUE EM COMUM?

---

9. A QUE FAMÍLIA ESSES NÚMEROS PERTENCEM?

---



TERMINANDO A ATIVIDADE, TIRE UMA



E ENVIE PARA A PROFESSORA

ANALISAR!