



1º Ano – Professora Letícia Carradori Boyago

10 DE AGOSTO DE 2020


REGISTRE AS RESPOSTAS EM SEU




EXPLICAÇÃO ATRAVÉS DE ÁUDIO

ORGANIZE OS NÚMEROS ABAIXO EM ORDEM CRESCENTE.

73	70	74	78	75	71	77	79	76	72
----	----	----	----	----	----	----	----	----	----



SITUAÇÃO PROBLEMA - RESOLVA ATRAVÉS DO DESENHO.
NÃO TENHO LADOS. AS VEZES ME DESENHAM PARA
REPRESENTAR O SOL. QUEM EU SOU?



EMAI - SEQUÊNCIA 7, ATIVIDADE 7.3



OS QUESTIONAMENTOS SERÃO ENVIADOS ATRAVÉS DE ÁUDIO.

ATIVIDADE 7.3

GERALMENTE, COLAMOS AS FIGURINHAS EM ÁLBUNS.
VOCÊ CONHECE, OU JÁ TEVE UM ÁLBUM DE FIGURINHAS?
IMAGINE AS SEGUINTE SITUÇÕES:

EM UMA PÁGINA DO NOSSO ÁLBUM, CABEM 6 FIGURINHAS E COLAMOS APENAS 4. QUANTAS FIGURINHAS ESTÃO FALTANDO PARA COMPLETAR ESSA PÁGINA?	DE QUANTAS FIGURINHAS PRECISAMOS PARA COMPLETAR 2 PÁGINAS DE UM ÁLBUM EM QUE CABEM 8 FIGURINHAS POR PÁGINA?





1º Ano – Professora Letícia Carradori Boyago

11 DE AGOSTO DE 2020

REGISTRE AS RESPOSTAS EM SEU 

ORGANIZE OS NÚMEROS ABAIXO EM ORDEM DECRESCENTE.

75	72	78	76	70	73	77	79	74	71
----	----	----	----	----	----	----	----	----	----



SITUAÇÃO PROBLEMA (RESOLVER ATRAVÉS DO DESENHO)

LARISSA POSSUI 20 GIBIS DA MÔNICA E 15 GIBIS DO CEBOLINHA. QUANTOS GIBIS LARISSA TEM AO TODO?

EMAI - SEQUÊNCIA 7, ATIVIDADE 7.3



OS QUESTIONAMENTOS SERÃO ENVIADOS ATRAVÉS DE ÁUDIO.

ATIVIDADE 7.3

GERALMENTE, COLAMOS AS FIGURINHAS EM ÁLBUNS.
VOCÊ CONHECE, OU JÁ TEVE UM ÁLBUM DE FIGURINHAS?
IMAGINE AS SEGUINTE SITUACÕES:

AS FIGURINHAS DE UM ÁLBUM SÃO NUMERADAS. QUE NÚMERO TEM A FIGURINHA QUE VAI SER COLADA LOGO APÓS A FIGURINHA DE NÚMERO 39?

QUE NÚMERO TEM A FIGURINHA QUE VAI SER COLADA LOGO ANTES DA FIGURINHA DE NÚMERO 50?

EMAI - Educação Matemática nos anos iniciais do Ensino Fundamental - 1º ano - Vol.1. Governo do Estado de São Paulo

TERMINANDO A ATIVIDADE, TIRE UMA 

E

ENVIE PARA A PROFESSORA ANALISAR!



1º Ano – Professora Letícia Carradori Boyago

12 DE AGOSTO DE 2020

REGISTRE AS RESPOSTAS EM SEU



1. OBSERVE E COMPLETE A TABELA ABAIXO.

70									
----	--	--	--	--	--	--	--	--	--

A. O QUE OS NÚMEROS DESSA TABELA TÊM EM COMUM?

B. COM QUE NÚMERO ELA COMEÇA?

C. E COM QUAL ELA TERMINA?

D. QUE NÚMERO VEM DEPOIS DO 70?

E. E ANTES DO 79?

F. QUE NÚMERO ESTÁ ENTRE O 72 E O 74?

G. HÁ QUE FAMÍLIA ESSES NÚMEROS PERTENCEM?

H. A NOSSA TABELA TERMINA NO NÚMERO 79, SE ELA CONTINUASSE QUAL SERIA O PRÓXIMO NÚMERO?



SITUAÇÃO PROBLEMA (RESOLVER ATRAVÉS DO DESENHO)

MIGUEL GANHOU UM SACO COM 25 PIRULITOS DE SUA MÃE. DEU 10 PARA SEU IRMÃO. QUANTOS PIRULITOS MIGUEL TEM AGORA?

TERMINANDO A ATIVIDADE, TIRE UMA



E

ENVIE PARA A PROFESSORA ANALISAR!



1º Ano – Professora Letícia Carradori Boyago

13 DE AGOSTO DE 2020

REGISTRE AS RESPOSTAS EM SEU




COMPLETE A SEQUÊNCIA ABAIXO CONTANDO DE 3 EM 3 A PARTIR DO NÚMERO 8.

8				
---	--	--	--	--



SITUAÇÃO PROBLEMA (RESOLVER ATRAVÉS DO DESENHO).

DONA JÚLIA FOI A FEIRA E COMPROU 20 CENOURAS E 15 BATATAS. O QUE ELA COMPROU EM MAIOR QUANTIDADE?
QUANTAS A MAIS?



EMAI - SEQUÊNCIA 7, ATIVIDADE 7.4

HOJE RESPONDEREMOS APENAS AOS QUESTIONAMENTOS. A ATIVIDADE SERÁ REALIZADA AMANHÃ.

OBSERVE AS COLEÇÕES ABAIXO.

CARLOS	PEDRO	JULIANA



1º Ano – Professora Letícia Carradori Boyago

A. DE QUE FORMA PODEMOS DESCOBRIR QUANTOS OBJETOS HÁ EM CADA COLEÇÃO?

B. APENAS OBSERVANDO, QUEM VOCÊ ACHA QUE POSSUI A MAIOR COLEÇÃO?

C. E QUEM POSSUI A MENOR?


D. FAÇA UMA ESTIMATIVA DAS TRÊS COLEÇÕES E DEPOIS REALIZE A CONTAGEM PARA COMPARARMOS OS RESULTADOS.

	ESTIMATIVA	QUANTIDADE REAL
CARLOS		
PEDRO		
JÚLIA		

- VOCÊ SE APROXIMOU DO QUANTIDADE REAL?

E. E AGORA, QUAL COLEÇÃO POSSUI MAIS OBJETOS?

F. E QUAL POSSUI MENOS?



TERMINANDO A ATIVIDADE, TIRE UMA

E

ENVIE PARA A PROFESSORA ANALISAR!





1º Ano – Professora Letícia Carradori Boyago

14 DE AGOSTO DE 2020

REGISTRE AS RESPOSTAS EM SEU



DITADO DE NÚMEROS (A PROFESSORA ENVIARÁ OS NÚMEROS ATRAVÉS DE ÁUDIO).



SITUAÇÃO PROBLEMA (RESOLVER ATRAVÉS DO DESENHO)

SEU BERNARDO POSSUI 30 ANIMAIS EM SUA FAZENDA. SABENDO QUE 18 SÃO VACAS, QUANTAS SÃO AS OVELHAS?

EMAI - SEQUÊNCIA 7, ATIVIDADE 7.4

RETOME SEUS QUESTIONAMENTOS E RESPONDA A ATIVIDADE.

ATIVIDADE 7.4

VEJA AS COLEÇÕES DE TRÊS AMIGOS:

CARLOS	PEDRO	JULIANA

SEM CONTAR, EM QUAL DAS COLEÇÕES HÁ MAIS OBJETOS?

AGORA, CONTE AS QUANTIDADES E CONFIRA COM SUA ESTIMATIVA.

RESPONDA, ENTÃO:

- QUAL COLEÇÃO POSSUI MAIS OBJETOS?
- QUAL COLEÇÃO TEM MAIS OBJETOS, A DE CARRINHOS OU A DE BOLINHAS? QUANTOS A MAIS?
- QUAL COLEÇÃO TEM MENOS, A DE BOLINHAS OU DE URSINHOS? QUANTOS A MENOS?

