

ATIVIDADE DO CADERNO

AMPARO, ____ DE _____ DE 2020

HOJE É _____

NOME: _____

Alfabeto: Aa – Bb – Cc – Dd – Ee – Ff – Gg – Hh – Ii – Jj – Kk – Ll – Mm – Nn
- Oo – Pp – Qq – Rr – Ss – Tt – Uu – Vv – Ww – Xx – Yy – Zz.

1-Ditado de palavras.

A professora vai ditar uma lista de palavras.

APONTADOR

CADERNO

LÁPIS

GIZ

2-Ditado de frase.

A professora vai ditar uma frase.

A ponta do lápis quebrou.

3-Escrevam a parlenda “Corre Cutia”.

Corre cutia na casa da tia

Corre cipó na casa da avó

Lencinho na mão caiu no chão

Moça bonita do meu coração

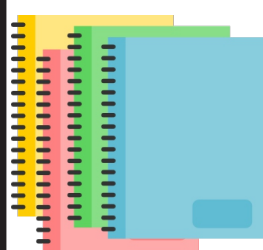
4 - Construa frases com as imagens abaixo: (letra inicial maiúscula e ponto final).

A)



B)





ATIVIDADE DO CADERNO

AMPARO, ____ DE _____ DE 2020

HOJE É _____

NOME: _____

Leia o texto abaixo:

Onça Pintada



A ONÇA PINTADA VIVE EM FLORESTAS E CAVERNAS DA AMÉRICA DO SUL E AMÉRICA CENTRAL. NO BRASIL, PRINCIPALMENTE NO PANTANAL E NA AMAZÔNIA.

O SEU PRATO PREFERIDO É COMER CAPIVARAS, PORCOS-DO-MATO, OUTROS MAMÍFEROS, AVES, RÉPTEIS E ATÉ PEIXES.

SEU PESO É DE 130 A 160 QUILOS E O SEU TAMANHO É DE 70 E 80 CENTÍMETROS DE ALTURA E CERCA DE 2 A 3 METROS DE COMPRIMENTO.

SEU TEMPO DE VIDA É CERCA DE 20 ANOS.

A ONÇA GERA ATÉ 4 FILHOTES.

Agora, vamos preencher a ficha do animal que você leu.

FICHA TÉCNICA

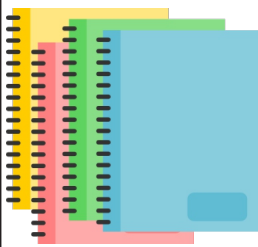
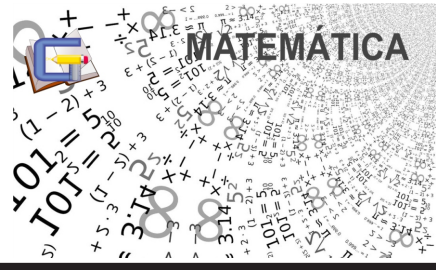
NOME DO ANIMAL

ONDE VIVE

FILHOTES

ALIMENTAÇÃO





ATIVIDADE DO CADERNO

AMPARO, ____ DE _____ DE 2020

HOJE É _____

NOME: _____

1- escreva os numerais de 600 a 700 de 2 em 2.

2- Escreva por extenso.

600

622

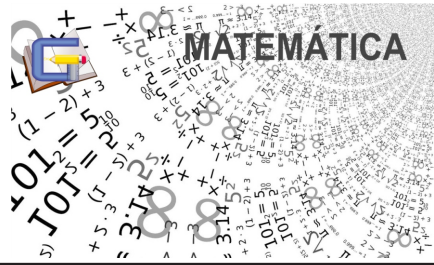
634

663

678

681






ATIVIDADE DO CADERNO

AMPARO, ____ DE ____ DE 2020
HOJE É _____
NOME: _____


3-Resolva as situações-problema.

A) Paulo tem 27 vacinhas no seu sítio, 8 porquinhos e 8 galinhas. Quantos animais ele tem no sítio?



R: _____

B) Paulo tinha 8 galinhas, comprou 13 do seu vizinho. Quantas galinhas tem no sítio?



R: _____

C) Paulo tinha 27 vacinhas, vendeu 12 para seu primo. Quantas vacinhas ficaram no sítio?



R: _____





AMPARO, ____ DE _____ DE 2020

HOJE É _____

NOME: _____

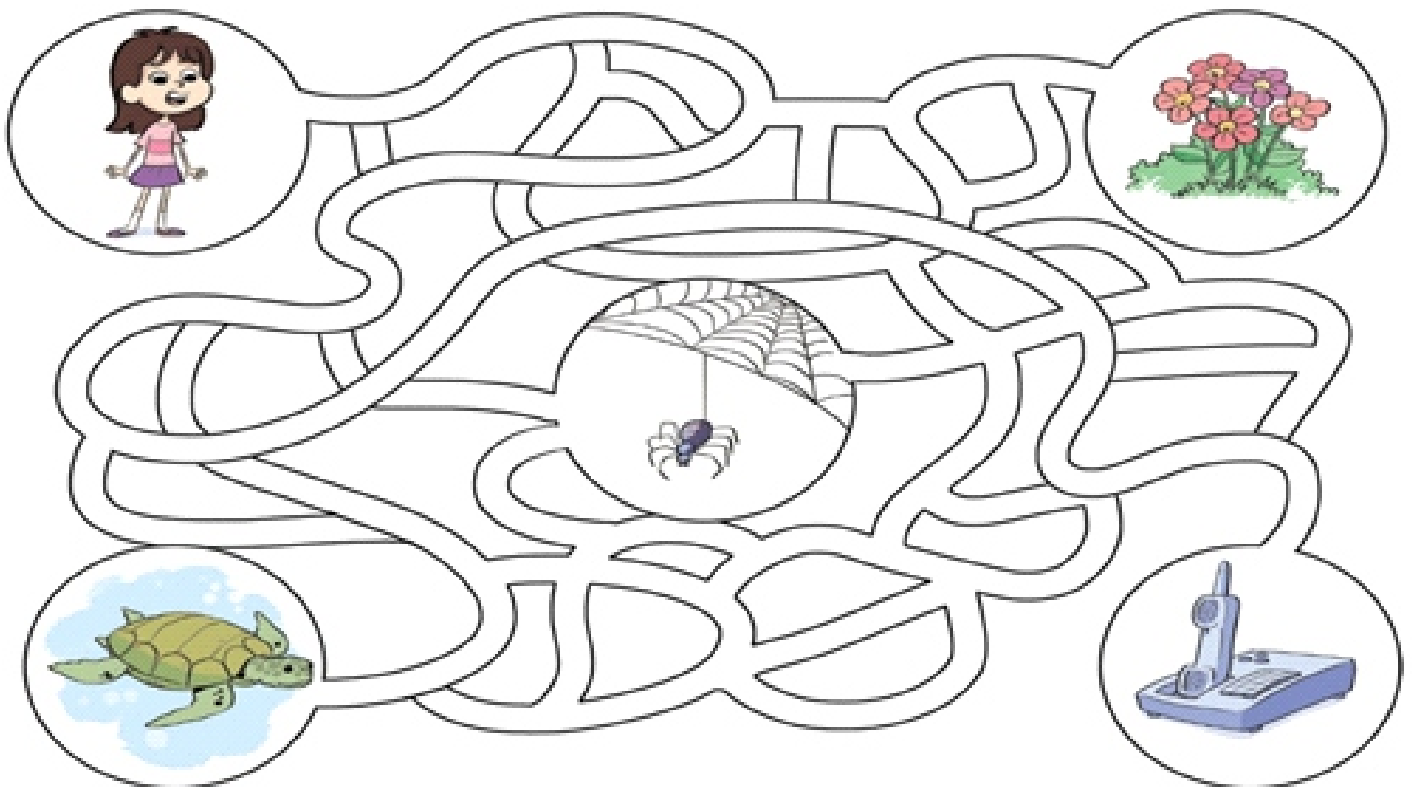
1) Qual desses materiais está no estado líquido?

- a) Colher.
- b) Pedra.
- c) Água da chuva.
- d) Mesa.

2) Assinale (V) para verdadeiro ou (F) para falso nas afirmativas a seguir.

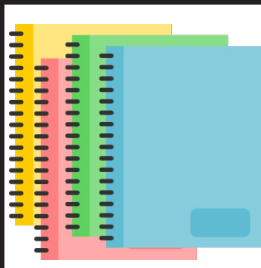
- () A madeira é utilizada para fabricar móveis porque é flexível.
- () O vidro é um material transparente usado em janelas.
- () O metal é um material resistente utilizado para fazer livros e cadernos.
- () O papel é um material que pode ser dobrado e rasgado com facilidade

3) Ajude Gabriela a encontrar uma invenção feita pelo ser humano.



Representação para fins didáticos. Os elementos da imagem não estão em proporção.





ATIVIDADE DO CADERNO

AMPARO, ____ DE _____ DE 2020

HOJE É _____

NOME: _____

1) Marque com um X a alternativa que indica um problema ambiental causado por atividades da agricultura e da pecuária.

- a) Derrubada de florestas.
- b) Excesso de lixo.
- c) Formação de geleiras.
- d) Diminuição da temperatura do planeta.

2) De que maneira as atividades agrícolas e extrativistas podem poluir as águas dos rios?

3) Marque com um X a alternativa que indica o problema ambiental retratado no texto.

Na cidade, as indústrias lançam fumaça, fuligem e substâncias nocivas no ar. Os veículos também lançam fumaça no ar, o que compromete a qualidade de vida das pessoas nas cidades.

- a) Contaminação das águas dos rios.
- b) Destruição do solo.
- c) Poluição do ar.

4) Marque com um X a alternativa correta.

- a) Não precisamos evitar o desperdício de água porque toda a água disponível para consumo já está poluída.
- b) Não precisamos evitar o desperdício de água porque há muita água disponível para consumo.
- c) Devemos evitar o desperdício e poluição da água porque a água é um recurso cada vez mais escasso na natureza e um dia pode acabar.
- d) Não há nada que podemos fazer para economizar água no dia a dia.

5) Faça um desenho que representa uma atitude que ajuda a evitar o desperdício de água.

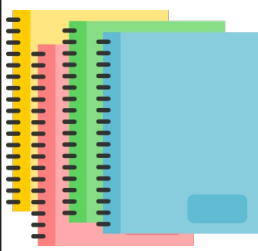




História

ATIVIDADE DO CADERNO

AMPARO, ____ DE ____ DE 2020
HOJE É _____
NOME: _____



1 - Circule o documento pessoal que registra os dados de nascimento de uma pessoa.




2 - Uma fotografia de sua família é uma fonte histórica:

- () oral.
- () visual.
- () escrita.

Observe a imagem e responda se ela representa uma fonte histórica material ou imaterial. Justifique sua resposta.



3 - Qual é o local que guarda registros e lembranças da memória coletiva? Circule a imagem correta.



ILUSTRAÇÕES: MARCIO GUERRA





Clique no link para acessar a aula de Educação Física com o Professora Joice.



<https://youtu.be/gee-vhU4OVE>

Escolha uma das obras de arte de Ivan Cruz e faça uma releitura.

