

PLANO DE AULA SEMANAL - 4º ANO – 3º BIMESTRE / 2020

SEMANA DE 03 A 07/08

ORIENTAÇÕES:

- AS ATIVIDADES ESTÃO ORGANIZADAS EM DIAS PARA ACOMPANHAR A ORGANIZAÇÃO DOS GRUPOS DE WHATSAPP, MAS CADA FAMÍLIA PODE SE ORGANIZAR DA MELHOR MANEIRA PARA SUA REALIZAÇÃO.
- ASSIM QUE REALIZADAS AS ATIVIDADES DEVERÃO SER ENTREGUES AO PROFESSOR DA SEGUINTE MANEIRA:
 - ✓ ATRAVÉS DE FOTOS ENVIADAS NO GRUPO DE WHATSAPP;
 - ✓ ENTREGUES NA ESCOLA PARA SEREM FOTOGRAFADAS POR UM FUNCIONÁRIO, QUANDO FOREM LIVROS OU CADERNO;
 - ✓ ENTREGUES NA ESCOLA PARA UM FUNCIONÁRIO, QUANDO EM FOLHAS PARA SEREM ENCAMINHADAS AOS PROFESSORES.
- AS ATIVIDADES REALIZADAS PELOS ALUNOS COMPORÃO AS NOTAS BIMESTRAIS E POR ISSO OS PROFESSORES PRECISAM RECEBÊ-LAS APÓS REALIZADAS.
- AS ATIVIDADES A SEREM REALIZADAS EM FOLHAS SÃO DISPONIBILIZADAS IMPRESSAS OU POR MEIO DIGITAL PARA GARANTIR O ACESSO A TODOS OS ALUNOS.

DIA – 03/08 - SEGUNDA-FEIRA

➤ **Atividade de Leitura**

- ✓ Livro de textos (laranja)
 - Parlenda Hoje é domingo – página 10

➤ **Matemática**

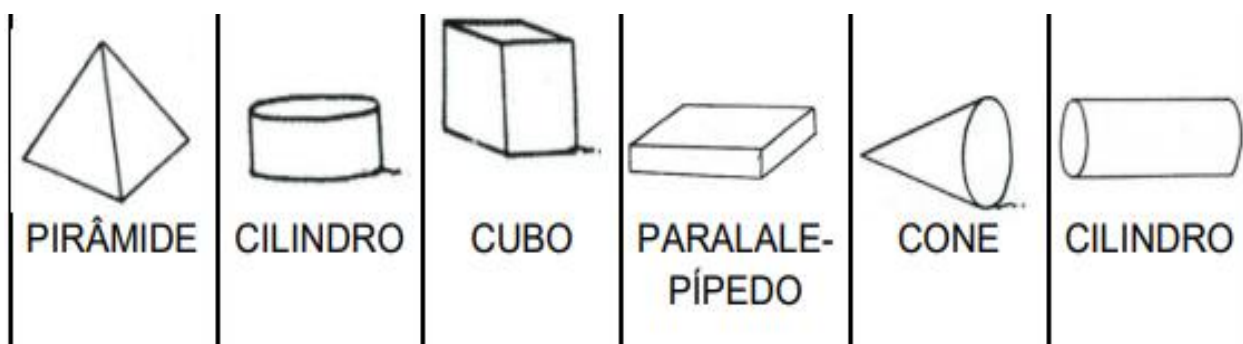
- ✓ **Livro do EMAI**
 - **Sequencia 2 – Atividade 2.1 – Página 13**

Proposta de atividade: Observar as planificações de alguns poliedros, identificar quais são esses poliedros e desenhar como acham que eles ficarão, ao serem montados.

Como vamos estudar o conteúdo? Retomando alguns aspectos já explorados sobre as características de alguns sólido geométricos que já estudamos.

Quais sólidos geométricos já estudamos?

No terceiro ano estudamos o cubo, pirâmide, o paralelepípedo, o cone, entre outros

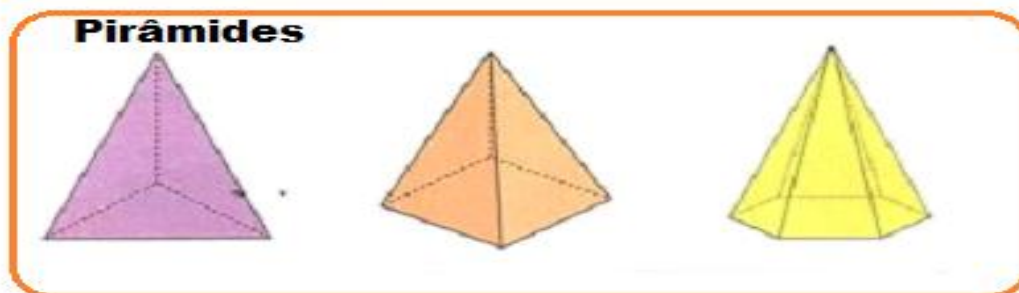


Vocês se lembram de algumas características das pirâmides?



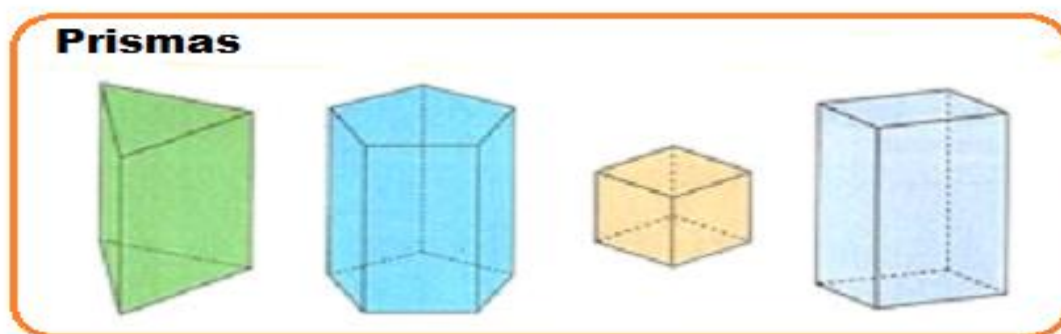
**SECRETARIA MUNICIPAL DE
EDUCAÇÃO**

As pirâmides são poliedros que possuem uma única base e cujas faces laterais são formadas por triângulos.



E dos prismas?

Prismas são poliedros que possuem duas bases, que são polígonos iguais. Essas bases são ligadas por paralelogramos que chamamos faces laterais.



Dêem um exemplo de um objeto que lembre um cone.

Funil, chapéu de aniversário, casquinha de sorvete, entre outros.

Atividade 1: Desenhem como vocês acham que as caixas vão ficar. Em seguida recortem os moldes do anexo 1, páginas 189, 190, 191.

Atividade 2: Monte as caixas e verifique se suas previsões estavam corretas.

Colocar a data na parte superior da página do EMAI

**SECRETARIA MUNICIPAL DE
EDUCAÇÃO**

➤ **Língua Portuguesa**

✓ **Atividade Permanente**

- Para realizar a atividade acesse

<https://forms.gle/xLBvsdMH9bSovdJc6>

➤ **Data Comemorativa – Dia do Capoeirista**

1 – No dia 03 de agosto comemoramos o “Dia do Capoeirista”, que é o praticante de Capoeira. Vamos encontrar as palavras? São nomes de instrumentos musicais utilizados na Capoeira.

BERIMBAU
ATABAQUE
CUÍCA
AFOXÉ
AGOGÔ



A	W	C	I	C	A	D	E	M	T
F	K	A	T	A	B	A	Q	U	E
O	L	A	G	O	G	Ô	M	Z	U
X	O	L	A	G	O	P	I	L	Q
É	G	K	C	U	Í	C	A	J	F
S	K	Q	A	X	B	E	O	M	A
N	B	E	R	I	M	B	A	U	Z

2 – Escrever em seu caderno os nomes dos instrumentos musicais de origem africana que encontrou no caça-palavras.

3 - Após o aluno realizar a atividade, deverá fotografar a folha do caderno onde escreveu os nomes dos instrumentos musicais que encontrou e enviar a foto para a professora.