




3º Ano – Daniela dos Santos Rodrigues

Dia 03 de agosto de 2020.




ATIVIDADE HABITUAL DESAFIOS MATEMÁTICOS

ATENÇÃO!

Todos os registros que forem necessários para a resolução devem ser anotados no 

O meu avô cria no quintal do sítio porcos e galinhas. Ontem quando fui visita-lo contei no quintal 5 cabeças e 14 pés. Quantos porcos e quantas galinhas estavam no quintal do meu avô?

TERMINANDO A ATIVIDADE, TIRE UMA 
E
ENVIE PARA A PROFESSORA ANALISAR!



3º Ano – Daniela dos Santos Rodrigues

EMAI-

Atividade 7.5 Parte 1

1. Em seu **caderno** responda as questões abaixo:

A. Vocês conhecem jogos de tabuleiro? Quais?

B. Vocês têm o hábito de brincar com esses jogos?

2. Leia o texto abaixo sobre a origem de alguns jogos de tabuleiro.

Há jogos de tabuleiro bastante antigos, como o Banco Imobiliário, que surgiu nos Estados Unidos em 1932 e chegou ao Brasil na década de 1960 e o War, lançado nos Estados Unidos em 1957 e no Brasil em 1972. Neste jogo, o objetivo é dominar vários continentes e o vencedor precisa de inteligência, estratégia e um pouco de sorte, já que os combates são decididos no lançamento de um dado.

3. Em seu **caderno** escreva como se lê os números:

1932

1960

1957

1972



3º Ano – Daniela dos Santos Rodrigues



4. Imagine que você irá jogar um  . Sabendo disso, responda em seu **CADERNO**:

- A. Quantas faces possui um dado?
- B. Sabemos quais são os resultados possíveis quando lançamos um dado e observamos a face superior?
- C. Mas, antes de jogar, temos certeza qual a face que aparecerá?
- D. Alguma das seis faces do dado tem maior chance de ocorrer?



CIME "PROFESSORA JACYRA RIBEIRO GUILARDI"
RODOVIA MUNICIPAL 379
BAIRRO BOA VEREDA – AMPARO – SP
FONE (FAX) – 19 – 3807-9793

TERMINANDO A ATIVIDADE, TIRE UMA



E

ENVIE PARA A PROFESSORA ANALISAR!




3º Ano – Daniela dos Santos Rodrigues

Dia 04 de agosto de 2020.



ATIVIDADE HABITUAL DESAFIOS MATEMÁTICOS


ATENÇÃO!

Todos os registros que forem necessários para a resolução devem ser anotados no 

Cinco amigos conversavam sobre seus esportes preferidos. Descubra o nome de cada criança e seu esporte preferido lendo as dicas



- 1- Daniel é o mais alto da turma e está entre Bia e Pedro. Seu esporte preferido é bola ao cesto.
- 2- Rita está à esquerda de Léo e seu esporte preferido é dentro da água.
- 3- Pedro está à direita de Daniel e no seu esporte preferido utiliza-se uma raquete.
- 4- Bia não está perto de Rita e seu esporte preferido é praticado com cavalos.
- 5- Léo está à direita de Rita e seu esporte preferido é sobre duas rodas.

TERMINANDO A ATIVIDADE, TIRE UMA 
E
ENVIE PARA A PROFESSORA ANALISAR!



3º Ano – Daniela dos Santos Rodrigues



EMAI-

Atividade 7.5 Parte 2

Em seu caderno responda as questões abaixo:

ATIVIDADE 7.5

Vinícius jogou um dado e observou a face voltada para cima.

1. Quais os resultados que podem ter sido obtidos neste lançamento?

2. Qual desses resultados tem maior chance de ocorrer ou eles têm chances iguais?



Arte: IMESP

3. Vinícius jogou o dado e obteve a face 6 voltada para cima. Se ele jogar o dado novamente, quais os resultados que podem ser obtidos neste novo lançamento?

4. No lançamento desse dado, qual das duas situações têm maior chance de ocorrer: "sair um número par" ou "um número ímpar"? Justifique sua resposta.






3º Ano – Daniela dos Santos Rodrigues

Dia 05 de agosto de 2020.




ATIVIDADE HABITUAL DESAFIOS MATEMÁTICOS

ATENÇÃO!

Todos os registros que forem necessários para a resolução devem ser anotados no 

Um coelho viu 6 elefantes enquanto se dirigia ao rio. Cada elefante viu dois macacos indo para o rio. Cada macaco segurava 1 pássaro em suas mãos. Quantos animais foram para o rio?



TERMINANDO A ATIVIDADE, TIRE UMA

E

ENVIE PARA A PROFESSORA ANALISAR!





3º Ano – Daniela dos Santos Rodrigues



EMAI

ATIVIDADE 8.3 PARTE 1

RESPONDA EM SEU CADERNO :

1-Um bimestre é composto por quantos meses?

2-Um trimestre é composto por quantos meses?

3-Quantos semestres há em um ano?

4-Quantos meses há em um semestre?

5-Quais são os meses do primeiro semestre?

6-Em que bimestre se comemora cada feriado?

- Carnaval _____
- Natal _____
- Páscoa _____
- Início do verão _____
- Início da primavera _____

TERMINANDO A ATIVIDADE, TIRE UMA
E
ENVIE PARA A PROFESSORA ANALISAR!






3º Ano – Daniela dos Santos Rodrigues

Dia 07 de agosto de 2020.



ATIVIDADE HABITUAL DESAFIOS MATEMÁTICOS

ATENÇÃO!

Todos os registros que forem necessários para a resolução devem ser anotados no 



No caminho de casa até o mercado, uma senhora conta 10 árvores a sua direita. Após as compras, ela volta para casa e conta 10 árvores a sua esquerda. Quantas árvores ela viu no total nesse dia?

TERMINANDO A ATIVIDADE, TIRE UMA

E

ENVIE PARA A PROFESSORA ANALISAR!





3º Ano – Daniela dos Santos Rodrigues

EMAI

ATIVIDADE 8.3 PARTE 2

Em seu caderno organize as informações do quadro abaixo e complete como se pede. Não é necessário desenhar o quadro ,apenas complete as informações.

EXEMPLO:

1º bimestre

Janeiro 31 dias _____

Fevereiro número de dias número aulas prevista

Total



1. Para planejar as atividades com seus alunos, a professora Sílvia organizou quadros contendo os três primeiros bimestres do ano.

Com o apoio do calendário deste ano, complete os quadros abaixo:

1º bimestre		
Meses	Quantidade de dias	Previsão de dias de aula
Janeiro	31	—
Fevereiro		
Total		

2º bimestre		
Meses	Quantidade de dias	Previsão de dias de aula
Março	31	—
Abril		
Total		

3º bimestre		
Meses	Quantidade de dias	Previsão de dias de aula
Maio	31	—
Junho		
Total		



3º Ano – Daniela dos Santos Rodrigues

2. Com base nas informações preenchidas nos quadros, responda:

A. Quantos dias de aulas estão previstos para o primeiro bimestre?

B. E para o segundo bimestre?

C. A quantidade de dias de aulas previstas para cada bimestre são iguais? Por quê?

D. Considerando que os três bimestres correspondem ao primeiro semestre do ano, quais meses o compõe?



CIME "PROFESSORA JACYRA RIBEIRO GUILARDI"
RODOVIA MUNICIPAL 379
BAIRRO BOA VEREDA – AMPARO – SP
FONE (FAX) – 19 – 3807-9793

TERMINANDO A ATIVIDADE, TIRE UMA



E

ENVIE PARA A PROFESSORA ANALISAR!