



2º Ano – Raquel Sueli Soeiro Camargo

20 DE JULHO DE 2020

SEGUNDA-FEIRA

RESPONDAM NO , NÃO HÁ NECESSIDADE DE COPIAREM A PERGUNTA!

1) ORGANIZAR OS NÚMEROS NA ORDEM CRESCENTE.

367	330	313	358	301	344	366	322	389	398
-----	-----	-----	-----	-----	-----	-----	-----	-----	-----

SITUAÇÃO PROBLEMA
RESOLVA ATRAVÉS DO DESENHO

2) DESCUBRA A ORDEM DOS ANIVERSARIANTES DO MÊS.

An illustration of three cartoon children. Paulo is on the left, Pedro is in the middle, and Joana is on the right. Each child has a speech bubble above them. Paulo's bubble says "Dentro de duas semanas, Joana fará aniversário." Pedro's bubble says "Farei aniversário daqui a 6 dias." Joana's bubble says "Paulo fará aniversário daqui a 12 dias." The names Paulo, Pedro, and Joana are written below each child respectively.

Dentro de duas semanas, Joana fará aniversário.

Farei aniversário daqui a 6 dias.

Paulo fará aniversário daqui a 12 dias.

Paulo

Pedro

Joana



2º Ano – Raquel Sueli Soeiro Camargo

RESPONDAM NO



5. OBSERVE ESTA PARTE DE UM QUADRO NUMÉRICO.

75	76	77
85		87
95	96	97

O NÚMERO COBERTO COM CARTÃO VERMELHO É:

- A. 83
- B. 84
- C. 85
- D. 86

6. NA ILUSTRAÇÃO ABAIXO, A QUANTIDADE DE MORANGOS DESENHADOS É:



- A. 17
- B. 20
- C. 34
- D. 36

7. CONSIDERE OS NÚMEROS 202, 133, 1000, 587. O MAIOR DELES É:

- A. 133
- B. 202
- C. 587
- D. 1000

TERMINANDO A ATIVIDADE, TIRE UMA
E
ENVIE PARA A PROFESSORA ANALISAR!





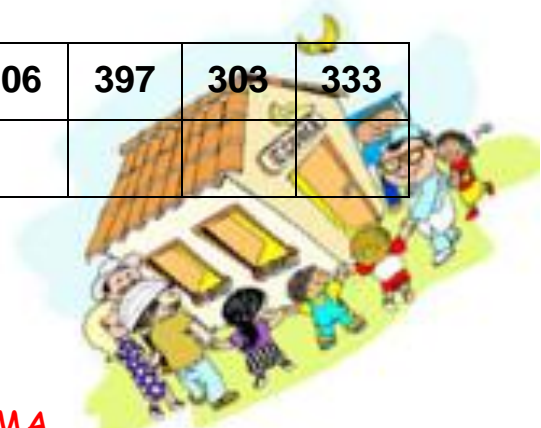
2º Ano – Raquel Sueli Soeiro Camargo

21 DE JULHO DE 2020
TERÇA-FEIRA

RESPONDAM NO , NÃO HÁ NECESSIDADE DE COPIAREM A PERGUNTA!

1) ORGANIZAR OS NÚMEROS NA ORDEM DECRESCENTE.

344	313	354	371	396	317	306	397	303	333



SITUAÇÃO PROBLEMA
RESOLVAM ATRAVÉS DO DESENHO

2) NICOLAU ESCREVEU O PROBLEMA A SEGUIR FORA DE ORDEM. AJUDE-O A REESCREVÊ-LO NA ORDEM CORRETA E, DEPOIS, RESOLVA O PROBLEMA.

QUANTAS PÁGINAS TEM O LIVRO?
MAS AINDA FALTAM 24 PARA SEREM LIDAS.
PATRÍCIA LEU 45 PÁGINAS DE UM LIVRO.



2º Ano – Raquel Sueli Soeiro Camargo

RESPONDAM NO  **NÃO HÁ NECESSIDADE DE COPIAREM A PERGUNTA!**

HOJE IREMOS FALAR SOBRE “FAZER ANIVERSÁRIO”

- O QUE SIGNIFICA FAZER ANIVERSÁRIO?
- COMO VOCÊS GOSTAM DE COMEMORAR O ANIVERSÁRIO?
- VOCÊS SABEM A DATA DO SEU ANIVERSÁRIO?
- QUAL O DIA E MÊS DO SEU ANIVERSÁRIO?
- E O DIA, MÊS E ANO EM QUE VOCÊS NASCERAM, VOCÊS SABEM?

SEQUÊNCIA 6
IDADES E ANIVERSARIANTES



ATIVIDADE 6.1

AGORA VAMOS CONHECER O ANO DE NASCIMENTO DE CADA UM DE NÓS.
ESCREVA O ANO EM QUE VOCÊ NASCEU:

O QUADRO ABAIXO ESTÁ PREENCHIDO COM OS DADOS OBTIDOS EM UMA PESQUISA QUE A PROFESSORA FEZ EM NOSSA SALA QUANTO AOS ANIVERSARIANTES.

ANO DE NASCIMENTO	NÚMERO DE ALUNOS
2011	0
2012	10
2013	8
2014	0

FONTE: 2º ANO A

A. EM QUE ANO NASCERAM MAIS ALUNOS DA NOSSA TURMA?

B. QUANTOS ANOS DE IDADE ESSES ALUNOS COMPLETAM NESTE ANO?

EMAI – EDUCAÇÃO MATEMÁTICA NOS INICIAIS DO ENSINO FUNDAMENTAL – 2 ANO – VOL.1. GOVERNO DO ESTADO DE SÃO PAULO.

TERMINANDO A ATIVIDADE, TIRE UMA

E

ENVIE PARA A PROFESSORA ANALISAR!





2º Ano – Raquel Sueli Soeiro Camargo

22 DE JULHO DE 2020
QUARTA-FEIRA

RESPONDAM NO , NÃO HÁ NECESSIDADE DE COPIAREM A PERGUNTA!

100	101	102	103	104	105	106	107	108	109
110	111	112	113	114	115	116	117	118	119
120	121	122	123	124	125	126	127	128	129
130	131	123	133	134	135	136	137	138	139
140	141	124	143	144	145	146	147	148	149

OBSERVE O QUADRO NUMÉRICO PARA PODER RESPONDER AS QUESTÕES ABAIXO:



1. QUAL O MAIOR NÚMERO DO QUADRO?
2. E O MENOR NÚMERO? PORQUE VOCÊ CONSIDERA ESSE NÚMERO SENDO O MENOR?
3. O QUE OS NÚMEROS DE PRIMEIRA COLUNA TÊM DE PARECIDO?
4. O QUE HÁ DE PARECIDO ENTRE OS NÚMEROS DA ÚLTIMA LINHA?
5. QUAIS SÃO OS NÚMEROS DE TRÊS ALGARISMOS QUE TERMINAM COM 9?
6. QUAIS NÚMEROS SÃO OS SUCESSORES (VEM DEPOIS) DOS NÚMEROS TERMINADOS COM 9?
7. O QUE ELES TÊM DE SEMELHANTE?
8. LEMBRANDO O QUADRO TRABALHADO SEMANA PASSADA, PREENCHA A TIRA ABAIXO COM OS NÚMEROS QUE ESTÃO FALTANDO.

77	78	
	88	89
97		99




2º Ano – Raquel Sueli Soeiro Camargo

SITUAÇÃO PROBLEMA

RESOLVAM ATRAVÉS DO DESENHO

NÃO TENHO LADOS. ÀS VEZES ME DESENHAM PARA REPRESENTAR O SOL.

- QUEM SOU EU?
- DE QUAL COR FUI PINTADO NA IMAGEM?
- COM QUAIS OBJETOS SOU PARECIDO?



CIME "PROFESSORA JACYRA RIBEIRO GUILARDI"
RODOVIA MUNICIPAL 379
BAIRRO BOA VEREDA – AMPARO – SP
FONE (FAX) – 19 – 3807-9793

TERMINANDO A ATIVIDADE, TIRE UMA
FOTO
E
ENVIE PARA A PROFESSORA ANALISAR!





2º Ano – Raquel Sueli Soeiro Camargo


23 DE JULHO DE 2020
 QUINTA-FEIRA

RESPONDAM NO , NÃO HÁ NECESSIDADE DE COPIAREM A PERGUNTA!

1) ESCREVA OS NÚMEROS QUE FALTAM EM CADA SEQUÊNCIA DE ACORDO COM A REGRA INDICADA:

42	44			50					
----	----	--	--	----	--	--	--	--	--

5		15				35			
---	--	----	--	--	--	----	--	--	--




CIME "PROFESSORA JACYRA RIBEIRO GUILARDI"
 RODOVIA MUNICIPAL 379
 BAIRRO BOA VEREDA – AMPARO – SP
 FONE (FAX) – 19 – 3807-9793

SITUAÇÃO PROBLEMA
RESOLVAM ATRAVÉS DO DESENHO

2) ROGÉRIO TEM TRÊS BICHOS DE ESTIMAÇÃO. UM PEIXE, UM GATO E UM CACHORRO. ELES SÃO MUITOS DIVERTIDOS.

- O PEIXE NÃO SE CHAMA PITUCO.
- O GATO BRINCA MUITO COM O TICO.
- O TUCO NADA O DIA INTEIRO.

DESCUBRA O NOME DE CADA BICHINHO.





2º Ano – Raquel Sueli Soeiro Camargo

RESPONDAM NO

1. VOCÊS SABEM QUAL É A DATA DE ANIVERSÁRIO COMPLETA DE ALGUM DE SEUS COLEGAS DE CLASSE?
2. SABEM DE ALGUM COLEGA QUE TENHA NASCIDO EM 2006?
3. TEM ALGUM COLEGA QUE NASCEU NO MESMO MÊS E MESMO ANO QUE VOCÊ?

ATIVIDADE 6.2

A PROFESSORA SORTEOU DOIS ALUNOS DA NOSSA TURMA E ESCREVEU A DATA DE NASCIMENTO DE CADA UM:

NOME	DATA DE NASCIMENTO		
	DIA	MÊS	ANO
BRENDA	26	06	2012
KAMILA	26	04	2013

A. QUEM É MAIS VELHO?

B. COMO VOCÊ SABE ISSO?

ELA SORTEOU MAIS DOIS COLEGUINHAS:

NOME	DATA DE NASCIMENTO		
	DIA	MÊS	ANO
BRUNA	04	02	2013
JOSÉ NICOLAS	20	02	2013

A. QUEM É MAIS NOVO?

B. COMO VOCÊ SABE ISSO?

**TERMINANDO A ATIVIDADE, TIRE UMA
E
ENVIE PARA A PROFESSORA ANALISAR!**



2º Ano – Raquel Sueli Soeiro Camargo

RESPONDAM NO , NÃO HÁ NECESSIDADE DE COPIAREM A PERGUNTA!



1) DIA DO DITADO DE NÚMERO. (ÁUDIO NO GRUPO)

SITUAÇÃO PROBLEMA

RESOLVAM ATRAVÉS DO DESENHO

KAUANE COMPROU 12 CANETINHAS COLORIDAS, 6 LÁPIS DE COR, 2 CADERNOS E 1 BORRACHA. QUANTOS MATERIAIS ESCOLARES ELA TEM AGORA?



CIME "PROFESSORA JACYRA RIBEIRO GUILARDI"
RODOVIA MUNICIPAL 379
BAIRRO BOA VEREDA – AMPARO – SP
FONE (FAX) – 19 – 3807-9793

TERMINANDO A ATIVIDADE, TIRE UMA

E

ENVIE PARA A PROFESSORA ANALISAR!





2º Ano – Raquel Sueli Soeiro Camargo

RESPONDAM NO

1. VOCÊ SABE O QUE É UMA TABELA?
2. OBSERVE A TABELA ABAIXO: QUAL É O TÍTULO DESSA TABELA?

COMO NÃO ESTAMOS NA ESCOLA, A PROFESSORA JÁ COMPLETOU A TABELA COM OS DADOS QUE ESTAVAM FALTANDO.

ATIVIDADE 6.3

ANIVERSARIANTES DA NOSSA TURMA

MESES DO ANO	NÚMERO DE ANIVERSARIANTES
JANEIRO	02
FEVEREIRO	02
MARÇO	01
ABRIL	03
MAIO	01
JUNHO	02
JULHO	01
AGOSTO	00
SETEMBRO	01
OUTUBRO	02
NOVEMBRO	02
DEZEMBRO	02

FONTE: ALUNOS DO 2º ANO

RESPONDA AS QUESTÕES:

1. QUANTAS COLUNAS ESSA TABELA POSSUI?
2. E LINHAS?
3. QUANTOS ALUNOS NASCERAM EM MAIO?
4. E EM DEZEMBRO?
5. EM QUE MÊS HÁ MAIS ANIVERSARIANTES?
6. HÁ ALGUM MÊS EM QUE NÃO HAJA ANIVERSARIANTES? QUAL?
7. QUANTOS MESES HÁ APENAS 2 ANIVERSARIANTES?

EMAI – EDUCAÇÃO MATEMÁTICA NOS INICIAIS DO ENSINO FUNDAMENTAL – 2 ANO – VOL.1. GOVERNO DO ESTADO DE SÃO PAULO.

TERMINANDO A ATIVIDADE, TIRE UMA



E

ENVIE PARA A PROFESSORA ANALISAR!