



1º Ano – Professora Letícia Carradori Boyago

27 DE JULHO DE 2020

REGISTRE AS RESPOSTAS EM SEU



EXPLICAÇÃO ATRAVÉS DE ÁUDIO

ORGANIZE OS NÚMEROS ABAIXO EM ORDEM CRESCENTE.

54	51	57	52	55	50	58	56	59	53
----	----	----	----	----	----	----	----	----	----



SITUAÇÃO PROBLEMA - RESOLVA ATRAVÉS DO DESENHO.
AJUDE JOÃO A ENCONTRAR A CASA DE SEU AMIGO GUSTAVO.

SIGA AS PISTAS:

- A CASA DE GUSTAVO TEM DOIS ANDARES.
- ELA TEM APENAS UMA PORTA NA PARTE DE BAIXO E NÃO TEM ANTENA NO TELHADO.
- O NÚMERO DA CASA É MENOR QUE 16.





1º Ano – Professora Letícia Carradori Boyago

EMAI - SEQUÊNCIA 6, ATIVIDADE 6.3

QUESTIONAMENTOS E ORIENTAÇÕES.

A - VOCÊ ACHA IMPORTANTE SABER DE LOCALIZAR?

B - SE UMA PESSOA FOSSE A SUA CASA, SABERIA DAR ORIENTAÇÕES A ELA DE COMO CHEGAR A SUA COZINHA?

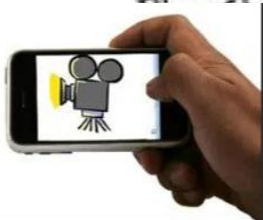
C - OBSERVE O DESENHO DA PLANTA DE UMA CASA.



<https://www.vivadecora.com.br/revista/plantas-de-casas-simples/>

SIGA O EXEMPLO E FAÇA O DESENHO DA PLANTA DE SUA CASA.

D - AGORA QUE FEZ O DESENHO VAMOS BRINCAR. A BRINCADEIRA SERÁ "CAÇA AO TESOURO". VOCÊ DEVERÁ SAIR DE SUA CASA E QUEM ESTIVER TE AUXILIANDO, DEVERÁ ESCONDER UM OBJETO (TESOURO) EM ALGUM LUGAR DENTRO DELA. QUANDO TUDO ESTIVER PRONTO VOCÊ DEVE RETORNAR E RECEBER ORIENTAÇÕES PARA LOCALIZAR O QUE FOI ESCONDIDO. NÃO SE ESQUEÇA DE REGISTRAR TUDO EM VÍDEO.



TERMINANDO A ATIVIDADE, TIRE UMA E

PROFESSORA ANALISAR!

ENVIE PARA A



1º Ano – Professora Letícia Carradori Boyago

28 DE JULHO DE 2020

REGISTRE AS RESPOSTAS EM SEU



ORGANIZE OS NÚMEROS ABAIXO EM ORDEM DECRESCENTE.

54	57	50	55	52	58	56	51	59	53
----	----	----	----	----	----	----	----	----	----



SITUAÇÃO PROBLEMA (RESOLVER ATRAVÉS DO DESENHO)

LUIZ POSSUI UMA COLEÇÃO DE TAMPINHAS. 28 SÃO VERMELHAS E 16 SÃO VERDES. QUAL COR DE TAMPINHAS APRESENTA MAIOR QUANTIDADE? QUANTAS A MAIS?

EMAI - SEQUÊNCIA 6, ATIVIDADE 6.4

LEMBRA-SE DA BRINCADEIRA DE ONTEM, "CAÇA AO TESOURO"? A ATIVIDADE DE HOJE É ASSIM. SIGA AS ORIENTAÇÕES PARA REALIZÁ-LA.

ATIVIDADE 6.4

EM UMA SALA DE AULA, FOI ESCONDIDA UMA CAIXA COM UM PRESENTE DENTRO PARA BRINCAR DE CAÇA AO TESOURO. OBSERVE O MAPA.



SE UM COLEGA ESTIVER NA PORTA DA SALA, EXPLIQUE COMO ELE PODERÁ CHEGAR AO TESOURO.





1º Ano – Professora Letícia Carradori Boyago

29 DE JULHO DE 2020

REGISTRE AS RESPOSTAS EM SEU



1. OBSERVE E COMPLETE A TABELA ABAIXO.

50	51								
----	----	--	--	--	--	--	--	--	--

A. O QUE OS NÚMEROS DESSA TABELA TÊM EM COMUM?

B. COM QUE NÚMERO ELA COMEÇA?

C. E COM QUAL ELA TERMINA?

D. QUE NÚMERO VEM DEPOIS DO 52?

E. E ANTES DO 59?

F. QUE NÚMERO ESTÁ ENTRE O 50 E O 52?

G. HÁ QUE FAMÍLIA ESSES NÚMEROS PERTENCEM?

H. A NOSSA TABELA TERMINA NO NÚMERO 59, SE ELA CONTINUASSE QUAL SERIA O PRÓXIMO NÚMERO?



SITUAÇÃO PROBLEMA (RESOLVER ATRAVÉS DO DESENHO)

TIA ANASTÁCIA PREPAROU 40 BOLINHOS PARA O CAFÉ DA TARDE. AS CRIANÇAS COMERAM 32. QUANTOS BOLINHOS SOBRARAM?

TERMINANDO A ATIVIDADE, TIRE UMA



ANALISAR!

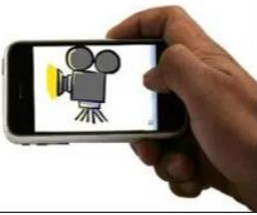
E ENVIE PARA A PROFESSORA



1º Ano – Professora Letícia Carradori Boyago

30 DE JULHO DE 2020

REGISTRE AS RESPOSTAS EM SEU



A PROFESSORA REALIZARÁ CHAMADA DE VÍDEO
INDIVIDUAL COM OS ALUNOS.

MATEMÁTICA

- DITADO DE SONDAGEM

CIME "PROFESSORA JACYRA RIBEIRO GUILARDI"
RODOVIA MUNICIPAL 379
BAIRRO BOA VEREDA – AMPARO – SP
FONE (FAX) – 19 – 3807-9793



TERMINANDO A ATIVIDADE, TIRE UMA



ANALISAR!

E ENVIE PARA A PROFESSORA



1º Ano – Professora Letícia Carradori Boyago

31 DE JULHO DE 2020



SITUAÇÃO PROBLEMA (RESOLVER ATRAVÉS DO DESENHO)

SEU JUCA FAZ TRANSPORTE ESCOLAR. PAROU A VAN EM SUA PRIMEIRA VIAGEM E ENTRARAM 14 ALUNOS. CHEGOU A UMA DAS ESCOLAS, DESCERAM 8 ALUNOS E SUBIRAM 5. QUANTOS ALUNOS HÁ NA VAN DE SEU JUCA AGORA?

EMAI - SEQUÊNCIA 6, ATIVIDADE 6.5

QUESTIONAMENTOS:

- VOCÊ JÁ VIU UMA CALCULADORA?
- SABE PARA QUE SERVE?
- QUAIS SÃO OS ALGARISMOS PRESENTES NA CALCULADORA?
- ALÉM DOS ALGARISMOS, QUE OUTRAS TECLAS ELA POSSUI?



E. DITADO DE NÚMEROS (A PROFESSORA ENVIARÁ OS NÚMEROS ATRAVÉS DE ÁUDIO).

* OS NÚMEROS DEVEM SER REPRESENTADOS NA CALCULADORA.

AGORA OBSERVE E RESPONDA A ATIVIDADE.

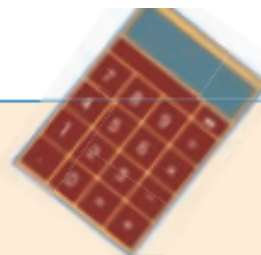


1º Ano – Professora Letícia Carradori Boyago


ATIVIDADE 6.5

PEGUE UMA CALCULADORA E OBSERVE SUAS
TECLAS, VENDO COMO ELA FUNCIONA...

AGORA, DIGITE EM UMA CALCULADORA OS
NÚMEROS DITADOS POR SEU PROFESSOR.



OBSERVE O NÚMERO QUE APARECE NO VISOR DE CADA CALCULADORA.
LEIA, EM VOZ ALTA, CADA UM DELES.



QUAL O MAIOR NÚMERO QUE APARECEU NESSES VISORES?

E QUAL O MENOR?

CIME "

TERMINANDO A ATIVIDADE, TIRE UMA
ANALISAR!



E ENVIE PARA A PROFESSORA