

NOME: _____

PROFESSORAS: CLÁUDIA E RENATA

DATA: **28/07/2020**

ATIVIDADE 39 - MATEMÁTICA



SECRETARIA MUNICIPAL DE EDUCAÇÃO
 DE DUQUE DE CAXIAS - Trabalhando com Matemática



2º ANO

QUANTO TEM NA CAIXA?

DESCUBRA A QUANTIDADE DE ESCOVAS DE DENTE QUE TEM DENTRO DE CADA CAIXA.
 NÃO SE ESQUEÇA DE OBSERVAR AS QUE ESTÃO DO LADO DE FORA.
 O TOTAL SERÁ SEMPRE **10**.

NA CAIXA +	NA CAIXA +
NA CAIXA +	NA CAIXA +
NA CAIXA +	NA CAIXA +



SECRETARIA MUNICIPAL DE EDUCAÇÃO
 DE DUQUE DE CAXIAS - Trabalhando com Matemática



2º ANO

DECOMPOSIÇÃO DE NÚMEROS

12 = 10 + 2	47 = <input type="text"/>
16 = <input type="text"/>	51 = <input type="text"/>
24 = <input type="text"/>	68 = <input type="text"/>
39 = <input type="text"/>	73 = <input type="text"/>

NOME: _____

PROFESSORAS: CLÁUDIA E RENATA

DATA: **29/07/2020**

ATIVIDADE 40 - MATEMÁTICA

SITUAÇÃO – PROBLEMA

1 – EMILY TEM 25 BONECAS EM SUA COLEÇÃO E RAPHAELA TEM 13. QUANTAS BONECAS EMILY TEM A MAIS QUE RAPHAELA?

RESPOSTA: EMILY TEM _____ BONECAS A MAIS QUE RAPHAELA.

2 – GABRIEL PESCOU 15 PEIXES E CARLOS PESCOU 6 PEIXES A MAIS QUE GABRIEL. QUANTOS PEIXES CARLOS PESCOU?

RESPOSTA: CARLOS PESCOU _____ PEIXES.

3 – SE VOCÊ CIRCULAR GRUPOS DE 5, QUANTOS GRUPOS FORMARÃO?



() 2 GRUPOS

() 3 GRUPOS

() 4 GRUPOS

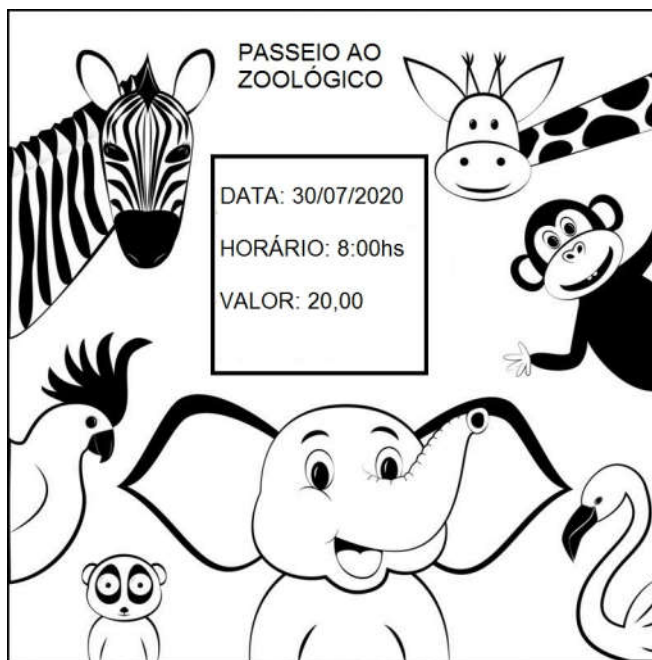
NOME: _____

PROFESSORAS: CLÁUDIA E RENATA

DATA: **30/07/2020**

ATIVIDADE 41 - MATEMÁTICA

1- OBSERVE O CARTAZ ABAIXO PARA RESPONDER O QUE SE PEDE.

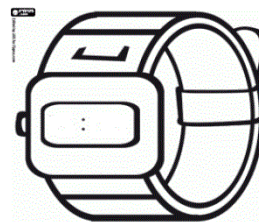


<https://pt.dreamstime.com/>

A TURMA DO 2º ANO FARÁ UM PASSEIO AO ZOOLOGICO!

EM QUE DIA SERÁ O PASSEIO? _____

MARQUE NO RELÓGIO O HORÁRIO DA VISITA.



CIRCULE AS CÉDULAS QUE CADA ALUNO PRECISA LEVAR PARA PAGAR A ENTRADA



NOME: _____

PROFESSORAS: CLÁUDIA E RENATA

DATA: **31/07/2020**

ATIVIDADE 42 - MATEMÁTICA

VAMOS BRINCAR COM O JOGO DOS PONTINHOS?

JOGO DOS PONTINHOS

●	●	●	●	●	●	●	●	●	●	●
8	3	2	6	5	6	2	2	5		
●	●	●	●	●	●	●	●	●	●	●
6	3	8	5	4	5	4	6	6		
●	●	●	●	●	●	●	●	●	●	●
2	3	3	6	5	3	8	4	3		
●	●	●	●	●	●	●	●	●	●	●
3	5	2	4	5	3	2	3	5		
●	●	●	●	●	●	●	●	●	●	●
3	8	4	5	4	6	4	4	3		
●	●	●	●	●	●	●	●	●	●	●
5	6	6	2	8	6	5	4	5		
●	●	●	●	●	●	●	●	●	●	●
2	5	7	3	5	7	2	7	7		
●	●	●	●	●	●	●	●	●	●	●
3	7	7	2	7	4	8	7	2		
●	●	●	●	●	●	●	●	●	●	●
8	5	5	2	5	5	3	7	8		
●	●	●	●	●	●	●	●	●	●	●

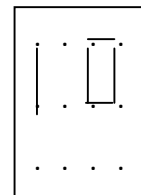
REGRAS DO JOGO

1ª – 2 JOGADORES;

2ª – CADA JOGADOR DEVE ESCOLHER UMA COR DIFERENTE DE LÁPIS;

3ª – CADA JOGADOR, NA SUA VEZ DE JOGAR, DEVE LIGAR DOIS PONTINHOS NA HORIZONTAL OU VERTICAL .

EXEMPLO



4ª – TODA VEZ QUE UM JOGADOR FORMAR UM QUADRINHO, DEVERÁ PINTAR ESSE QUADRINHO COM SUA COR.

5ª – AO FINAL, CADA JOGADOR DEVERÁ SOMAR O NÚMERO DE PONTOS QUE ESTÁ DENTRO DE CADA QUADRINHO QUE CONSEGUIU FORMAR.

QUEM TIVER A MAIOR QUANTIDADE DE PONTOS VENCE O JOGO.

NOME DO JOGADOR 1	TOTAL DE PONTOS
NOME DO JOGADOR 2	TOTAL DE PONTOS

QUEM FOI O VENCEDOR?

NOME: _____






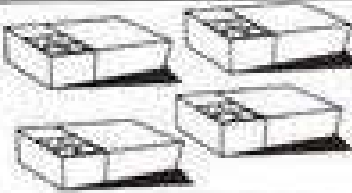
PROFESSORAS: CLÁUDIA E RENATA

DATA: **3/08/2020**

ATIVIDADE 43 - MATEMÁTICA

OBSERVE OS PRODUTOS E OS PREÇOS DE UMA LOJA DE BRINQUEDOS.

COMPLETE O QUADRO E, DEPOIS, RESOLVA:

Preço	Comprei	Gastei
		$5 + 5 = \square$ R\$ = <input type="text"/>
		$4 + 4 + 4 = \square$ R\$ = <input type="text"/>
		$2 + 2 + 2 + 2 = \square$ R\$ = <input type="text"/>

http://lerbrincaresercricao.blogspot.com/2014/10/blog-post_6.html

OLIVER E LORENA FORAM A ESSA LOJA DE BRINQUEDOS E COMPRARAM ALGUNS PRODUTOS.

A) OLIVER COMPROU UM JOGO DE DOMINÓ E UMA BOLA. QUANTO OLIVER GASTOU?

B) LORENA COMPROU UMA BONECA E UM JOGO DE DOMINÓ. QUANTO LORENA GASTOU?