










QUE PARQUE LINDO!
 VAMOS CONTAR AS FIGURAS QUE NELE APARECE?

ST

NOME

							
<input type="text"/>	<input type="text"/>	<input type="text"/>	<input type="text"/>	<input type="text"/>	<input type="text"/>	<input type="text"/>	<input type="text"/>



06/07


ESCOLA: _____
TURMA: _____ PROFESSOR(A): _____
EU SOU: _____



ATIVIDADES

PROBLEMINHA!

1- OBSERVE A IMAGEM DO QUADRO E RESPONDA COM ATENÇÃO.



QUANTAS NÚVENS?

QUANTOS CÍRCULOS?

QUANTAS CASAS?

QUANTOS QUADRADOS?

QUANTAS ÁRVORES?

QUANTOS TRIÂNGULOS?

QUANTOS CARROS?

QUANTAS FLORES?

ESCOLA: _____

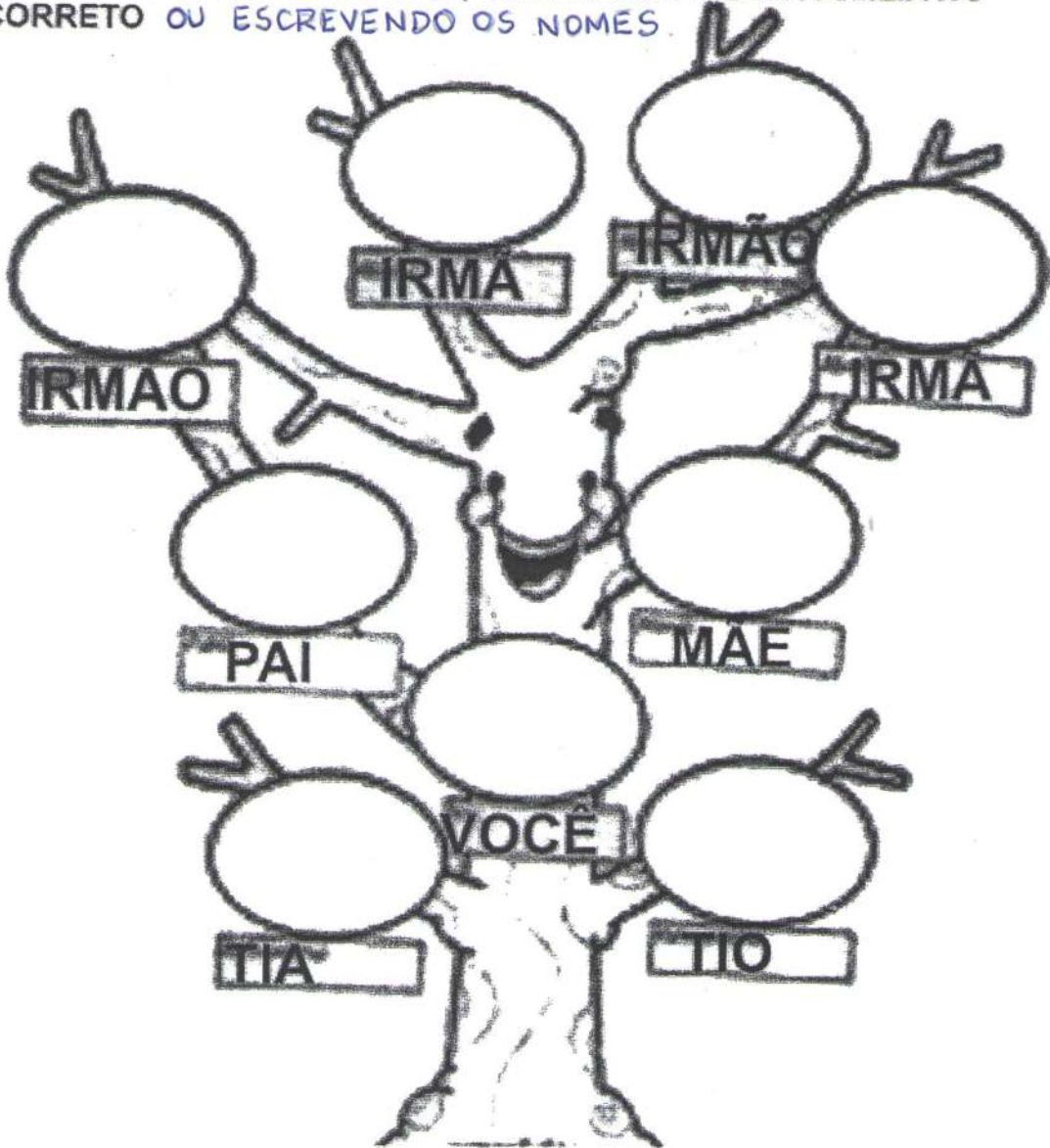
NOME: _____

PROFESSORA: _____

DATA: 06 / 07 / 2020

ATIVIDADE: _____

COMPLETE A ÁRVORE GENEALÓGICA, DESENHANDO SUA FAMÍLIA NO ESPAÇO CORRETO OU ESCRIVENDO OS NOMES.



3) COMPLETE AS FRASES DE ACORDO

IRMÃOS

AVÓS

PRIMO


A) O FILHO DO MEU TIO É MEU... _____

B) OS PAIS DOS MEUS PAIS SÃO MEUS.... _____

C) OS FILHOS DOS MEUS PAIS SÃO MEUS... _____

06/07/2020

**ESTA É A FAMÍLIA DE ZEZINHO E ANINHA. ELES
TÊM MAIS UM IRMÃOZINHO, O PAULINHO.
SEUS PAIS CHAMAM-SE ANTÔNIO E MARIA.**



E SUA FAMÍLIA, COMO É? VAMOS DESENHÁ-LA?



Escola: _____

Data: _____ Turma: _____ **EDUCALUNOS.COM**

Aluno: _____

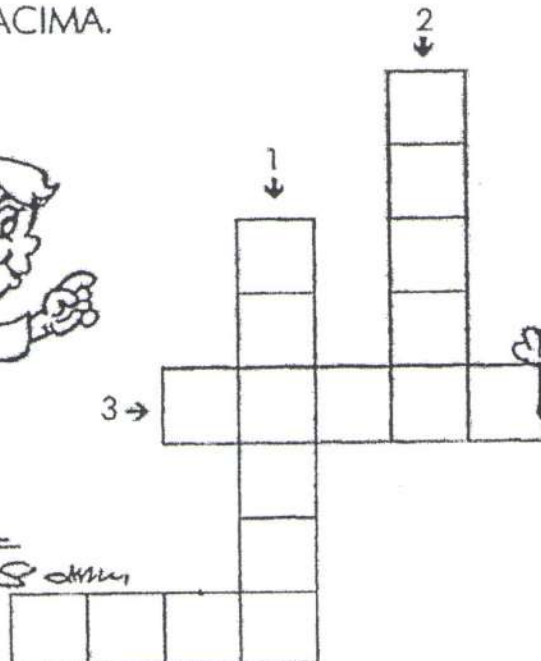
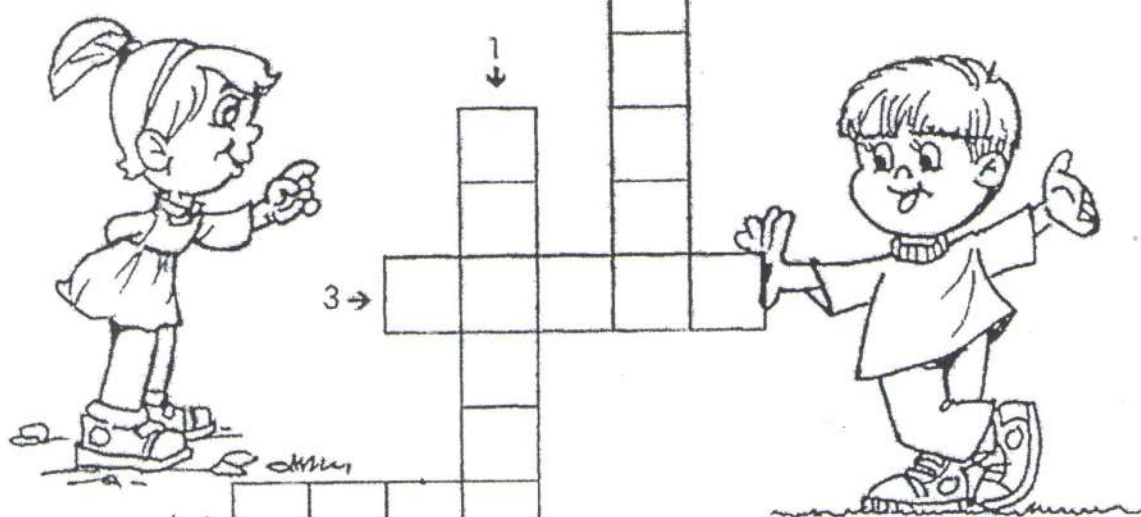
CIÊNCIAS

CRUZADINHA DA HIGIENE

OBSERVE OS DESENHOS ABAIXO E RESPONDA.

<p>1</p> <p>ZEZINHO ESTÁ ESCOVANDO OS:</p> <p>_____</p> 	<p>2</p> <p>PARA DORMIR DEVEMOS TROCAR DE:</p> <p>_____</p> 
<p>3</p> <p>BETE ESTÁ CORTANDO AS:</p> <p>_____</p> 	<p>4</p> <p>ANINHA VAI ALMOÇAR. ANTES ELA PRECISA LAVAR AS:</p> <p>_____</p> 

AGORA, PREENCHA A CRUZADINHA DE ACORDO COM AS RESPOSTAS ACIMA.

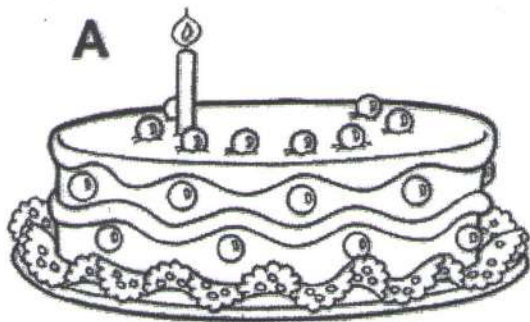



06/07

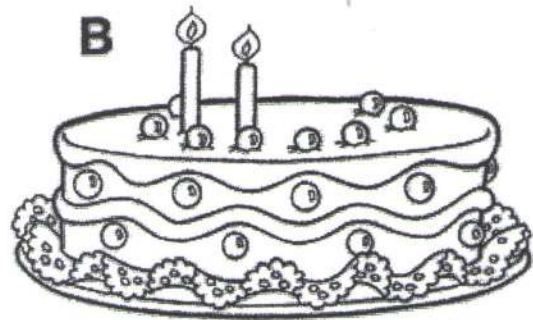
**FAÇA UM DESENHO PARA MOSTRAR
COMO VOCÊ CUIDA DA LIMPEZA DO
SEU CORPO.**



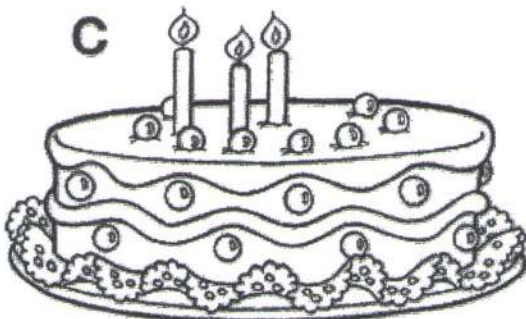
MAGALI ADORA OS DOCES DELICIOSOS QUE SUA TIA NENA FAZ. POR ISSO, PEDIU QUE ELA PREPARASSE ALGUNS BOLOS DE ANIVERSÁRIO. QUE TAL DESENHAR AS VELINHAS QUE ESTÃO FALTANDO, CONFORME AS OPERAÇÕES, E COMPLETAR A ADIÇÃO?




$$1 + \square = 5$$



$$2 + \square = 5$$



$$3 + \square = 5$$



$$4 + \square = 5$$

RESPOSTA: A-4; B-3; C-2; D-1