

NOME: \_\_\_\_\_

PROFESSOR (A): **MARÍLIA**

DATA: **28/7/2020**

**ATIVIDADE DE MATEMÁTICA**

- 1- MAGALI DESENHOU PARA SUA PROFESSORA 4 ABACAXIS E 3 MELANCIAS. QUANTAS FRUTAS ELA DESENHOU?



- 2- ROSINHA ENCONTROU UM NINHO COM 3 PASSARINHOS. CHEGARAM MAIS 6. QUANTOS PASSARINHOS TEM NO TOTAL?



- 3- NO SÍTIO DE CHICO BENTO TEM 5 GALINHAS E 3 VACAS. QUANTOS ANIMAIS ELE TEM AO TODO?



- 4- MAGALI PLANTOU PELA MANHÃ NO SEU JARDIM 6 FLORES E A TARDE MAIS 3. QUANTAS FLORES TEM NO JARDIM DELA?




NOME: \_\_\_\_\_

PROFESSOR (A): **MARÍLIA**

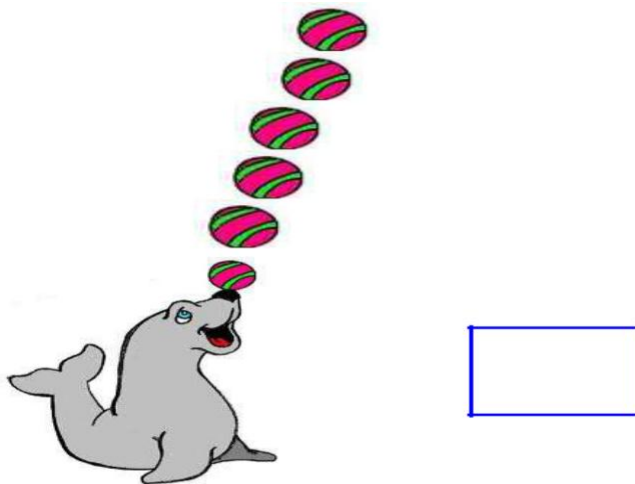
DATA: **29/7/2020**

**ATIVIDADE DE MATEMÁTICA**

1- QUANTAS BOLAS TÊM ESTA FOCA?



2- A FOCA FELIZ BRINCA COM 6 BOLAS. ELA VAI JOGAR DUAS PARA PÚBLICO. COM QUANTAS BOLAS ELA VAI FICAR BRINCANDO?



3- A FOCA FELIZ BRINCA COM 6 BOLAS. DESENHE AS QUANTIDADES DE BOLAS NECESSÁRIAS PARA COMPLETAR 20.



NOME: \_\_\_\_\_

PROFESSOR (A): **MARÍLIA**

DATA: **30/7/2020**

**ATIVIDADE DE MATEMÁTICA**

1- COMPLETAR O QUADRO NUMÉRICO.

0									9
					15				
20									
		32							
			43						
	51								

2- COMPLETAR COM O ANTECESSOR E O SUCESSOR.

\_\_\_\_\_ 5 \_\_\_\_\_

\_\_\_\_\_ 8 \_\_\_\_\_

\_\_\_\_\_ 10 \_\_\_\_\_

\_\_\_\_\_ 12 \_\_\_\_\_

\_\_\_\_\_ 17 \_\_\_\_\_

\_\_\_\_\_ 19 \_\_\_\_\_

3- COMPLETAR COM O NÚMERO QUE ESTÁ NO MEIO DO:

22 \_\_\_\_\_ 24

26 \_\_\_\_\_ 28

33 \_\_\_\_\_ 35

44 \_\_\_\_\_ 46

49 \_\_\_\_\_ 51

54 \_\_\_\_\_ 56

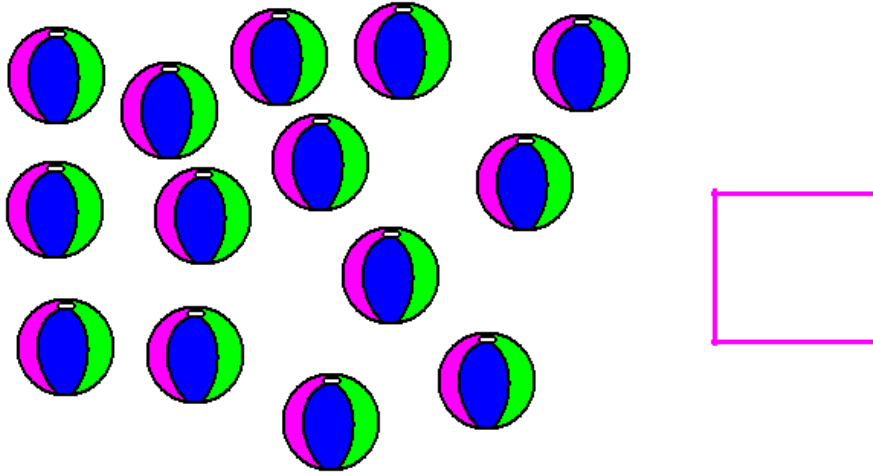
NOME: \_\_\_\_\_

PROFESSOR (A): **MARÍLIA**

DATA: **31/7/2020**

**ATIVIDADE DE MATEMÁTICA**

1- CONTE AS BOLAS QUE VINÍCIUS TEM PARA DISTRIBUIR IGUALMENTE ENTRE DUAS FOCAS.



2- DESENHE QUANTAS BOLAS FICARÃO COM CADA FOCA.



QUANTAS BOLAS CADA FOCA RECEBEU?

NOME: \_\_\_\_\_

PROFESSOR (A): **MARÍLIA**

DATA: **3/8/2020**

**ATIVIDADE DE MATEMÁTICA**

**1- CALENDÁRIO**

QUE TAL CONSTRUÍRMOS O CALENDÁRIO DO MÊS EM QUE ESTAMOS?

MÊS DE \_\_\_\_\_

<u>DOMINGO</u>	<u>SEGUNDA</u>	<u>TERÇA</u>	<u>QUARTA</u>	<u>QUINTA</u>	<u>SEXTA</u>	<u>SÁBADO</u>
X	X	X	X	X	X	1

A- QUANTOS DIAS TERÁ ESSE MÊS? \_\_\_\_\_

B- QUE DIA DA SEMANA COMEÇOU O MÊS? \_\_\_\_\_

C- EM QUE DIA DA SEMANA TERMINARÁ O MÊS? \_\_\_\_\_

D- QUE DIA DA SEMANA CAIRÁ O DIA 12? \_\_\_\_\_

E- QUANTOS SÁBADOS TERÁ ESSE MÊS? \_\_\_\_\_

F- QUE DIA DA SEMANA CAIRÁ O DIA 22? \_\_\_\_\_