

NOME: _____

PROFESSOR (A): _____ DATA: **14/7/2020**

ATIVIDADE DE MATEMÁTICA


- 1- MÔNICA LEU 5 GIBIS PELA MANHÃ E 7 GIBIS A TARDE. QUANTOS GIBIS ELA LEU NO TOTAL?



- 2- CEBOLINHA E MÔNICA ESTÃO BRINCANDO JUNTOS. ELE TROUXE 3 CARRINHOS E ELA 2 BONECAS. QUANTOS BRINQUEDOS ELES TÊM JUNTOS?



- 3- MÔNICA FOTOGRAFOU 5 BORBOLETAS GRANDES E CHEGARAM MAIS 4 BORBOLETAS PEQUENAS. QUANTAS BORBOLETAS VOAM AO TODO?



- 4- MAGALI ADORA SORVETE. ELA PEDIU 3 BOLAS NO SABOR DE CHOCOLATE E 4 DE MORANGO. QUANTAS BOLAS DE SORVETE ELA CHUPOU?



NOME: _____

PROFESSOR (A): _____ DATA: **16/7/2020**

ATIVIDADE DE MATEMÁTICA

1- CALENDÁRIO

QUE TAL CONSTRUÍRMOS O CALENDÁRIO DO MÊS EM QUE ESTAMOS?

MÊS DE _____

| <u>DOMINGO</u> | <u>SEGUNDA</u> | <u>TERÇA</u> | <u>QUARTA</u> | <u>QUINTA</u> | <u>SEXTA</u> | <u>SÁBADO</u> |
|----------------|----------------|--------------|---------------|---------------|--------------|---------------|
| | | | 1 | | | |
| | | | | | | |
| | | | | | | |
| | | | | | | |
| | | | | | | |

A- QUANTOS DIAS TERÁ ESSE MÊS? _____

B- QUE DIA DA SEMANA COMEÇOU O MÊS? _____

C- EM QUE DIA DA SEMANA TERMINARÁ O MÊS? _____

D- QUANTOS MESES FALTAM PARA ACABAR O ANO? _____

E- QUAIS DIAS CAÍRAM NO DOMINGO? _____

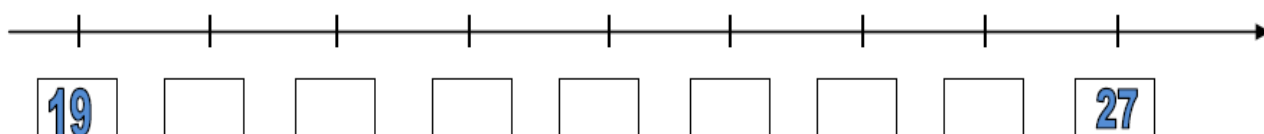
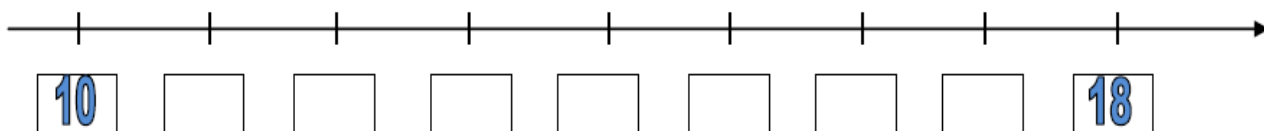
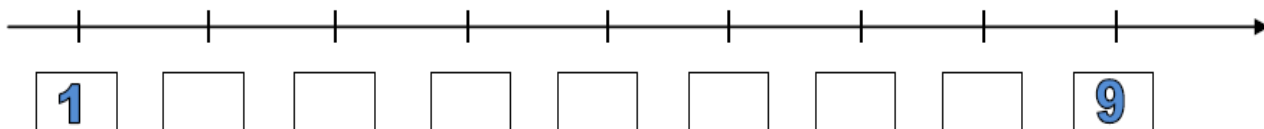
F- QUE DIA DA SEMANA CAIU O DIA 9? _____

NOME: _____


PROFESSOR (A): _____ DATA: **17/7/2020**

ATIVIDADE DE MATEMÁTICA


1- OBSERVE A RETA NUMÉRICA ABAIXO E COMPLETE A SEQUÊNCIA SOLICITADA:



2- DESENHE CONFORME A QUANTIDADE PEDIDA:



11




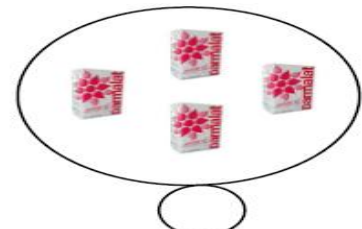
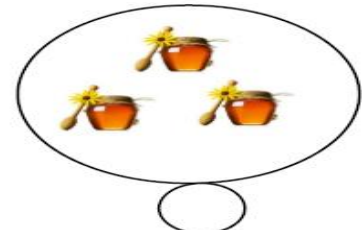

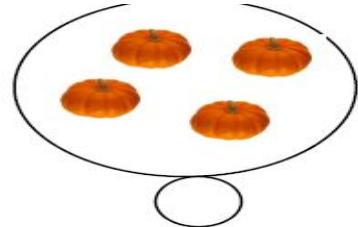

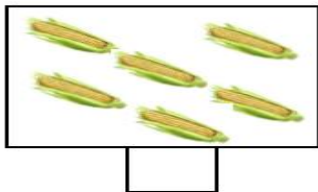
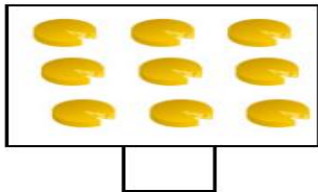

15

NOME: _____

PROFESSOR (A): _____ DATA: **20/7/2020**

ATIVIDADE DE MATEMÁTICA

1- CONTE E REGISTRE:



2- RESOLVA A SITUAÇÃO – PROBLEMA COM ATENÇÃO:

JOÃO GANHOU 3 QUEIJOS E 9 CENOURAS DE SUA MÃE. COM QUANTOS ALIMENTOS JOÃO FICOU?



