

C.I.M.E. CHAPEUZINHO VERMELHO”

PLANO SEMANAL - 3º ANO B - Profª Jaciara

Segunda- feira	Terça- feira	Quarta- feira	Quinta- feira	Sexta- feira
LÍNGUA PORTUGUESA FOLHA 1- Texto A Casa (complete de acordo com os desenhos). 2- Texto : O Bicho Folharal	LÍNGUA PORTUGUESA LIVRO DIDÁTICO Variação regional de vocabulário pgs 25 ,26 e 27	LÍNGUA PORTUGUESA LIVRO DIDÁTICO Ortografia Diferença entre fala e escrita pgs 28 e 29	LÍNGUA PORTUGUESA LIVRO DIDÁTICO Ortografia- R /RR pgs 42 e 43 Folha - Segmentação	LÍNGUA PORTUGUESA LIVRO DIDÁTICO Texto O polvo pgs 36, 37 ,38 e 39
MATEMÁTICA FOLHA Arme e efetue	MATEMÁTICA Folha Resolva as adições	MATEMÁTICA Folha Avaliação Situação problema	MATEMÁTICA LIVRO DIDÁTICO Pontos no jogo de dardos pg 49	MATEMÁTICA LIVRO DIDÁTICO Resolvendo problemas pg 50
CIÊNCIAS LIVRO DIDÁTICO LEITURA E FAZER OS EXERCÍCIOS DAS PÁGINAS 24 a 36	HISTÓRIA LIVRO DIDÁTICO Estudo no livro pgs 10,11,12,13,16,17,18,19,22 ,23 e 37	GEOGRAFIA LIVRO DIDÁTICO Estudo no livro - pgs 10 ,11,12,13,14,15 ,22 e 23	ARTE LIVRO DIDÁTICO LIVRO DIDÁTICO Pgs 13e 14	Arte e Língua Portuguesa LIVRO DIDÁTICO Leitura e fazer os exercícios pgs 15 e 16

**C.I.M.E. CHAPEUZINHO VERMELHO”
PLANO SEMANAL - 3º ANO B- Profª Jaciara**

Segunda- feira	Terça- feira	Quarta- feira	Quinta- feira	Sexta- feira
LÍNGUA PORTUGUESA LIVRO DIDÁTICO – Texto Eu Expresso sentimentos pgs 60 e 61 leitura e conversa com quem cuida de você. Folha – O Casamento na Mata	LÍNGUA PORTUGUESA LIVRO DIDÁTICO Poema – Tempestade pgs 62 e 63	LÍNGUA PORTUGUESA LIVRO DIDÁTICO Compreender o texto pgs 64 e 65	LÍNGUA PORTUGUESA LIVRO DIDÁTICO Ortografia R/RR - Pg 44 Folha - Copie o texto que segue, corrigindo-o da melhor forma.	LÍNGUA PORTUGUESA LIVRO DIDÁTICO Ortografia M/N pgs 69 e 70 Folha – Leia e descubra 8 palavras com erros no uso do M/N.
MATEMÁTICA LIVRO DIDÁTICO Localizando- se no bairro Pg 58	MATEMÁTICA LIVRO DIDÁTICO No Bairro Ecológico pg 59	MATEMÁTICA LIVRO DIDÁTICO O Que vai Acontecer pg 61 Folha Quadro numérico 800 e 899	MATEMÁTICA LIVRO DIDÁTICO Desafios pg 62 Folha Quadro Numérico 900 a 999	MATEMÁTICA LIVRO DIDÁTICO As Somas escondidas pg 67
CIÊNCIAS Folha Avaliação – Folha – 5 Maneiras de salvar o planeta	HISTÓRIA Folha Avaliação	GEOGRAFIA Folha Avaliação –	ARTE Folha Capa do bimestre	ARTE E LÍNGUA PORTUGUESA Livro didático Arte - leitura pgs 17 ,18e 19

2º BIMESTRE




EDUCAÇÃO FÍSICA- JOGOS E BRINCADEIRAS

Professora Cristiane.

Nome: _____

Data: _____

Série: _____



Você é o repórter !!!

Escolha uma pessoa de sua família que tenha mais de 30 anos e faça uma entrevista com ela, seguindo o roteiro abaixo:

- 1) Qual o seu nome?
- 2) Quando você nasceu? Em que cidade?
- 3) Que outras atividades, além de brincar, você realizava quando era criança ?
- 4) De qual atividade você gostava mais? Por quê?
- 5) Quais as brincadeiras de que você mais gostava ?

CIME 'Chapeuzinho Vermelho

Nome _____ 3º ANO data _____

AVALIAÇÃO DE MATEMÁTICA

1 – Maria Clara tinha 58 figurinhas e ganhou 10 num jogo. Quantas figurinhas ela tem agora ?

R _____

2 Guilherme tinha alguns cards , ganhou 15 num jogo e ficou com 76. Quantos cards ele tinha ?

R _____

3- João tinha 38 cards .Ganhou alguns e ficou com 81. Quantos cards ele ganhou ?

R _____

4 – Luis e Miguel estão colecionando figurinhas, Luis tem 26 e Miguel o dobro. Quantas figurinhas tem o Miguel ?

R _____

5 – Ana tem 12 bonecas e sua amiga tem a metade de sua quantidade. Quantas bonecas sua amiga tem ?

R _____

6 – Complete :

$$12 + 15 = \underline{\hspace{2cm}}$$

$$\underline{\hspace{2cm}} + \underline{\hspace{2cm}} = 14$$

$$\underline{\hspace{2cm}} + 9 = 18$$

7 – Samuel está na página 38 de um livro de 72 páginas. Quantas páginas faltam para ela terminar de ler o livro?

R _____

8 – Victor anotou os preços dos produtos que pretende comprar

PRODUTOS	PREÇO
1 pacote de feijão	R\$ 6,70
1 pacote de arroz	R\$ 12,40
Suco de uva	R\$ 7,80
1 kg de carne	R\$ 22,00
1 lata de leite em pó	R\$ 7,90

Responda :

A – Qual o produto mais caro da lista ?

B – Qual o produto mais barato ?

C - Com uma nota de R\$ 50,00 reais , Milena consegue comprar estes produtos ?

9 - Observe o calendário do mês e responda :

JUNHO - 2015						
domingo	segunda	terça	quarta	quinta	sexta	sábado
	1	2	3	4	5	6
7	8	9	10	11	12	13
14	15	16	17	18	19	20
21	22	23	24	25	26	27
28	29	30				

A - Pietro recebeu uma carta de sua amiga Sofia ,convidando para a sua festa de aniversário que será no dia 26 de junho deste ano. Localize esta data no calendário e descubra em que dia da semana será.

C.I.M.E " CHAPEUZINHO VERMELHO".

NOME _____ 3º ANO _____

AVALIAÇÃO DE HISTÓRIA - 2º BIMESTRE


1 – OBSERVE AS ILUSTRAÇÕES E COMPLETE AS FRASES COM AS PALAVRAS QUE ESTÃO NO QUADRO A SEGUIR :




ESCOLA MUNICIPAL - RUA - PRAÇA

TODOS OS DIAS LUIZ LEVA JENIFFER PARA A _____
DO BAIRRO .COM MUITO CUIDADO ,ELES ATRAVESSAM A _____
E CAMINHAM PELA _____ ,QUE ESTÁ SEMPRE CHEIA DE
AMIGOS DA ESCOLA.

2 – MARQUE COM UM (x) A SITUAÇÃO QUE MAIS SE RELACIONA COM O
SIGNIFICADO DA PALAVRA PÚBLICO :



()



()

3 –COMPLETE AS FRASES COM AS PALAVRAS DO QUADRO :


PALAFITA - SOBRADO – BARRACO – APARTAMENTO

- A) CASA COM DOIS OU MAIS ANDARES _____
- B) CASA APOIADA EM ESTAS NA BEIRA DOS RIOS _____

C) MORADIA FEITA DE RESTOS DE MADEIRA, PAPELÃO OU SUCATA

D) MORADIA LOCALIZADA EM PRÉDIO FORMADO POR VÁRIOS ANDARES

4 - MARQUE COM (L) ATIVIDADE DE LAZER , COM (T) ATIVIDADES DE TRABALHO E (C) CULTURAIS :



()


()

()

5- OBSERVE AS IMAGENS A SEGUIR E DEPOIS RESPONDA :



RUINAS DE UMA IGREJA, NO MUNICÍPIO DE SÃO MIGUEL.



PASSISTA DANÇANDO FREVO

AS IMAGENS ACIMA RETRATAM QUE TIPOS DE PATRIMÔNIO ?



BOA PROVA !!!!!

.C.IM.E "CHAPEUZINHO VERMELHO"


NOME: _____ 3º ANO _____

DATA: ___ / ___ / ___ PROFESSORA: _____

AVALIAÇÃO DE GEOGRAFIA

1 – OBSERVE AS FOTOS 1 E 2 :

1



2



1 – EM QUAL DAS FOTOS PREDOMINAM ELEMENTOS NATURAIS ?

2 QUE ELEMNETOS NATURAIS APARECEM NESSA FOTO ?

3 – EM QUAL FOTO PREDOMINAM ELEMENTOS CULTURAIS ?

4 – ESCREVA DOIS EXEMPLOS DE ELEMENTOS CULTURAIS QUE APARECEM NESSA FOTO.

5 – ESCREVA VISÃO VERTICAL E VISÃO OBLÍQUA :



BOA PROVA

AVALIAÇÃO DE CIÊNCIAS		2º BIMESTRE
ANO:	PROF ^a	DATA :
NOME :		

1 – O CACHORRO, GATO E O PAPAGAIO SÃO ANIMAIS VERTEBRADOS PORQUE POSSUEM :

() PELOS () PATAS () COLUNA VERTEBRAL () PENAS

2-MARQUE A OPÇÃO QUE CONTÉM APENAS ANIMAIS VERTEBRADOS :

- (A) JACARÉ, MINHOCA , FORMIGA
- (B) COELHO, LOMBRIGA , CUPIM
- (C) CACHORRO, GALINHA, MINHOCA
- (D) VACA, ELEFANTE, ONÇA

3 – RELACIONE CADA ANIMAL AS SUAS QUALIDADES :



NADA


VOA

TEM O CORPO COBERTO DE PENAS

TEM O CORPO COBERTO DE ESCAMAS

VIVE EM AMBIENTES AÉREOS

VIVE EM AMBIENTES AQUÁTICOS




4 – LEIA COM ATENÇÃO E MARQUE (V) VERDADEIRO (F)
FALSO :


() ANIMAIS INVERTEBRADOS SÃO AQUELES QUE TEM
COLUNA VERTEBRAL.


() OS INVERTEBRADOS PODEM SER DIVIDIDOS EM
AQUÁTICOS E TERRESTRES.

() OS VERTEBRADOS PODEM SER CLASSIFICADOS EM ;
MAMÍFEROS, AVES, PEIXES, ANFÍBIOS E REPTÉIS.

5 – CLASSIFIQUE OS ANIMAIS EM VERTEBRADOS E
INVERTEBRADOS :







C.I.M.E "CHAPEUZINHO Vermelho"

NOME _____ 3 ANO _____

Professora _____ data _____

Atividade



5 MANEIRAS DE SALVAR O PLANETA:

Jogue o lixo no lixo

A large, empty rounded rectangular box with a thin black border, intended for a student to draw or write about the first tip.

Cuide bem dos animais

A large, empty rounded rectangular box with a thin black border, intended for a student to draw or write about the second tip.

Participe de coletas de lixo seletivas

A large, empty rounded rectangular box with a thin black border, intended for a student to draw or write about the third tip.

Não jogue lixo nas praias

A large, empty rounded rectangular box with a thin black border, intended for a student to draw or write about the fourth tip.

Espalhe notícias sobre o meio ambiente.

A large, empty rounded rectangular box with a thin black border, intended for a student to draw or write about the fifth tip.


C.I.M.E "CHAPEUZINHO Vermelho"

NOME _____ 3 ANO _____

Professora _____ data _____

o Casamento na Mata

Hoje a mata está em festa
Todos estão a comemorar
Pois o pardal e a pardoca
Resolveram se casar
O padrinho e a madrinha
Foram o zangão e a abelha
Que vieram de carona
Com o carneiro e a ovelha
E todos os casais da mata
Até o bode e a cabra
Viraram a noite inteira
Dançando na festa animada.



Graça Batituci

- Colorir no texto os masculinos de vermelho e os femininos de azul.
- Leia as palavras do quadro abaixo e separe-as em dois grupos:

Carneiro	Leoa	Zangão	Leão
Bode	Égua	Coelho	Pardal
Ovelha	Cão	Pardoca	Abelha
Coelha	Cavalo	Cadela	Cabra

MASCULINOS

FEMININOS

C.I.M.E "CHAPEUZINHO Vermelho"

NOME _____ 3 ANO _____

Professora _____ data _____

REESCREVA O TEXTO ABAIXO PARA QUE POSSA SER LIDO.

TEREZINHA DE JESUS DE UMA
QUE DA FOIA O CHÃO ACUDIRAM
TRÊS CAVALHEIROS TODOS TRÊS
DE CHAPÉU NA MÃO O PRIMEIRO
FOI SEU PAI O SEGUNDO SEU
IRMÃO E O TERCEIRO FOI AQUELE
QUE A TEREZA DEU A MÃO.

A CASA

ESSA CASA É DE CACO,

QUEM MORA NELA É O _____




ESSA CASA TÃO BONITA,

QUEM MORA NELA É A _____



ESSA CASA DE CIMENTO,

QUEM MORA NELA É O _____



ESSA CASA DE TELHA,

QUEM MORA NELA É _____



ESSA CASA DE LATA,

QUEM MORA NELA É A _____



ESSA CASA É ELEGANTE,

QUEM MORA NELA É O _____



EU DESCOBRI, DE REPENTE,

QUE NÃO FALEI DE CASA DE _____



Escola: _____

Ano/Turma: _____ Data: _____

Aluno: _____

Leia o texto e responda às questões a seguir.

O Bicho Folharal

A onça era forte e autoritária, mas sempre era enganada pela raposa, que era muito esperta e ligeira e sempre conseguia fugir dela.

A onça, um dia, se cansou de ser enganada pela raposa e resolveu atrair a inimiga. Para isso espalhou a notícia de que havia morrido.

Deitou-se no chão de sua toca e fingiu-se de morta.

Todos os animais da floresta ficaram felizes e foram ver a onça morta. A raposa também foi, mas ficou desconfiada e quis ter certeza de que a onça não estava fingindo.

Antes de entrar na toca, gritou:

- Minha avó, quando morreu, espirrou três vezes. Espirrar é o sinal da morte.

A onça espirrou três vezes e a raposa fugiu, dando risada.

Como naquele ano havia seca no sertão e somente uma **cacimba** tinha ainda um pouco de água, a onça resolveu pegar a raposa. Como? Muito simples: faria isso quando a raposa fosse beber água. Então a onça ficou à espera da raposa, perto da cacimba, dia e noite.

A raposa ficou sabendo da **tocaia** e conseguiu passar três dias sem beber água. Mas, quando já não aguentava mais de sede, resolveu se disfarçar para enganar a onça e ir até a cacimba. Passou mel por todo o corpo e rolou em um monte de folhas secas, que se colaram em seus pelos e a cobriram toda.

De noite, foi à cacimba.

A onça, vendo um animal desconhecido, perguntou:

- Que bicho é você? Nunca o vi por aqui.

- Sou o bicho folharal. Posso beber água?

- Pode, sim.

A raposa entrou na cacimba e foi matar a sede.

A onça, vendo-a beber demais, como quem estava com sede há vários dias, ficou observando.

A água derreteu o mel e as folhas foram caindo. Quando a última folha caiu, a onça reconheceu a adversária e pulou sobre ela. Mas a raposa, mais uma vez, conseguiu fugir.

Domínio público

Vocabulário

Cacimba: pequeno buraco onde se acumula água, como em um poço; poça d'água.

Tocaia: emboscada; ficar à espreita ou esperando o inimigo, escondido em algum lugar, para atacá-lo.

1. Quais são as principais personagens da história?

2. Por que a raposa falou que sua avó espirrou três vezes quando morreu?

3. Por que esse conto se chama "O Bicho Folharal"?

4. Qual dessas frases indica o que aconteceu no fim do texto?

A A esperteza venceu a força.

B A força venceu a esperteza.