




2º Ano – Raquel Sueli Soeiro Camargo

29 DE JUNHO DE 2020

SEGUNDA-FEIRA

RESPONDAM NO , NÃO HÁ NECESSIDADE DE COPIAREM A PERGUNTA!



HOJE IREMOS TRABALHAR COM AS PÁGINAS 30 E 31 DO NOSSO LIVRO DE MATEMÁTICA – ENSINO FUNDAMENTAL – ANOS INICIAIS 2º ANO.

"A PINTURA DA CERCA"

"OS DESENHOS DE LARA"



CIME "PROFESSORA JACYRA RIBEIRO GUILARDI"  
RODOVIA MUNICIPAL 379  
BAIRRO BOA VEREDA – AMPARO – SP  
FONE (FAX) – 19 – 3807-9793

TERMINANDO A ATIVIDADE, TIRE UMA  
E  
ENVIE PARA A PROFESSORA ANALISAR!





2º Ano – Raquel Sueli Soeiro Camargo

30 DE JUNHO DE 2020  
TERÇA-FEIRA

RESPONDAM NO , NÃO HÁ NECESSIDADE DE COPIAREM A PERGUNTA!



1) DITADO DE NÚMEROS. (ÁUDIO NO GRUPO)

2) COMPLETE AS ESCRITAS ABAIXO:

A)  $1 + \underline{\quad} = 10$

B)  $\underline{\quad} + 6 = 10$

C)  $7 + \underline{\quad} = 10$

D)  $\underline{\quad} + 2 = 10$

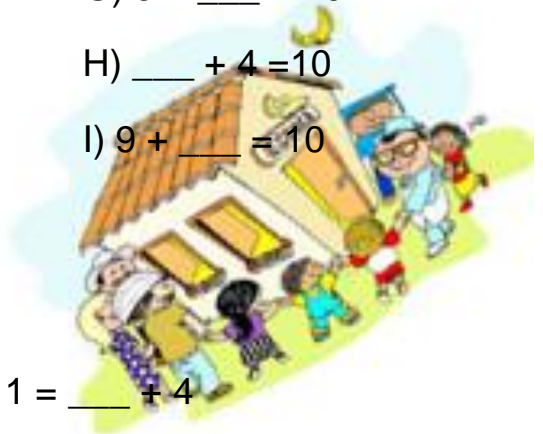
E)  $3 + \underline{\quad} = 10$

F)  $\underline{\quad} + 8 = 10$

G)  $5 + \underline{\quad} = 10$

H)  $\underline{\quad} + 4 = 10$

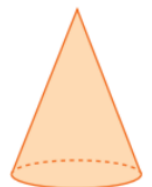
I)  $9 + \underline{\quad} = 10$



3) COMPLETE:

A)  $2 + 8 = 3 + \underline{\quad}$  B)  $9 + 1 = \underline{\quad} + 4$

HOJE IREMOS CONHECER UM POUCO SOBRE AS FIGURAS GEOMÉTRICAS: "CONE"



VAMOS ASSISTIR AO VÍDEO PARA APRENDER UM POUCO MAIS SOBRE ESSE SÓLIDO GEOMÉTRICO?

[https://youtu.be/\\_gEm11EDh5U](https://youtu.be/_gEm11EDh5U)



AGORA, SOZINHO OU JUNTO COM UM RESPONSÁVEL, VAMOS LER OS EXERCÍCIOS DA PÁGINA 52 NOSSO LIVRO DE MATEMÁTICA – ENSINO FUNDAMENTAL – ANOS INICIAIS 2º ANO. VAMOS LÁ!

TERMINANDO A ATIVIDADE, TIRE UMA  
E



ENVIE PARA A PROFESSORA ANALISAR!



2º Ano – Raquel Sueli Soeiro Camargo

01 DE JULHO DE 2020  
QUARTA-FEIRA

**RESPONDAM NO , NÃO HÁ NECESSIDADE DE COPIAREM A PERGUNTA!**

1) MARTA PERGUNTOU A MARCOS: VOCÊ SEMPRE CONTA DE 1 EM 1? OU FAZ CONTAGENS DE 2 EM 2, 3 EM 3, DE 4 EM 4?

A) E VOCÊ? COMO COSTUMA FAZER CONTAGENS?

B) CONTE OS CORACÕES DE 2 EM 2 E ESCREVA QUANTOS SÃO?



C) CONTE AS ESTRELAS DE 3 EM 3 E ANOTE QUANTAS SÃO?



D) CONTE AS LUAS DE 4 EM 4 E REGISTRE QUANTAS SÃO?





2º Ano – Raquel Sueli Soeiro Camargo

- 2) CATARINA TEM 15 PULSIRAS AZUIS E 4 PULSEIRAS COR-DE-ROSA. QUANTAS PULSEIRAS ELA TEM?
  
- 3) JULIANA TINHA ALGUMAS FIVELAS. GANHOU 7 DE SUA MADRINHA E FICOU COM 13. QUANTAS FIVELAS ELA POSSUÍA INICIALMENTE?
  
- 4) RENATA TINHA 12 TIARAS E DEU 6 PARA SUA PRIMA. COM QUANTAS TIARAS ELA FICOU?
  
- 5) PEDRO TINHA 8 ADESIVOS. GANHOU ALGUNS DE SUA MÃE E FICOU COM 18 ADESIVOS. QUANTOS ELE GANHOU?
  
- 6) LUANA TEM 15 LÁPIS E GIOVANA TEM MENOS LÁPIS QUE LUANA. QUANTOS LÁPIS GIOVANA PODE TER?



CIME "PROFESSORA JACYRA RIBEIRO GUILARDI"  
RODOVIA MUNICIPAL 379  
BAIRRO BOA VEREDA – AMPARO – SP  
FONE (FAX) – 19 – 3807-9793



TERMINANDO A ATIVIDADE, TIRE UMA  
E  
ENVIE PARA A PROFESSORA ANALISAR!





2º Ano – Raquel Sueli Soeiro Camargo

02 DE JULHO DE 2020

QUINTA-FEIRA

RESPONDAM NO  , NÃO HÁ NECESSIDADE DE COPIAREM A PERGUNTA!



1) RESOLVA OS EXERCÍCIOS DA PÁGINA 72 E 86 DO NOSSO LIVRO DE MATEMÁTICA – ENSINO FUNDAMENTAL – ANOS INICIAIS 2º ANO.



**“PARA COMPLETAR”**

**“A CORRIDA DOS ANIMAIS”**

CIME "PROFESSORA JACYRA RIBEIRO GUILARDI"  
RODOVIA MUNICIPAL 379  
BAIRRO BOA VEREDA – AMPARO – SP  
FONE (FAX) – 19 – 3807-9793

TERMINANDO A ATIVIDADE, TIRE UMA  
E  
ENVIE PARA A PROFESSORA ANALISAR!





2º Ano – Raquel Sueli Soeiro Camargo

03 DE JULHO DE 2020

SEXTA-FEIRA

RESPONDAM NO , NÃO HÁ NECESSIDADE DE COPIAREM A PERGUNTA!

**RESOLVA AS OPERAÇÕES ABAIXO USANDO SUAS EXTRATÉGIAS, OU SEJA, ATRAVÉS DE DESENHO.**

- A)  $19 + 13 =$
- B)  $24 - 12 =$
- C)  $34 - 29 =$
- D)  $14 + 23 =$

2) PAULO TEM UMA DEZENA DE BOLINHAS DE GUDE. MARCOS TEM UMA DÚZIA.

- A) QUANTAS BOLINHAS PAULO TEM?
- B) E QUANTAS BOLINHAS MARCOS TEM?
- C) QUEM TEM MAIS BOLINHAS?
- D) QUANTAS BOLINHAS OS DOIS TÊM JUNTOS?



3) OBSERVE A TABELA ABAIXO E RESONDA AS QUESTÕES.

VENDAS DA QUITANDA

FRUTAS	NÚMERO DE FRUTAS VENDIDAS
MAÇÃS	32
PERAS	23
ABACAXIS	24



2º Ano – Raquel Sueli Soeiro Camargo

- A. QUANTAS COLUNAS A TABELA POSSUI?
- B. E LINHAS?
- C. ELA POSSUI UM TÍTULO? QUAL?
- D. QUE INFORMAÇÃO ENCONTRAMOS NA PRIMEIRA COLUNA?
- E. QUE FRUTAS SÃO VENDIDAS NESSA QUITANDA?
- F. QUANTAS PERAS FORAM VENDIDAS?
- G. QUAL FRUTA FOI VENDIDO 24 UNIDADES?
- H. QUAL FRUTA VENDEU MAIS UNIDADES?



CIME "PROFESSORA JACYRA RIBEIRO GUILARDI"  
RODOVIA MUNICIPAL 379  
BAIRRO BOA VEREDA – AMPARO – SP  
FONE (FAX) – 19 – 3807-9793

TERMINANDO A ATIVIDADE, TIRE UMA  
E  
ENVIE PARA A PROFESSORA ANALISAR!

