




NOME:



- AS CRIANÇAS ESTÃO BRINCANDO DE FORMAR CONJUNTOS, DE ACORDO COM OS NÚMEROS SORTEADOS. VAMOS CONTAR PARA DESCOBRIR QUANTAS CRIANÇAS PODEMOS OBSERVAR EM CADA CONJUNTO QUE ELAS FORMARAM:











































NOME: \_\_\_\_\_

DATA: \_\_\_\_\_

www.mestredosaber.com.br

DESCUBRA OS NÚMEROS QUE ESTÃO NO LUGAR DOS SÍMBOLOS.

1	2	3		5			8		
11			14		16	17		19	20
21		23		25	26		28		30
31	32		34	35		37		39	40
41	42	43			46			49	50







	<input type="text"/>		<input type="text"/>		<input type="text"/>		<input type="text"/>
	<input type="text"/>		<input type="text"/>		<input type="text"/>		<input type="text"/>
	<input type="text"/>		<input type="text"/>		<input type="text"/>		<input type="text"/>
	<input type="text"/>		<input type="text"/>		<input type="text"/>		<input type="text"/>
	<input type="text"/>		<input type="text"/>		<input type="text"/>		<input type="text"/>

NOME: \_\_\_\_\_


### GRÁFICO BRINCANDO COM CARTAS

AMANDA E SEUS AMIGOS ESTAVAM BRINCANDO DE VER QUEM CONSEGUIA MAIS PONTOS AO SORTEAR AS CARTAS DO JOGO DAS CARTAS DOS ANIMAIS.

OBSERVE A TABELA ABAIXO E DESCUBRA QUAIS CARTAS CADA CRIANÇA SORTEOU:

CRIANÇA	CARTAS	QUANTIDADE	NÚMERO
AMANDA			
MARIANA			
CAIO			
ELIAS			
ALICE			
GIOVANA			

- AGORA, COMPLETE O GRÁFICO ABAIXO DE ACORDO COM O NÚMERO DE ANIMAIS DE CADA CARTA, QUE CADA CRIANÇA CONSEGUIU, NESTA BRINCADEIRA:



















- COMPLETE A RETA NUMÉRICA COM OS NÚMEROS FALTOSOS:



NOME: \_\_\_\_\_ DATA: \_\_/\_\_/\_\_\_\_

REGISTRE A QUANTIDADE DE CADA DADO, DEPOIS  
RESOLVA A ADIÇÃO:

			
$\square + \square = \square$		$\square + \square = \square$	
			
$\square + \square = \square$		$\square + \square = \square$	
			
$\square + \square = \square$		$\square + \square = \square$	
			
$\square + \square = \square$		$\square + \square = \square$	