




Lingua Portuguesa

Páginas: 02, 03, 04 e 05



MATEMÁTICA

Páginas: 06, 07, 08 e 09



Geografia


Páginas: 10 e 11



VAMOS CANTAR?

O BALÃO

O BALÃO VAI SUBINDO
VEM CAINDO A GAROA
O CÉU É TÃO LINDO
E A NOITE É TÃO BOA
SÃO JOÃO, SÃO JOÃO,
ACENDE A FOGUEIRA
DO MEU CORAÇÃO



- Você conhece esta música? Vamos cantá-la?

1) Leia o texto com atenção:

O BALÃO VAI SUBINDO
VAI CAINDO A GAROA
O CÉU É TÃO LINDO
E A NOITE É TÃO BOA.
SÃO JOÃO, SÃO JOÃO
ACENDE A FOGUEIRA
DO MEU CORAÇÃO.



2) Copiar do texto as palavras que faltam para completá-lo:

O vai subindo

Vai caindo a

O é tão lindo

E a é tão boa.

São , João

Acende a

do meu



Chico Bento escreveu várias coisas que aparecem na festa junina. Leia as palavras e escreva cada uma no lugar adequado:

BOCA DO PALHAÇO

QUENTÃO

MILHO COZIDO

PIPOCA

PÉ-DE-MOLEQUE

QUADRILHA

CUSCUZ

COCADA


BOLA NA LATA

CANJICA

PESCARIA

REFRIGERANTE

COMIDA	BEBIDA	BRINCADEIRA / DANÇA



NOME: _____ DATA: ____/____/____


JOGO DA MEMÓRIA JUNINO (PINTE, RECORTE E BRINQUE.)



RECORTANDO E COLANDO


Recorte as fichas abaixo e cole-as no lugar certo.

O que vem antes?



	68	
	71	
	39	
	56	
	83	
	90	






O que vem depois?



67	69	38	55	40	82
89	70	84	72	57	91



RESOLVA AS SITUAÇÕES PROBLEMAS

1- UMA  TEM  E ELA GANHOU MAIS    . COM QUANTOS LÁPIS ELA FICOU NO TOTAL?

2- MATHEUS GANHOU 1 ÁLBUM, 11 ADESIVOS E 4 DADOS. COM QUANTOS OBJETOS ELE FICOU?

3- EU TENHO 4 SELOS EM UMA DAS MÃOS E 5 NA OUTRA. QUANTOS SELOS TENHO NAS 2 MÃOS?

4- NO JOGO DE BASQUETE O TIME AZUL FEZ 26 PONTOS E O TIME VERMELHO FEZ 22 PONTOS. POR QUANTOS PONTOS O TIME VERMELHO PERDEU?




16/06

ATIVIDADE 4 - FORMAS E MARCAS

TRILHA DE CONHECIMENTOS ▶▶▶

BRINQUEDOS E FORMAS

1. ANDRÉ PRESTOU ATENÇÃO ÀS FORMAS DE ALGUNS BRINQUEDOS:



E PERCEBEU ALGUMAS CARACTERÍSTICAS COMUNS E TAMBÉM ALGUMAS DIFERENÇAS ENTRE ELAS. E VOCÊ, O QUE OBSERVA?

2. A MÃE DE ANDRÉ EXPLICOU A ELE QUE AS FORMAS DESSES OBJETOS TÊM ALGUNS NOMES ESPECIAIS E ELE FICOU CURIOSO PARA APRENDÊ-LOS. QUE TAL APRENDER TAMBÉM?

A BOLA TEM FORMA DE ESFERA. DESENHE OU ESCREVA O NOME DE OUTROS OBJETOS QUE TÊM ESSA FORMA:



MÊS DE JUNHO

DOMINGO	SEGUNDA-FEIRA	TERÇA-FEIRA	QUARTA-FEIRA	QUINTA-FEIRA	SEXTA-FEIRA	SÁBADO

A) QUANTOS DIAS TEM ESTE MÊS? _____

B) QUANTOS SÃO OS DOMINGOS? _____

C) EM QUE DIA DA SEMANA CAI O ÚLTIMO DIA DO MÊS?

D) EM QUAIS DIAS CAIRÃO AS QUINTAS-FEIRAS?

E) SE HOJE FOSSE DIA 15 E VOCÊ VIAJASSE DAQUI A 7 DIAS, SUA VIAGEM CAIRIA EM QUAL DIA DA SEMANA?

F) QUAL SERÁ O PRÓXIMO MÊS?





MUITO MAIS DO QUE ISCA: EMBARQUE EM UMA VIAGEM SUBTERRÂNEA PELO MUNDO CURIOSO DAS MINHOCAS

NOVA ESPÉCIE DE MINHOCA ENCONTRADA ÀS MARGENS DO RIO VERDE, EM ITABERÁ/SP (FOTO: SAMUEL JAMES)

HOJE É DIA DE FAZER UMA VIAGEM SUBTERRÂNEA! VAMOS CONHECER UM DOS MAIS IMPORTANTES E INCOMPREENSÍVEIS ANIMAIS DA NATUREZA: A MINHOCA. MAS PODE GUARDAR A VARA DE PESCAR, PORQUE ESSE BICHO É MUITO MAIS DO QUE UM SIMPLES AJUDANTE NA CAÇA AOS PEIXES. A MINHOCA CONTRIBUI DE VÁRIAS MANEIRAS PARA MELHORAR AS PROPRIEDADES DO SOLO. PARA COMEÇAR, OS BURACOS QUE ELA FAZ NA TERRA AJUDAM A AREJÁLA E PERMITEM QUE A ÁGUA CIRCULE MELHOR POR ALI. ALÉM DISSO, O SEU COCÔ É CHEIO DE NUTRIENTES QUE ENRIQUECEM O SOLO. TUDO ISSO É BOM PARA AS PLANTAS, QUE RETIRAM DA TERRA A ÁGUA E OS NUTRIENTES QUE PRECISAM PARA CRESCER. A PRESENÇA DE MINHOCAS EM UM SOLO, PORÉM, NÃO GARANTE, NECESSARIAMENTE, A SUA QUALIDADE. “AS MINHOCAS CONTRIBUEM PARA A MELHORIA DA TERRA, MAS NÃO SÃO TÃO EFICIENTES QUANTO UM FERTILIZANTE, POR EXEMPLO”, EXPLICA GEORGE BROWN, AGRÔNOMO DA EMPRESA BRASILEIRA DE AGROPECUÁRIA (EMBRAPA). (...) <http://chc.org.br/muito-mais-do-que-isca/>

.1 COMO OS BURACOS FEITOS PELAS MINHOCAS AJUDAM A MELHORAR O SOLO?

2 COMO A MINHOCA NOS AJUDA A CAÇAR O PEIXE?





Atividades do livro



Livro didático de Geografia páginas **20** e **21**
Bairro: Lugar de convívio

Livro didático de Geografia páginas **22** e **23**
Localizando os lugares, enviando cartas



EDUCAÇÃO FÍSICA



Clique no link para acessar a aula de Educação Física com a Professora Cássia.



<https://drive.google.com/file/d/1ut0ieZ78GYi8mLMM5UI-G78NzXLvifve/view?usp=sharing>



COLORIR

CACHORRO
ROMERO
BRITO

