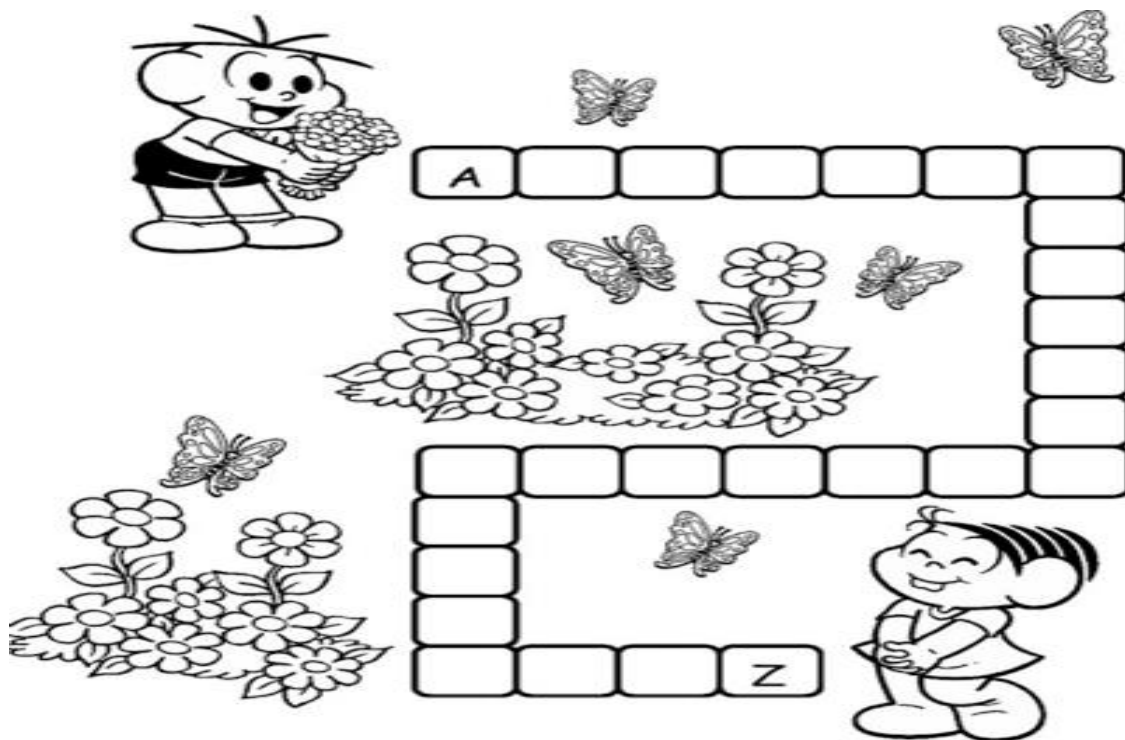


ATIVIDADES DE LÍNGUA PORTUGUESA

1- ESCREVA O SEU NOME E SOBRENOME.


2 – COMPLETE O ALFABETO E PINTE AS VOGAIS DE AZUL:




3 – ESCREVA OS NOMES ABAIXO EM ORDEM ALFABÉTICA:



4 – ESCREVA O NOME DAS FIGURAS ABAIXO:



5 – FORME FRASES COMAS FIGURAS ABAIXO:



Two horizontal lines forming a writing space for the word 'butterfly'.



Two horizontal lines forming a writing space for the word 'horse'.



Two horizontal lines forming a writing space for the word 'witch'.



Two horizontal lines forming a writing space for the word 'house'.

6 – ESCREVA A MÚSICA “O SAPO NÃO LAVA O PÉ” NO ESPAÇO ABAIXO:

A series of ten horizontal lines provided for writing the lyrics of the song 'O Sapo não lava o pé'.

ATIVIDADES DE MATEMÁTICA

1- OBSERVE OS NÚMEROS ABAIXO.

53	16	31	25	8
----	----	----	----	---


COLOQUE-OS EM ORDEM CRESCENTE.

--	--	--	--	--

2- OBSERVE OS NÚMEROS ABAIXO E FAÇA UM CÍRCULO NO MAIOR.

46	15	24	65	30
----	----	----	----	----

3- DESENHE NO BOLO AS VELHINHAS QUE INDICAM QUANTOS ANOS VOCÊ TEM E AO LADO ESCREVA O SÍMBOLO NUMÉRICO QUE REPRESENTA A SUA IDADE.

	
---	--

4 -COMPLETE O QUADRO COM OS NÚMEROS QUE ESTÃO FALTANDO.

0	1	2				6	7		9
10			13	14		16		18	
	21	22	23		25		27		29
30			33	34	35				39
	41					46		48	

5 - COMPLETE O CALENDÁRIO DO MÊS DE MAIO E RESPONDA AS QUESTÕES.

mês:



DOM	SEG	TER	QUA	QUI	SEX	SAB

A - QUANTOS DIAS TEM O MÊS DE MAIO?

B - QUANTOS SÃO OS DOMINGOS?

C - QUANTOS SÃO OS SÁBADOS?



D - QUANTOS DIAS TEM UMA SEMANA?

E - QUAIS SÃO OS NOMES DOS DIAS DA SEMANA?

6- RESOLVA AS ADIÇÕES.

$5 + 2 = \underline{\quad}$	$3 + 8 = \underline{\quad}$	$5 + 4 = \underline{\quad}$	$3 + 7 = \underline{\quad}$	$6 + 1 = \underline{\quad}$
$7 + 2 = \underline{\quad}$	$5 + 5 = \underline{\quad}$	$7 + 4 = \underline{\quad}$	$10 + 1 = \underline{\quad}$	$8 + 5 = \underline{\quad}$

7 -OBSERVE OS OBJETOS E RESPONDA:

<p>BRINQUEDOS DE MATEUS</p> 	<p>BRINQUEDOS DE CAIO</p> 
---	---

A -QUANTOS CARRINHOS TEM O MATHEUS?

B -QUANTAS PIPAS TEM O CAIO?

C -QUEM TEM MAIS BRINQUEDOS?

D -QUANTOS BRINQUEDOS MATEUS PRECISA GANHAR PARA FICAR COM A MESMA QUANTIDADE QUE DE CAIO?

EMEF "RAUL DE OLIVEIRA FAGUNDES"

NOME: _____ Nº _____

PROFESSORA: _____

2º ANO ___ DATA _____

ATIVIDADES DE HISTÓRIA

1 – OBSERVE O CALENDÁRIO E RESPONDA:

MARÇO 2020						
DOM	SEG	TER	QUA	QUI	SEX	SÁB
1	2	3	4	5	6	7
8	9	10	11	12	13	14
15	16	17	18	19	20	21
22	23	24	25	26	27	28
29	30	31				

A) QUANTOS DIAS TEM O MÊS DE MARÇO? _____

B) QUANTOS SÃO OS DOMINGOS? _____

C) QUE DIA DA SEMANA FOI DIA 20? _____

D) QUANTOS DIAS TEM UMA SEMANA? _____

E) QUAL É O PRIMEIRO DIA DA SEMANA? _____

2 – ESCREVA O NOME DOS DIAS DA SEMANA:

3 – OS RELÓGIOS MEDEM A PASSAGEM DO TEMPO EM:

() DIAS

() HORAS

() MINUTOS

() MESES

() SEGUNDOS

4 – QUAL É O SEU PERÍODO DE AULA?

() MANHÃ

() TARDE

() NOITE

5 – ESCREVA E DESENHE O QUE VOCÊ FAZ:

MANHÃ	TARDE	NOITE

EMEF "RAUL DE OLIVEIRA FAGUNDES"

NOME: _____ Nº _____

PROFESSORA: _____

2º ANO ____ DATA _____

ATIVIDADES DE GEOGRAFIA

1 – ESTE É MEU ENDEREÇO:

NOME DA RUA: _____

NÚMERO DA CASA: _____

NOME DO BAIRRO: _____

CIDADE: _____

ESTADO: _____

2 – O NOME DO MEU PAÍS É:

() BRASÍLIA

() JAPÃO

() BRASIL

3 – NO BAIRRO ONDE MORO TEM:

() SÓ CASAS

() PRÉDIOS

() SUPERMERCADO

() PADARIA

() CORREIO

() PAPELARIA

() HOSPITAL

() PRAÇA

4-DESENHE SUA RUA E ESCREVA UM PONTO DE REFERÊNCIA.


(1,0)

5 – ESCREVA O NOME DA SUA ESCOLA E DESENHE-A.



6 – DESENHE A SUA SALA DE AULA. PROCURE COLOCAR MUITOS DETALHES E ESCREVA.

SALA Nº _____
2º ANO _____
Nº DE ALUNOS _____



EMEF "RAUL DE OLIVEIRA FAGUNDES"

NOME: _____ Nº _____

PROFESSORA: _____

2º ANO ____ DATA _____

ATIVIDADES DE CIÊNCIAS

1 – ESCREVA 2 CUIDADOS IMPORTANTES PARA MANTER UMA BOA SAÚDE.

2- OBSERVE A FIGURA A SEGUIR.

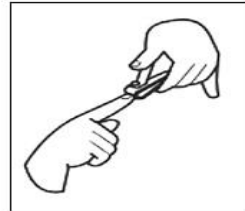

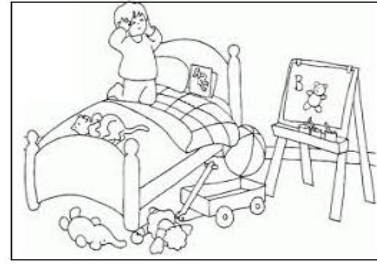



PORQUE VOCÊ ACHA QUE O MENINO FICOU DOENTE?

3 – ESCREVA E DESENHE 2 HÁBITOS DE HIGIENE.

<hr/> <hr/> <hr/>	<hr/> <hr/> <hr/>
-------------------	-------------------

4 – PINTE SOMENTE O QUE REPRESENTA BONS HÁBITOS DE HIGIENE E ESCREVA SOBRE ELES.



4- APRENDEMOS QUE A DENGUE É UMA DOENÇA MUITO PERIGOSA. OBSERVE O DESENHO, COPIE AS PALAVRAS NO LUGAR QUE INDICA O QUE A CRIANÇA ESTÁ SENTINDO:

FEBRE	MANCHAS VERMELHAS	DOR DE CABEÇA	VÔMITOS	FALTA DE APETITE
--------------	--------------------------	----------------------	----------------	-------------------------

