

AMPARO – EMEF PROFESSORA CLARINDA DE ALMEIDA MELLO

Atividade 22/06 a 03/07/2020





SÉRIE: 2º A

PROFESSORA: HILCA SOUZA AGUILAR.

ALUNO: _____

Atividades de Matemática

1) Cálculos mentais:



2) Observe os números abaixo:

58 – 27 – 35 – 12 – 42 – 169 – 7 – 94 – 281 –

a) Copie os números na ordem crescente:

b) Copie todos os números pares:

c) Copie todos os números ímpares:

d) Escreva por extenso o maior número representado acima.

Fonte: amorensina.com