

NOME: _____

PROFESSOR (A): _____ DATA: **30/6/2020**

ATIVIDADE DE MATEMÁTICA

1- O MACACO FALOU PARA O CAMILÃO: __UM CACHO INTEIRO EU NÃO VOU DAR, MAS TOME MEIA DÚZIA DE BANANAS. O NÚMERO QUE REPRESENTA MEIA DÚZIA É:

2 4 6 8

2- SE EM UMA CESTA HÁ UMA DÚZIA DE BANANAS ENTÃO, POSSO DIZER QUE TENHO QUANTAS BANANAS?

10

11

12

13

3- DESENHE:

MEIA DÚZIA:


UMA DÚZIA:

NOME: _____

PROFESSOR (A): _____ DATA: **2/7/2020**

ATIVIDADE DE MATEMÁTICA

1- VAMOS CONHECER A PREFERÊNCIA DE UMA TURMA DE 1º ANO:



QUANTAS E QUAIS FORAM AS FRUTAS APRESENTADAS PARA A VOTAÇÃO?

QUAL FOI A FRUTA QUE MAIS TEVE VOTOS DAS CRIANÇAS?

QUAL FOI A FRUTA QUE TEVE MENOS VOTOS?

QUAL FOI A QUANTIDADE DE VOTOS QUE A LARANJA RECEBEU?

NOME: _____

PROFESSOR (A): _____ DATA: **3/7/2020**

ATIVIDADE DE MATEMÁTICA

1- OBSERVE E COMPLETE A SEQUÊNCIA NUMÉRICA.

1							8		
---	--	--	--	--	--	--	---	--	--


11				15					20
----	--	--	--	----	--	--	--	--	----

21			25				28		
----	--	--	----	--	--	--	----	--	--


31		33			36			39	
----	--	----	--	--	----	--	--	----	--

41			44			47			50
----	--	--	----	--	--	----	--	--	----

2- FAÇA UM X NO NÚMERO CORRESPONDENTE AS QUANTIDADES:



6 9 12



4 6 8



3 4 5



4 5 6


NOME: _____

PROFESSOR (A): _____ DATA: **6/7/2020**

ATIVIDADE DE MATEMÁTICA


LEIA E RESPONDA:

SR. COELHO ORELHUDO PRESENTEOU CAMILÃO COM 8 ALFACES E 9 CENOURAS. CAMILÃO NÃO PERCEBEU, MAS, CONVERSA VAI, CONVERSA VEM, AO IR EMBORA ACABOU ESQUECENDO 3 ALFACES E 4 CENOURAS. QUANTAS ALFACES E CENOURAS ELE CONSEGUIU LEVAR?




R: CONSEGUIU LEVAR _____ ALFACES E CENOURAS.

CAMILÃO TODO FELIZ DA VIDA, IA PARA CASA COM SUA CESTA ABARROTADA DE COMIDA. NA CESTA, 2 ABÓBORAS, 5 ESPIGAS DE MILHO E 6 BANANAS. NO CAMINHO ENCONTROU O AMIGO ESQUILO QUE LHE DEU DE PRESENTE 10 AVELÃS. QUAL O TOTAL DE COMIDA HAVIA DENTRO DA CESTA DE CAMILÃO?



R: HAVIA _____ DENTRO DA CESTA.

PARA COMPLEMENTAR A FESTA DA COMILANÇA, CAMILÃO ENCOMENDOU 15 LARANJAS COM SUA AMIGA COBRA E CONVIDOU 5 AMIGOS PARA SUA FESTA. QUANTAS LARANJAS CADA AMIGO CHUPOU?



R: CADA AMIGO CHUPOU _____ LARANJAS.