





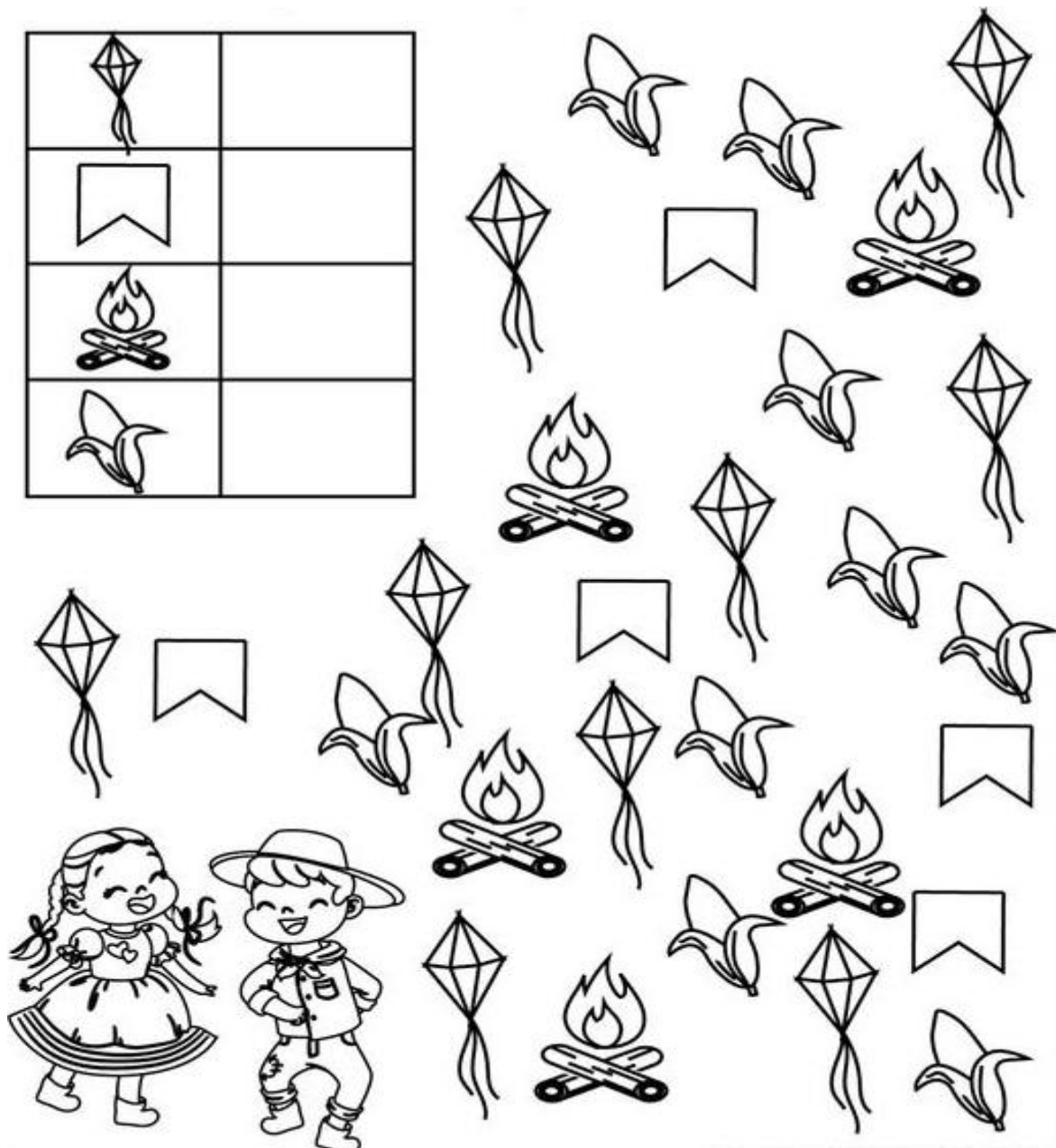
NOME: _____

PROFESSOR (A): _____ DATA: **18/6/2020**

ATIVIDADE DE MATEMÁTICA

CONTE QUANTOS ELEMENTOS TEM DE CADA ITEM E COLOQUE O NÚMERO CORRESPONDENTE NO QUADRO ABAIXO.




NOME: _____

PROFESSOR (A): _____ DATA: **22/6/2020**

ATIVIDADE DE MATEMÁTICA

1- SITUAÇÃO – PROBLEMA

TODA FESTA JUNINA TEM DELICIOSOS QUITUTES. MARIA, MÃE DA ALUNA JULIANA, COMPROU 5 PIPOCAS, 3 BOLOS DE FUBÁ, 4 MAÇÃS DO AMOR, 6 REFRIGERANTES. PINTE NO GRÁFICO ABAIXO OS ITENS QUE A MÃE DE JULIANA COMPROU. **(PARA PINTAR NO GRÁFICO, SEMPRE DE BAIXO PARA CIMA)**



A) QUAL ITEM A MÃE DE JULIANA COMPROU EM MAIOR QUANTIDADE?

B) QUAL ITEM A MÃE DE JULIANA COMPROU EM MENOR QUANTIDADE?

C) QUANTOS ITENS ELA COMPROU AO TODO?
