

E.M.E.F. PROFª CLARINDA DE ALMEIDA MELLO.  
1º ANO B SEMANA DE 22 à 26 de JUNHO de 2020.

PROFESSORAS: ELISÂNGELA BRUNHANI CAMPASSI

ELISÂNGELA NATALINA RODRIGUES SIMÕES

CRISTIANE APARECIDA PEDROSO POVIA

**MATEMÁTICA**

1. NO ALBUM DE ARTHUR CABEM EM UMA PÁGINA 15 FIGURINHAS E ELE JÁ COLOU 4. QUANTAS FIGURINHAS ESTÃO FALTANDO PARA ELE COMPLETAR ESSA PÁGINA?

R: \_\_\_\_\_

2. ANNA TEM UM ÁLBUM QUE CABEM 6 FIGURINHAS EM CADA PÁGINA. QUANTAS FIGURINHAS SERÃO NECESSÁRIAS PARA COMPLETAR DUAS PÁGINAS?



R: \_\_\_\_\_




### 3. VAMOS OBSERVAR JUNTOS, QUANTIFICAR E ESTIMAR



1. OBSERVANDO A IMAGEM, VOCÊ ACHA QUE TEM MAIS MENINOS OU MENINAS? \_\_\_\_\_

2. QUANTAS CRIANÇAS APARECEM NA IMAGEM?  
\_\_\_\_\_

4. MARIANA, NICOLAS E GUSTAVO SORTEARAM NUM JOGO ALGUNS NÚMEROS. REGISTRE NO ÚLTIMO QUADRO, O TOTAL DE PONTOS QUE CADA UM DELES TIROU:

MARIANA		5	6	TOTAL
NICOLAS		7	2	TOTAL
GUSTAVO		4	8	TOTAL

NO TOTAL QUEM TIROU UM NÚMERO MAIOR? \_\_\_\_\_

NO TOTAL QUEM TIROU UM NÚMERO MENOR? \_\_\_\_\_